

Министерство образования и науки Российской Федерации  
**Муромский институт (филиал)**  
федерального государственного бюджетного образовательного учреждения  
высшего образования  
**«Владимирский государственный университет  
имени Александра Григорьевича и Николая Григорьевича Столетовых»**  
(МИ ВлГУ)

**Отделение среднего профессионального образования**

**ФОНД ОЦЕНОЧНЫХ СРЕДСТВ  
ДЛЯ ТЕКУЩЕГО КОНТРОЛЯ И ПРОМЕЖУТОЧНОЙ АТТЕСТАЦИИ  
ПРИ ИЗУЧЕНИИ УЧЕБНОЙ ДИСЦИПЛИНЫ**

Основы экономической теории  
наименование дисциплины

38.02.01 Экономика и бухгалтерский учет  
код и наименование специальности

Программа подготовки специалистов среднего звена

Муром, 2017 г.

## ПАСПОРТ ФОНДА ОЦЕНОЧНЫХ СРЕДСТВ

Фонд оценочных средств (ФОС) для текущего контроля успеваемости и промежуточной аттестации по дисциплине «Основы экономической теории» разработан в соответствии с рабочей программой, входящей в программу подготовки специалистов среднего звена по специальности «Экономика и бухгалтерский учет (по отраслям)»

№№ п/п	Контролируемые разделы (темы) дисциплины	Код контролируемой компетенции (или ее части)	Наименование оценочного средства
1	Введение в экономическую теорию	ОК 1, ОК 9, ПК 1.1	Вопросы к устному опросу, тесты, практические задания
2	Микроэкономика	ОК 1, ОК 4, ОК 9, ПК 1.1	Вопросы к устному опросу, тесты, практические задания
3	Макроэкономика	ОК 1, ОК 4, ОК 9, ПК 1.1, ПК 1.3	Вопросы к устному опросу, тесты, практические задания

Фонд оценочных средств по дисциплине «Основы экономической теории» предназначен для аттестации обучающихся на соответствие их персональных достижений поэтапным требованиям образовательной программы, в том числе рабочей программы дисциплины «Основы экономической теории», для оценивания результатов обучения: знаний и умений.

Фонд оценочных средств по дисциплине «Основы экономической теории» включает:

- комплект задач репродуктивного уровня, позволяющие оценивать и диагностировать знание фактического материала и умение правильно использовать специальные термины и понятия, распознавание объектов изучения в рамках определенного раздела дисциплины;
- вопросы к устному опросу, предназначенные для закрепления лекционного материала;
- тесты как система стандартизированных знаний, позволяющая провести процедуру измерения уровня знаний и умений обучающихся.

2. Оценочные средства для проведения промежуточной аттестации в форме:  
Итогового теста для проведения дифференцированного зачета.

**Перечень компетенций, формируемых в процессе изучения дисциплины «Основы экономической теории» при освоении программы подготовки специалистов среднего звена по специальности 38.02.01 «Экономика и бухгалтерский учет (по отраслям)»**

<b>ОК 1. Понимать сущность и социальную значимость своей будущей профессии, проявлять к ней устойчивый интерес.</b>	
<b>Знать</b>	<b>Уметь</b>
общие положения экономической теории	применять инструменты микро- и макроэкономического анализа для решения профессиональных задач
<b>ОК 4. Осуществлять поиск и использование информации, необходимой для эффективного выполнения профессиональных задач, профессионального и личностного.</b>	
<b>Знать</b>	<b>Уметь</b>
основные микро- и макроэкономические категории и показатели	выявлять проблемы экономического характера при анализе конкретных ситуаций, предлагать способы их решения с учетом действия экономических закономерностей на микро- и макроуровнях
<b>ОК 9. Ориентироваться в условиях частой смены технологий в профессиональной деятельности.</b>	
<b>Знать</b>	<b>Уметь</b>
методы расчета основных микро- и макроэкономических показателей	оперировать основными категориями и понятиями экономической теории
<b>ПК 1.1. Обрабатывать первичные бухгалтерские документы.</b>	
<b>Знать</b>	<b>Уметь</b>
рыночный механизм функционирования экономики	использовать источники экономической информации
<b>ПК 1.3. Проводить учет денежных средств, оформлять денежные и кассовые документы.</b>	
<b>Знать</b>	<b>Уметь</b>
рыночный механизм функционирования экономики	ориентироваться в вопросах функционирования денежно-кредитной сферы

**Показатели, критерии и шкала оценивания компетенций текущего контроля знаний по учебной дисциплине «Основы экономической теории»**

Текущий контроль знаний, согласно положению о проведении текущего контроля успеваемости и промежуточной аттестации обучающихся (далее Положение) в рамках изучения дисциплины «Основы экономической теории» предполагает устный опрос, тестирование, представление доклада по отдельным темам дисциплины.

**Регламент проведения и оценивание устного опроса**

В целях закрепления практического материала и углубления теоретических знаний по темам дисциплины «Основы экономической теории» предполагается выполнение устных опросов студентов, что позволяет углубить процесс познания, раскрыть понимание прикладной значимости осваиваемой дисциплины.

### Регламент проведения мероприятия

№	Вид работы	Продолжительность
1.	Предел длительности устного опроса	15 мин.
	Итого (в расчете на один опрос)	15 мин.

### Критерии оценки устного опроса

Оценка	Критерии оценивания
1 балл	<i>Ответ на вопрос раскрыт полностью или при верном ответе допущена незначительная ошибка, не влияющая на правильную последовательность рассуждений.</i>
0,5 баллов	<i>Ответ дан частично.</i>
0 баллов	<i>Ответ неверен или отсутствует.</i>

### Регламент проведения и оценивание тестирования студентов

В целях закрепления практического материала и углубления теоретических знаний по разделам дисциплины «Основы экономической теории» предполагается выполнение тестирования студентов, что позволяет углубить процесс познания, раскрыть понимание прикладной значимости осваиваемой дисциплины.

### Регламент проведения мероприятия

№	Вид работы	Продолжительность
1.	Предел длительности тестового задания (6 заданий из блока «знать» и 4 задания из блока «уметь»)	15 мин.
	Итого (в расчете на тест)	15 мин.

### Критерии оценки тестирования студентов

Оценка выполнения тестов	Критерии оценки
<i>0,5 балла за правильный ответ на 1 вопрос из блока «знать» и 1 балл за правильный ответ на 1 вопрос из блока «уметь»</i>	<i>правильно выбранный вариант ответа (в случае закрытого теста), правильно вписанный ответ (в случае открытого теста)</i>

### **Регламент проведения и оценивание решения задач**

В целях закрепления практического материала и углубления теоретических знаний по разделам дисциплины «Основы экономической теории» предполагается выполнение практических заданий и решение задач, что позволяет углубить процесс познания, раскрыть понимание прикладной значимости осваиваемой дисциплины.

### **Регламент проведения мероприятия**

№	Вид работы	Продолжительность
1.	Предел длительности решения задачи	3 мин.
2.	Внесение исправлений в представленное решение	2 мин.
3.	Комментарии преподавателя	1 мин.
	Итого (в расчете на одну задачу)	6 мин.

### **Критерии оценки решения задач**

Оценка	Критерии оценивания
5 баллов	задачи решены полностью, в представленном решении обоснованно получен правильный ответ
4 балла	задачи решены полностью, но нет достаточного обоснования или при верном решении допущена вычислительная ошибка, не влияющая на правильную последовательность рассуждений, и, возможно, приведшая к неверному ответу
2 балла	задачи решены частично
0 баллов	решение неверно или отсутствует

# ОЦЕНОЧНЫЕ СРЕДСТВА ДЛЯ ТЕКУЩЕГО КОНТРОЛЯ ЗНАНИЙ ПО УЧЕБНОЙ ДИСЦИПЛИНЕ «Основы экономической теории»

## Рейтинг-контроль №1

### Блок 1 «Знать»

*Перечень вопросов для устного опроса*

1. Меркантилизм (ранний и поздний)
2. Физиократия
3. Классическая школа
4. Марксизм
5. Неоклассическая школа
6. Кейнсианство
7. Институционализм
8. Монетаризм
9. Особенности экономической мысли в России (18 в)
10. Определение экономической системы
11. Критерии сравнения экономических систем
12. Модели экономических систем (германская, американская, шведская, японская, китайская, российская модель переходной экономики (определение переходной экономики))
13. Определение собственности как экономической категории и ее 3 элемента
14. Формы собственности, плюсы и минусы частной формы собственности
15. Определение приватизации, цели приватизации и национализации
16. Методы приватизации в странах с переходной и рыночной экономикой
17. Характеристика натурального и товарного производства
18. Условия возникновения товарного производства
19. Определение рынка, его элементы
20. Функции рынка
21. Преимущества рынка
22. Недостатки рынка
23. Структура экономических отношений (социально-экономические, организационно-экономические, технико-технологические)
24. Понятие общественного производства
25. Стадии общественного производства (4)
26. Типы общественного производства (2-3)
27. Схема экономического кругооборота (домашние хозяйства и фирмы)
28. Понятие и функции домашних хозяйств, фирм, государства в экономическом кругообороте
29. Понятие и классификация потребностей
30. Понятие и классификация экономических ресурсов
31. Понятие и классификация факторов производства
32. Понятие и классификация благ

*Тестовые задания*

1. Если рыночная система не может существовать без четырех основных условий, то товарное производство может базироваться только на двух из них, каких?
  - а) общественное разделение труда;
  - б) экономическое обособление;
  - в) многообразие субъектов рынка;
  - г) правомочность субъектов рынка в заключении сделок.

2. Традиционное хозяйство характеризуется наличием:
- а) крупного машинного производства в значительной части отраслей хозяйства;
  - б) значительной долей ручного труда;
  - в) значительной дифференциацией доходов населения;
  - г) значительным влиянием на производство и управление государством кровнородственных связей.
3. Характеристика административно-командной системы не включает следующие условия:
- а) наличие государственной формы собственности;
  - б) наличие государственной формы хозяйствования;
  - в) наличие крупного машинного производства;
  - г) наличие многообразных субъектов рынка.
4. В смешанной экономике роль государства:
- а) никак не проявляется;
  - б) ограничена;
  - в) значительна;
  - г) проявляется во всех секторах хозяйств.
5. Какая из характеристик не относится к рыночной экономике:
- а) конкуренция;
  - б) частная собственность;
  - в) централизованное планирование;
  - г) свобода предпринимательского выбора.
6. Когда экономические проблемы решаются частично рынком, частично правительством, то экономика:
- а) командная;
  - б) рыночная;
  - в) натуральная;
  - г) смешанная.
7. Простое товарное производство характеризуется наличием:
- а) множества продавцов;
  - б) множества покупателей;
  - в) регулированием цен со стороны государства;
  - г) конкуренцией среди субъектов рынка.
8. Особенностью простого товарного производства в отличие от рыночного хозяйства является:
- а) наличие частной собственности;
  - б) совмещение в одном лице и собственника средств производства, и непосредственного производителя;
  - в) свобода предпринимательского выбора;
  - г) невмешательство государства в деятельность отдельного субъекта.
9. Смешанная экономика характеризуется только:
- а) наличием крупного машинного производства;
  - б) натуральным хозяйством;
  - в) сочетанием крупного машинного производства и натурального хозяйства;
  - г) сочетанием всех известных экономических укладов.

10. Социально ориентированная рыночная экономика присуща странам:
- а) с высоким уровнем развития производства;
  - б) с низким уровнем развития производства;
  - в) постсоциалистического периода;
  - г) Азии и Африки.
11. Какой признак характеризует традиционную экономику?
- а) централизованное ценообразование
  - б) регулирование производства при помощи обычаев
  - в) конкуренция свободных производителей на рынке товаров
  - г) преобладание частной собственности на средства производства
12. Что характеризует командную экономику?
- а) свобода предпринимательской деятельности
  - б) многообразие форм собственности
  - в) преобладание сельского хозяйства
  - г) централизованное ценообразование
13. Какой признак характеризует рыночную экономику?
- а) государственная собственность на средства производства
  - б) уравнивающее распределение производимых благ
  - в) свободная конкуренция товаропроизводителей
  - г) незаинтересованность производителя в результатах труда
14. В каком из вариантов правильно названы все типы экономических систем?
- а) традиционная, рыночная, тоталитарная, смешанная
  - б) централизованная, капиталистическая, традиционная, развитая
  - в) смешанная, рыночная, командная, традиционная
  - г) демократическая, традиционная, феодальная, централизованная
15. Какую экономическую систему характеризует следующий пример:  
Вопросы производства и распределение продукции жестко регламентируются государством, государство устанавливает цены на продукцию:
- а) Командную (плановую)
  - б) Свободную рыночную экономику
  - в) Социально ориентированное рыночное хозяйство
  - г) Традиционную экономику
16. В приведенном ниже перечне отметьте типы экономических систем:
- а) продвинутая
  - б) командная
  - в) традиционная
  - г) промышленная
  - д) индустриальная
  - е) рыночная
  - ж) технотронная
  - з) смешанная
17. Экономическими субъектами в рыночной экономике являются...
- а) фирмы, государство, домохозяйства
  - б) домохозяйства, наемные работники, предприниматели
  - в) предприятия, аудиторские фирмы, финансово-промышленные группы



- г) государство, банки, инвестиционные фонды
18. В сферу производственного потребления не поступают
- а) орудия труда
  - б) средства производства
  - в) предметы труда
  - г) предметы потребления
19. Для германской модели смешанной экономики характерно...
- а) наличие широкой системы перераспределения доходов
  - б) формирование многослойной институциональной структуры субъектов социальной политики
  - в) наличие высокого уровня социальной дифференциации
  - г) социальное значение корпоративного начала
20. К основным чертам шведской экономической системы относят...
- а) высокую степень социализации экономики
  - б) ориентацию на достижение личного успеха
  - в) развитую систему пожизненного найма
  - г) наличие большой доли крупного предпринимательства
21. Для американской модели не характерно...
- а) сильная социальная политика
  - б) поощрение предпринимательской активности
  - в) низкий удельный вес государственного сектора
  - г) высокий уровень дифференциации доходов населения
22. Характерным для американской модели смешанной экономики является...
- а) наличие высокого уровня социальной дифференциации
  - б) формирование многослойной институциональной структуры субъектов социальной политики
  - в) наличие широкой системы перераспределения доходов
  - г) социальное значение корпоративного начала
23. Характерным для японской модели смешанной экономики является...
- а) социальное значение корпоративного начала
  - б) широкая система перераспределения доходов
  - в) активная роль государства в программировании экономического развития
  - г) наличие высокого уровня социальной дифференциации
24. Сохранение традиций и направленность на производство высокотехнологичной продукции - это особенность...
- а) японской модели
  - б) российской модели переходного типа
  - в) шведской модели
  - г) американской модели
25. Дифференциация доходов и сильная конкуренция - это особенность...
- а) японской модели

- б) российской модели переходного периода
- в) шведской модели
- г) американской модели

26. Разграничьте средства и предметы труда;

- а) инструменты, механизмы, машины, автоматы;
- б) полезные ископаемые, данные природой;
- в) трубы, сосуды, бочки, цистерны;
- г) здания, дороги, каналы;
- д) сырье, поступающее в дальнейшую обработку

27. Разграничьте материальные, духовные и социальные потребности:

- а) одежда;
- б) ремонт автомобиля;
- в) участие в городском субботнике;
- г) консультация юриста;
- д) жилье;
- е) потребность фирмы в автотранспорте;
- ж) благотворительность;
- з) удаление аппендикса;
- и) посещение филармонических концертов;
- к) посещение лекции по архитектуре города.

28. Три основных фактора производства — это труд, земля (природные ресурсы), капитал (капитальные затраты). Какая из нижеперечисленных групп включает в себя все три составляющие:

- а) воздух, ученые, автомобили;
- б) предприниматели, деньги, рента;
- в) рабочие, станки, здания;
- г) нефть, газопровод, ювелирные изделия?

29. Верны ли следующие утверждения:

- а) проблема редкости ресурсов разрешима на пути ограничения потребностей (да, нет);
- б) ограниченное благо обязательно является редким (да, нет);
- в) линия производственных возможностей показывает максимальное количество благ, которое можно произвести в данной экономической системе с данными ресурсами (да, нет);
- г) продукты питания не являются ресурсами (да, нет)?

30. Проблема редкости может быть решена, если:

- а) люди смогут отказаться от конкуренции в пользу сотрудничества;
- б) будут открыты неисчерпаемые источники энергии;
- в) все страны мира станут постиндустриальными обществами;
- г) все сказанное неверно.

## **Блок 2 «Уметь»**

1. Дайте комментарий к следующему утверждению: «Экономическая теория была бы не нужна, если бы все люди могли получать желаемое в неограниченных количествах».

2. Насколько теоретически состоятельным является лозунг «От каждого по способностям, каждому по потребностям»? Ответ объясните.

3. В первый день выдачи зарплаты у кассы скапливается огромная очередь. Представьте себя на месте главного бухгалтера. Посоветуете ли Вы своему кассиру вывесить у окошка табличку с просьбой ко всем тем, кому не так срочно нужны деньги, прийти nasledующий день? Чем Вы руководствуетесь при ответе на поставленный вопрос?

4. Харви Маккей в своей книге «Как уцелеть среди акул» пишет: «...предпринимательская деятельность осуществляется людьми. Не все занимаются ею только ради того, чтобы делать деньги. Так, тренер по боксу, Джил Кленси, выразился по этому поводу в своем стиле, как бы нанося противнику удар в физиономию: «Я занимаюсь этим делом уже более тридцати лет и не бросаю его не потому, что стремлюсь разбогатеть. Я хочу расквитаться кое с кем». Предпринимательской деятельности посвящают себя самые разные люди, помните об этом друзья». Какой модели человека в большей степени соответствует такой взгляд на предпринимателей?

5. «Если плату за проезд в городском транспорте поднимут вдвое, я буду ходить на работу пешком. Я, конечно, буду опаздывать, но зато это обойдется дешевле, да и что может быть лучше прогулки утром на свежем воздухе!» Как Вы считаете, можно ли назвать такое поведение рациональным?

6. «Современное производство — это сложный, громоздкий механизм; для нормального его функционирования необходим мощный управляющий орган, который бы корректировал спонтанный рыночный порядок для создания более благоприятных условий, в которых успешно проявляла себя личная инициатива».

«Современное производство — это сложная система, основанная на принципе саморегулирования, создающая благоприятные возможности для реализации каждым человеком своих способностей».

Какое из двух высказываний принадлежит стороннику кейнсианской модели человека? Классической модели? Вы как руководитель предприятия придерживались бы первой или второй точки зрения?

7. В метро в час пик на эскалаторе скапливается большое количество пассажиров. Слева, как правило, пассажиры проходят вперед, справа — стоят. Кто распределяет их по рядам? Кто определяет Ваше место на эскалаторе? Помогают ли указания диспетчера типа: «Стойте справа, проходите слева» определить каждому его место, меняют ли они что-либо в работе эскалатора?

8. Вы получили садовый участок и отправляетесь туда весной сажать деревья и культивировать огород. Точно так же поступают и другие садоводы-любители. В чьих интересах Вы действуете? В чьих интересах действует правительство Москвы, принимая решение о выделении участков под разведение картофеля в подмосковной зоне?

9. Знаменитый американский философ Альфред Норт Уайтхед в своей книге «Приключение идей» так характеризует «экономического человека»: «Его прелесть в том, что он всегда и во всем предсказуем. Не только он сам, но и его соседи всегда знают, чего он хочет... Его отец и дед имели те же самые желания и точно так же удовлетворяли их. Где бы ни возникала какая нехватка, экономический человек в первую очередь узнает, чего именно недостает и как удовлетворить потребителя... Все это восхитительно просто и, Предмет экономической теории если надлежащим образом поразмыслить, даже

очевидно... Но как только мы имеем дело с социальной системой, подверженной значительному изменению, эта простейшая картина человеческих отношений должна будет рассматриваться уже совсем по-другому». Почему мы все-таки используем абстрактную модель «экономического человека»?

10. При переходе к рыночным отношениям в России были нарушены оптимальные пределы дифференциации доходов. В сложившихся условиях необходимо повысить роль налоговой системы в устранении столь резкой дифференциации в уровнях дохода различных социальных групп.

Определите элементы нормативного и позитивного анализа в приведенных выше положениях.

11. Каковы могут быть, на Ваш взгляд, проявления закона непредвиденных последствий в следующих ситуациях:

а) для ослабления социальной напряженности правительство резко увеличило пособие по безработице;

б) с уходом в историю эры «холодной войны» в ряде слаборазвитых стран были ликвидированы военные базы сверхдержав.

12. Расположите в исторической последовательности их возникновения следующие экономические школы:

кейнсианство, физиократы, маржинализм, классическая школа, неоклассическое направление, меркантилизм.

13. В индийской притче о Будде и его ученике говорится: «Будда спросил ученика: «Кто там идет по дороге?» — «Красивая молодая женщина», — ответил ученик. — «Точнее!» — потребовал Будда. — «Молодая женщина». — «Точнее!» — «Женщина». — «Точнее!» — «Человек». — «Точнее!» — «Скелет».

При каком ответе ученика теряется, на Ваш взгляд, познавательная ценность абстракции? Почему?

14.. Известный лингвист, писатель Лев Успенский в своей книге «Слово о словах» замечает: «По-австралийски (имеется в виду язык аборигенов — прим. авт.) нельзя сказать: «На холме стоит дерево, а на нем сидит птица». Австралиец выразится непременно так: «Стоит каури, а на нем сидит какаду»; или «Стоит эвкалипт, а под ним — эму». Он обязательно назовет породу и растения, и животного». Как Вам кажется, почему в языке австралийских аборигенов отсутствуют понятия «дерево», «птица» и т. п.? Связано ли это с определенной степенью в развитии человеческого мышления?

15. Насколько верны следующие умозаключения:

а) если увеличится моя денежная зарплата — это хорошо для меня. Если профсоюзы во всех отраслях добьются повышения зарплаты — это хорошо для экономики страны в целом?

б) если один владелец фабрики уменьшит зарплату своим рабочим, его издержки сократятся — это хорошо для него; если все предприниматели поступят так же — это хорошо для всего класса предпринимателей страны в целом?

в) я нашел лазейку в законодательстве и не плачу налогов — это хорошо для меня (увеличились мои доходы); все взрослое население страны нашло лазейки в законодательстве и не платит налогов — это хорошо для всего населения?

## Рейтинг-контроль №2

### Блок 1 «Знать»

#### *Перечень вопросов для устного опроса*

1. Механизм рыночного регулирования.
2. Спрос и предложение: понятие, классификация, цена, объем (величина), закон спроса и предложения, функции спроса и предложения (в общем виде и по цене).
3. Эластичность спроса и предложения.
4. Равновесие на рынке: понятие, понятие устойчивого и неустойчивого равновесия, два подхода к установлению устойчивого равновесия (по Л. Вальрасу по А. Маршаллу).
5. Паутинообразная модель равновесия. Типы равновесия (мгновенное, краткосрочное, длительное).
6. Основные понятия и предпосылки теории потребительского поведения.
7. Кардиналистская (количественная) теория потребительского поведения.
8. Ординалистская (порядковая) теория потребительского поведения. Типы кривых безразличия.
9. Издержки производства. Равновесие фирмы.
10. Производственная функция. Изокванта и изокоста. Оптимум производителя.
11. Понятие «доход». Классификация доходов. Закон убывающей доходности.
12. Прибыль и рентабельность.
13. Поведение фирмы в условиях совершенной конкуренции в краткосрочном периоде: спрос, общий и предельный доход, их взаимосвязь; кривая спроса конкурентной фирмы; выбор объема производства на краткосрочный период, кривая краткосрочного предложения.
14. Поведение фирмы в условиях совершенной конкуренции в долгосрочном периоде.
15. Поведение фирмы в условиях монополии.
16. Поведение фирмы в условиях монополистической конкуренции.
17. Общественные издержки монопольной власти.
18. Механизм функционирования рынка труда.
19. Простая модель спроса на труд.
20. Модифицированные модели спроса на труд: монополия на рынке продукта, монополия на рынке труда.
21. Долгосрочный спрос фирмы на труд.
22. Прямая эластичность спроса по заработной плате и перекрестная эластичность
23. Капитал: сущность и формы. Кругооборот и оборот капитала.
24. Рынок капитала. Процентная ставка.
25. Инвестиции. Источники инвестиционных ресурсов. Дисконтированная стоимость.
26. Рынок земли: спрос и предложение. Цена земли.

#### *Тестовые задания*

1. Эластичность спроса по цене изменяется под влиянием такого фактора, как...
  - а) ... способность товара к длительному хранению.
  - б) ... принадлежность данного товара к предметам роскоши или товарам первой необходимости.
  - в) ... особенности производственного процесса.
  - г) ... наличие товаров-заменителей.
2. Какое из следующих утверждений не относится к характеристике неэластичного спроса на товар:

а) данный товар является для потребителей товаром первой необходимости  
б) относительное изменение объема спроса меньше, чем относительное изменение цены  
в) период времени, в течение которого предъявляется спрос, является очень коротким

г) имеется большое число товаров-заменителей  
д) покупатели расходуют на его покупку незначительную долю своего дохода

3. Коэффициент ценовой эластичности спроса равен:

а) ни одному из приведенных показателей  
б) изменению общей выручки (в %), деленному на увеличение объема спроса (в %)  
в) уменьшению общей выручки (в %), деленному на увеличение цены (в %)  
г) изменению объема спроса (в %), деленному на изменение цены (в %)  
д) уменьшению цены, деленному на увеличение объема спроса

4. Фирма производит и продает два товара: А и Б. А имеет много заменителей; Б занимает значительную долю в расходах потребителей. Увеличение цены на каждый товар приведет к:

а) увеличению выручки от продажи товара А и товара Б  
б) сокращению выручки от продажи товара А и увеличению выручки от продажи товара Б  
в) тому, что выручка от продажи товара А и товара Б останется неизменной  
г) сокращению выручки от продажи товара А и товара Б  
д) увеличению выручки от продажи товара А и сокращению выручки от продажи товара Б

5. Производитель товара Х снизил цену на свой товар на 5%, в результате чего объем продаж вырос на 4%. Спрос на товар Х является:

а) неэластичным  
б) абсолютно эластичным  
в) спросом единичной эластичности  
г) не представляется возможным ответить на вопрос  
д) эластичным

6. Какое из указанных ниже значений коэффициента эластичности по доходу относится к товарам первой необходимости:

а) 1  
б) больше 0, но меньше 1  
в) меньше 0  
г) ни одно из приведенных значений  
д) больше 1

7. Если любое количество товара продается по одинаковой цене, то спрос на этот товар является:

а) спросом единичной эластичности  
б) абсолютно неэластичным  
в) абсолютно эластичным  
г) эластичным  
д) неэластичным

8. Какое из следующих утверждений не относится к характеристике эластичного спроса на товар:

- а) относительное изменение объема спроса больше, чем относительное изменение цены
- б) коэффициент ценовой эластичности меньше единицы
- в) общая выручка продавца растет, если цена уменьшается
- г) покупатели относительно чутко реагируют на изменения цены
- д) общая выручка продавца сокращается, если цена растет
9. Кривая абсолютно неэластичного спроса представляет собой:
- а) вертикальную линию
- б) прямую линию с отрицательным наклоном
- в) кривую линию
- г) горизонтальную линию
- д) кривую линию с положительным наклоном
10. Эластичность предложения зависит главным образом от:
- а) того, относится ли данный товар к предметам длительного пользования или текущего потребления
- б) числа товаров-заменителей данного продукта
- в) того, является ли данный товар предметом первой необходимости или роскоши
- г) периода времени, в течение которого продавцы могут приспособиться к изменениям цен
- д) доли дохода потребителя, направляемой на покупку данного товара
11. Неэластичный спрос означает, что:
- а) рост цены на 1% приводит к сокращению величины спроса менее чем на 1%
- б) рост цены на 1% приводит к сокращению величины спроса более чем на 1%
- в) ни одно из утверждений не является верным
- г) любое изменение цены не приводит к изменению общей выручки
- д) рост цены на 1% не влияет на величину спроса
12. Ценовая эластичность спроса будет выше:
- а) чем менее необходим товар потребителю
- б) ни в одном из перечисленных случаев
- в) на товары первой необходимости, чем на предметы роскоши
- г) в тех случаях, когда потребители используют данный товар с наибольшей пользой для себя
- д) чем больше альтернативные издержки производства товаров
13. Если цена товара неэластичного спроса выросла с 7 до 8 дол., то выручка:
- а) абсолютно эластична
- б) осталась неизменной
- в) абсолютно неэластична
- г) сократилась
- д) выросла
14. Товар можно отнести к недоброкачественным, если:
- а) ценовая эластичность его спроса равна 1,3
- б) перекрестная эластичность его спроса равна  $-0,7$
- в) перекрестная эластичность его спроса равна  $0,1$
- г) эластичность его спроса по доходу равна  $-0,5$
- д) эластичность его спроса по доходу равна 1,3

15. Ценовая эластичность спроса будет расти с увеличением продолжительности периода, в течение которого предъявляется спрос, так как:

- а) потребители смогут приобрести товары-заменители
- б) все ответы верны
- в) вырастет общий уровень цен
- г) доходы потребителей увеличатся
- д) произойдет сдвиг вправо кривой спроса

16. Сокращение предложения товара ведет к увеличению:

- а) спроса на этот товар
- б) общей выручки продавца, если спрос на товар является неэластичным по доходу
- в) спроса на взаимодополняемые товары
- г) спроса на взаимозаменяемые товары
- д) общей выручки продавца, если спрос на товар является эластичным по цене

17. Если уменьшение цены на 5% приводит к снижению объема предложения на 8%, то данное предложение:

- а) неэластично
- б) абсолютно неэластично
- в) единичной эластичности
- г) абсолютно эластично
- д) эластично

18. Если спрос на сельскохозяйственную продукцию неэластичен, то при хорошем урожае доходы фермеров:

- а) сократятся, так как относительное снижение цен окажется большим, чем относительное увеличение объема продаж
- б) вырастут, так как произойдет увеличение цен на продукцию, вызванное повышением спроса
- в) останутся неизменными, так как относительное увеличение объема продаж будет равно относительному снижению цен не представляется возможным ответить на вопрос.
- г) вырастут, так как увеличится объем продаваемой продукции

19. Если однопроцентное сокращение цены на товар приводит к двухпроцентному увеличению объема спроса на него, то этот спрос:

- а) абсолютно неэластичный
- б) абсолютно эластичный
- в) единичной эластичности
- г) неэластичный
- д) эластичный

20. Примером переменных факторов производства может быть:

- а) электроэнергия;
- б) сырье;
- в) верно а) и б);
- г) все перечисленные ответы неправильны.

21. Верны ли утверждения:

- а) максимизация прибыли обозначает минимизацию общих издержек на единицу выпуска продукции (да, нет);
- б) если цена равна средним переменным издержкам, то в краткосрочном периоде фирма должна прекратить свою деятельность (да, нет);



- в) равновесие отрасли в долгосрочном периоде устанавливается при условии, что происходит ликвидация экономической прибыли у всех фирм, занятых в отрасли (да, нет);
- г) если для олигополиста цена оказывается меньше средних издержек, ему следует уйти из отрасли (да, нет)?

22. Равновесие производителя (фирмы) определяется законом:

- а) равенства спроса и предложения;
- б) максимизации выпуска;
- в) равенства взвешенных предельных производственных факторов производства;
- г) минимизации расходов производственных факторов.

24. Фирма обладает властью, если она:

- а) устанавливает цену на уровне предельных издержек;
- б) следует за ценой, которую устанавливает лидер на рынке;
- в) устанавливает цену на уровне средних переменных издержек;
- г) устанавливает цену исходя из кривой спроса.

25. Верны ли утверждения:

- а) в условиях совершенной конкуренции фирмы не получают экономической прибыли в долгосрочной перспективе (да, нет);
- б) в условиях совершенной конкуренции кривая спроса на продукцию фирмы на эластична (да; нет);
- в) в условиях совершенной конкуренции спрос на продукцию отрасли представляет собой горизонтальную линию (да, нет);
- г) ценовая дискриминация невозможна, если все потребители одинаковы (да, нет);
- д) если рыночная цена выше средних издержек монополиста, он может получить больше прибыли, увеличивая выпуск (да, нет);
- е) олигополист максимизирует прибыль, когда его предельные издержки равны его предельной выручке (да, нет);
- ж) в краткосрочном периоде монополия получает экономическую прибыль (да, нет)?

## Блок 2 «Уметь»

1. Цена апельсинов повысилась с 10 ден. ед. до 14 ден. ед. Объем спроса вырос с 65 до 80 тонн в неделю. Коэффициент точечной ценовой эластичности спроса равен...

2. Если цена товара выросла с 1,5 долл. до 2 долл., а объем спроса сократился с 1000 до 900 единиц, то коэффициент точечной ценовой эластичности спроса равен...

3. Если равновесная цена равна 4 д.ед., а спрос и предложение заданы функциями:  $Q_d = 60 - 10,5P$  и  $Q_s = 24P - 29$  соответственно, то на рынке сложится ситуация излишка \_\_\_ ед. товара.

4. Предприятие выращивает арбузы. Если постоянные затраты = 40 д.ед., цена 10 д.ед., то прибыль фермера при производстве 30 ед. составит...

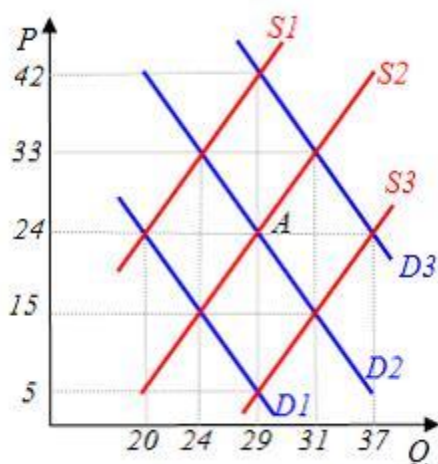
Количество	0	10	20	30	40	50	60
Переменные издержки	0	40	75	110	130	160	200

5. Предприятие выращивает арбузы. Если постоянные затраты = 40 д.ед., цена 10 д.ед., то прибыль фермера при производстве 40 ед. составит...

Количество	0	10	20	30	40	50	60
Переменные издержки	0	40	75	110	130	160	200

6. Если инфляция за январь составила 10%, а за февраль 20%, то инфляция за январь-февраль месяц будет равна \_\_\_\_ %.

7. На графике исходное рыночное равновесие соответствует точке А. Если цена вырастет до уровня  $P=33$ , то какая ситуация сложится на рынке (дефицит или излишек и чему равен)?



8. В 2014 году номинальный ВВП Республики Вилариби увеличился по сравнению с предшествующим годом на 500 млн. экю и составил 3000 млн. экю. Если дефлятор ВВП равен 1,25, то как изменится реальный ВВП

9. Функция спроса на продукцию монополиста:  $Q_D = 16 - P$ , функция общих издержек:  $TC = 14 + Q^2$ , тогда максимальную прибыль монополисту обеспечат цена и объем продаж, соответственно, равные ...

10. Используя данные таблицы, рассчитайте предельные издержки производства второй единицы продукции

Объем производства, ед.	1	2	3
Средние постоянные издержки, руб.	60	30	20
Средние переменные издержки, руб.	100	75	70

11. Предприятие за месяц выпускает и реализует 100 вентилях. Если затраты на производство составляют 12000 ден. ед., а средняя прибыль равна 50 ден. ед., то валовой доход фирмы равен...

12. Функция спроса задана как  $Q_d = 60 - 5P$

Функция предложения задана как  $Q_s = 15P - 40$

Найдите доход продавца при продаже равновесного объема товара

13. Функция спроса задана как  $Q_d = 60 - 5P$

Функция предложения задана как  $Q_s = 15P - 40$

Найдите равновесный объем продаж

14. Функция спроса задана как  $Q_d = 60 - 5P$

Функция предложения задана как  $Q_s = 15P - 40$

Найдите равновесную цену

15. Функция спроса задана как  $Q_d = 60 - 5P$

Функция предложения задана как  $Q_s = 15P - 40$

Найдите доход продавца при условии, что введен налог на бизнес в размере 2 руб. за каждую проданную единицу продукции

16. Функция спроса задана как  $Q_d = 60 - 5P$

Функция предложения задана как  $Q_s = 15P - 40$

Найдите равновесный объем продаж при условии, что введен налог на бизнес в размере 2 руб. за каждую проданную единицу продукции

17. Функция спроса задана как  $Q_d = 60 - 5P$

Функция предложения задана как  $Q_s = 15P - 40$

Найдите равновесную цену при условии, что введен налог на бизнес в размере 2 руб. за каждую проданную единицу продукции

18. Функция спроса задана как  $Q_d = 60 - 5P$

18. Функция предложения задана как  $Q_s = 15P - 40$

Найдите сумму собранного налога при условии, что введен налог на бизнес в размере 2 руб. за каждую проданную единицу продукции

19. Функция спроса задана как  $Q_d = 60 - 5P$

19. Функция предложения задана как  $Q_s = 15P - 40$

Какая ситуация будет на рынке и чему будет равен дефицит или излишек, если цена продукции будет равна 4 руб.

20. Функция спроса задана как  $Q_d = 60 - 5P$

Функция предложения задана как  $Q_s = 15P - 40$

Какая ситуация будет на рынке и чему будет равен дефицит или излишек, если цена продукции будет равна 6 руб.

21. Функция спроса задана как  $Q_d = 60 - 5P$

Функция предложения задана как  $Q_s = 15P - 40$

Какая ситуация будет на рынке и чему будет равен дефицит или излишек, если цена продукции будет равна 7 руб.

### Рейтинг-контроль №3

#### Блок 1 «Знать»

##### *Перечень вопросов для устного опроса*

1. Предмет и объект макроэкономики. Основные макроэкономические проблемы
2. Методы макроэкономического анализа
3. Система национальных счетов и показатели развития национальной экономики
4. ВВП в системе национальных счетов
5. Методы расчета ВВП
6. Взаимосвязь макроэкономических показателей
7. Понятие совокупного спроса. Основные компоненты совокупного спроса.
8. Кривая совокупного спроса. Причины её отклонения вниз: эффект процентной ставки, эффект богатства и эффект импортных закупок.
9. Неценовые факторы совокупного спроса. Сдвиги кривой совокупного спроса.

10. Понятие совокупного предложения. Графическое отображение совокупного предложения.
11. Неценовые факторы совокупного предложения. Сдвиги кривой совокупного предложения.
12. Равновесие между совокупным спросом и совокупным предложением. Компоненты совокупных расходов.
13. Кейнсианская модель «расходы-доходы».
14. Расходы на потребление. Функция потребления
15. Сбережения и инвестиции.
16. Бюджетно-налоговая политика: содержание, цели и инструменты.
17. Государственный бюджет: доходы и расходы.
18. Дефицит бюджета, бюджетные излишки. Проблема сбалансированности бюджета
19. Государственные расходы и налоги, их виды.
20. Виды налогов и налоговая система государства
21. Бюджетная политика государства
22. Виды бюджетно-налоговой политики. Понятие и функции денег.
23. Эволюция денежной системы.
24. Предложение денег и банковская система.
25. Функции Центрального банка.
26. Спрос на деньги для сделок и спрос на деньги как на активы.
27. Предложение денег и установление равновесия на рынке денег
28. Равновесие на денежном рынке. Монетарная политика.
29. Экономическое развитие и его уровень.
30. Понятие экономического роста. Показатели экономического роста и экономической конъюнктуры.
31. Факторы и типы экономического роста.
32. Экономический цикл. Общие черты циклов.
33. Модели экономических циклов. Виды экономических циклов.
34. Фазы делового цикла и их характеристика.
35. Кризисы мировой и российской экономики
36. Инфляция: сущность, исторический аспект появления и развития, показатели, последствия.
37. Виды инфляции. Инфляционная спираль.
38. Безработица. Определение и измерение безработицы.
39. Типы и причины безработицы.
40. Инфляция и безработица: их взаимосвязь.
41. Кривая Филлипса и её форма в коротком и длительном периодах.
42. Закон Оукена
43. Антиинфляционная политика

#### *Тестовые задания*

1. ВВП – это показатель
  - а) Общих расходов правительства и муниципальных органов
  - б) Количество товаров и услуг производственных частным бизнесом
  - в) Уровня цен проданных товаров и услуг
  - г) Рыночной стоимости национального валового выпуска конечных товаров и услуг
2. Двойной счет макроэкономических процессов это...
  - а) Одновременный счет производимой и потребляемой продукции

- б) Счет аналогичных затрат в составе ВВП и ЧНП
  - в) Применяется в бухгалтерском учете
  - г) Включение стоимости промежуточных изделий в составе ВВП
3. Располагаемый доход это...
- а) Сумма, включающая заработную плату, ренту и доход в форме % на капиталы
  - б) Заработная плата и жалование
  - в) Личный доход минус индивидуальные налоги и неналоговые платежи
4. Чистый национальный продукт равен
- а) Личный доход плюс косвенные налоги
  - б) Инвестиция минус амортизация
  - в) ВВП минус амортизация
  - г) ВВП плюс амортизация
5. Установите правильное соответствие
- 1) Товары и услуги которые покупаются для конечного использования, а не для дальнейшей обработки переработки или перепродажи
  - 2) Рыночная цена объема продукции произведенной фирмой за вычетом стоимости потребленных сырья и материалов приобретенных ее из поставщиков
  - 3) Вновь созданной за год стоимости характеризующая состояние общества сумма заработной плат, ренты %-а и прибыли
  - 4) Объем национального производства в ценах текущего периода т.е на момент производства этого объема товаров и услуг
- а) Реальный ВВП
  - б) Номинальный ВВП
  - в) Национальный доход
  - г) Добавленная стоимости
  - д) Конечные продукты
6. Трансфертные платежи
- а) Выплаты домашним хозяйством не обусловленные представленные с их стороны товаров и услуг
  - б) Только выплаты правительством отдельным индивидом
  - в) Компонент дохода который не включается в ВВП
7. Национальный доход это....
- а) Личный доход плюс индивидуальные налоги
  - б) Стоимость предметов длительного пользования товаров и услуг
  - в) Рента, заработная плата % - ый капитал, доходы от собственности и прибыль корпораций
  - г) Инвестиции минус сбережения
8. Какие из перечисленных величин не используются при определении объема национального дохода
- а) Заработная плата и жалование
  - б) Прибыль корпораций
  - в) Государственные трансфертные платежи
  - г) Рентный доход

9. Фазу подъема экономического цикла характеризуют следующие экономические явления:

- а) рост цен;
- б) рост безработицы;
- в) рост уровня производства;
- г) рост заработной платы.

10. Для циклического развития экономики характерно:

- а) постоянное повышение уровня занятости;
- б) изменение уровня занятости в том же направлении, что и реального объема производства;
- в) постоянное понижение уровня занятости;
- г) изменение уровня занятости в том же направлении, что и номинального объема производства.

11. Интенсивный тип экономического роста достигается за счет:

- а) увеличения количества используемых ресурсов;
- б) более эффективного использования всех факторов производства;
- в) более эффективного использования фактора «труд»;
- г) сокращения простоев оборудования.

12. К экстенсивным факторам экономического роста относится:

- а) повышение квалификации работников;
- б) улучшение качества производимой продукции;
- в) модернизация действующего оборудования;
- г) сокращение времени нахождения оборудования в ремонте;
- д) повышение производительности труда.

13. В результате экономического роста должно произойти:

- а) увеличение номинального ВВП;
- б) уменьшение номинального ВВП;
- в) увеличение реального ВВП;
- г) уменьшение реального ВВП;
- д) уменьшение потенциального ВВП.

14. Возможность страны или группы стран обеспечивать свои краткосрочные внешние обязательства приемлемыми платежными средствами – это:

- а) международная ликвидность
- б) международная кредитоспособность
- в) международная конкурентоспособность

15. Официальное понижение обменного курса национальной валюты по отношению к иностранным валютам:

- а) ревальвация
- б) демаркация
- в) девальвация

16. Мировая валютная система- это:

- а) совокупность способов, инструментов и межгосударственных органов, с помощью которых осуществляется платежно-расчетный оборот в рамках мирового хозяйства
- б) совокупность валют и межбанковских корреспондентских счетов, с помощью которых осуществляется платежно-расчетный оборот в рамках мирового хозяйства

в) совокупность способов, инструментов и межгосударственных органов, с помощью которых урегулируются мировые экономические кризисы

17. Официальное повышение обменного курса национальной валюты по отношению к иностранным валютам:

- а) ревальвация
- б) демаркация
- в) девальвация

18. Резервная позиция страны в МВФ:

- а) объем резервов страны, размещенных в СДР
- б) объем резервов страны, размещенных через МВФ
- в) право страны на безусловное получение кредита в пределах 25% от квоты страны в МВФ
- г) право страны на размещение 25% от квоты страны в МВФ в депозиты на льготных условиях

19. Международная ликвидность НЕ выполняет функцию:

- а) средство образования ликвидных резервов
- б) средство международных платежей
- в) средство валютной интервенции
- г) средство сравнения ликвидных средств коммерческих банков разных стран

20. Запас иностранной валюты, находящийся в распоряжении центрального банка и используемый при необходимости поддержать действующий курс национальной валюты:

- а) валютные интервенции
- б) валютные резервы
- в) валютные свопы

21. Специальные права заимствования (СДР) - это:

- а) безналичные деньги в виде записей на специальном счете страны в МВФ
- б) безналичные деньги, переданные в займы на специальных условиях
- в) ценные бумаги, выпускаемые МВФ для привлечения средств с последующей передачей их в займы

22. Валюта - это:

- а) денежная единица другого государства
- б) деньги, используемые в международных расчетах
- в) деньги, разрешенные к обмену на денежные единицы других государств

23. Золотослитковый стандарт прекратил существование во время:

- а) первой мировой войны
- б) второй мировой войны
- в) всемирного энергетического кризиса

24. Генуэзская валютная система прекратила свое существование во время:

- а) первой мировой войны
- б) второй мировой войны
- в) всемирного энергетического кризиса

25. Бреттон-Вудская валютная система прекратила свое существование во время:
- а) первой мировой войны
  - б) второй мировой войны
  - в) всемирного энергетического кризиса
26. Система фиксированных валютных курсов:
- а) Генуэзская валютная система
  - б) Бреттон-Вудская валютная система
  - в) Ямайская валютная система
27. Валюта данного государства:
- а) национальная
  - б) иностранная
  - в) международная
  - г) региональная
28. По способу фиксации валютный курс может быть:
- а) смешанный
  - б) официальный
  - в) завышенный
  - г) номинальный
29. Обменное соотношение валют двух стран – это:
- а) валютный курс
  - б) валютный паритет
  - в) валютный рынок
  - г) валютный своп
30. «Кросс-курс» - это:
- а) обменное соотношение между двумя валютами, ни одна из которых не является национальной валютой участников валютной сделки
  - б) обменное соотношение между двумя валютами, выраженное через их курсы к третьей валюте
  - в) обменное соотношение между двумя валютами, одна из которых является национальной валютой участников валютной сделки

## **Блок 2 «Уметь»**

1. Национальное производство составило: потребительских товаров – 200, средств производства – 500, оказано услуг – 250. К концу года 20% произведенных средств производства должны быть заменены новыми. Косвенные налоги составили 30% от объема национального производства. Рассчитайте ВВП, ЧНП, НДС.

2. Величина депозитов составила 2500 руб, норма резервирования – 20%. Рассчитайте максимальную сумму, которую банк может использовать для выдачи ссуд

3. Резервы банка состоят из обязательных и избыточных и равны 50, депозиты – 62, избыточные резервы – 35. Найдите норму обязательных резервов.



4. Резервы банка состоят из обязательных и избыточных и равны 75, депозиты – 110, избыточные резервы – 50. Найдите норму обязательных резервов.

5. Номинальный объем ВВП составляет 7000 млрд руб. Определите величину количество денег в обращении, если среднее число оборотов денежной единицы равно 4.

6. Объем производства увеличился на 8%, количество денег в обращении - на 30%. Как изменился средний уровень цен при стабильной скорости оборота денег?

7. Номинальный объем ВВП составляет 2000 млрд руб., спрос на деньги для сделок – 5000 млрд.руб. Определите скорость обращения денег..

8. Банковский мультипликатор равен 20, максимально возможное количество денег, которое может создать банковская система, составляет 70 млн руб. Определить сумму первоначального депозита.

9. В банке имеется депозит 6000 ден.ед. Норма обязательных резервов – 15%. На сколько максимально данный депозит увеличит денежную массу?

10. В банке имеется депозит 500 ден.ед. Норма обязательных резервов – 25%. На сколько максимально данный депозит увеличит денежную массу?

11. Банковский мультипликатор равен 10, максимально возможное количество денег, которое может создать банковская система, составляет 80 млн руб. Определить сумму первоначального депозита.

12. Определите сальдо государственного бюджета, если известно, что налоговые поступления за год составили 250, неналоговые доходы – 50, государственные трансферты – 150, расходы по обслуживанию государственного долга – 50.

13. В таблице указан фрагмент подоходного налога:

Сумма налога, руб.	Доход, руб.
500	15000
1000	20000
2000	30000

Определите вид налога, подтвердите расчетом.

14. Определите сальдо государственного бюджета, если известно, что налоговые поступления за год составили 350, неналоговые доходы – 80, государственные трансферты – 200, финансирование социальной сферы – 220, расходы по обслуживанию государственного долга – 100.

15. В экономике страны расходы домашних хозяйств составили 500 ден.ед., инвестиции предприятий в оборудование 70 ден.ед., государственные расходы 100. Налоги составили 20% от ВВП. Определите сальдо государственного бюджета.

16. В экономике страны расходы домашних хозяйств составили 350 ден.ед., инвестиции предприятий в оборудование 50 ден.ед., государственные расходы 200. Налоги составили 25% от ВВП. Определите сальдо государственного бюджета.

17. В таблице указан фрагмент подоходного налога:

Сумма налога, руб.	Доход, руб.
1000	5000
1600	8000
2000	10000

Определите вид налога, подтвердите расчетом.

18. В таблице указан фрагмент подоходного налога:

Сумма налога, руб.	Доход, руб.
1000	7000
2000	8000
3000	10000

Определите вид налога, подтвердите расчетом.

19. Рассчитайте налог на добавленную стоимость при ставке налога 18%, если известно, что выручка от реализации продукции предприятия составила 100 000 руб, фонд оплаты труда – 30 000 руб., затраты на приобретение материала – 50 000 руб., амортизация – 10 000 руб.

20. При доходе в 20 тыс. руб. подоходный налог составляет 2 500 руб., при доходе в 25 тыс. – 3 750 руб. Определите вид налога, подтвердите расчетом.

21. Рассчитайте налог на добавленную стоимость при ставке налога 18%, если известно, что выручка от реализации продукции предприятия составила 100 000 руб, фонд оплаты труда – 30 000 руб., затраты на приобретение материала – 50 000 руб., амортизация – 10 000 руб.

22. По данным таблицы рассчитайте уровень фрикционной, структурной, циклической, естественной безработицы в %.

Таблица - Экономика страны характеризуется следующими показателями:

Показатели	Млн. чел.
Общая численность населения	400
Работники, высвобожденные в результате спада производства	8
Студенты	45
Окончившие вуз и не устроившиеся на работу	4
Инвалиды	30
Работники, ушедшие с одной работы и не устроившиеся на другую	1
Дети	50
Высвобожденные работники в угледобывающей промышленности в связи с развитием нефтедобывающей промышленности	2
Пенсионеры	70
Работники, переехавшие на новое место жительства в другой город и не устроившиеся на работу	1
Домохозяйки	25

23. По данным таблицы рассчитайте уровень фрикционной, структурной, циклической, естественной безработицы в %.

Таблица - Экономика страны характеризуется следующими показателями:

Показатели	Млн.чел.
Общая численность населения	150
Вставшие на биржу труда в связи с невозможностью найти любую работу	3
Студенты	15
Окончившие вуз и не устроившиеся на работу	4
Инвалиды	5
Уволенные с работы в связи с изменением ПМЖ	1
Дети	30
Вставшие на биржу труда в связи с сокращение ИТР	2
Пенсионеры	35

24. Все население страны – 150 млн.чел., дети – 15 млн.чел, пенсионеры – 48 млн.чел, инвалиды – 7 млн.чел., студенты – 8 млн.чел, домохозяйки – 8 млн.чел., безработные - 6 млн.чел. Определите величину рабочей силы и уровень безработицы.

25. По данным таблицы рассчитайте индекс потребительских цен, при условии включения в потребительскую корзину двух продуктов: молока и хлеба.

Таблица – Набор товаров и их цены

Наименование товаров	Норма потребления в мес.	Цены текущего года	Цены прошлого года
Молоко	10 л	11	10
Хлеб	15 кг	7	5
Мясо	10 кг	85	72

26. По данным таблицы рассчитайте количество лет, необходимых для удвоения уровня цен для 2001 года

Таблица – Индексы цен за период (2000 – 2003 гг.)

Год	Индекс цен
2000	100
2001	112
2002	123
2003	129

27. По данным таблицы рассчитайте ВВП тремя методами

Таблица - Показатели для расчета ВВП

Счёт	Млрд. р.
Процент за кредит	12
Зарплата работников частных предприятий	218
Прибыль предприятий	113
Косвенные налоги	22
Плата за арендуемое имущество	20
Экспорт товаров и услуг	10
Затраты на государственные нужды, госзакупки	90
Расходы домашних хозяйств	260
Амортизационные отчисления	10
Инвестиции в основные средства	36
Импорт	1

28. По данным таблицы рассчитайте ВВП тремя методами

Таблица - Показатели для расчета ВВП

Счёт	Млрд. р.
Трансфертные платежи	4,0
Инвестиции в развитие производства	16,2
Косвенные налоги на бизнес	7,0
Личные подоходные налоги	2,6
Чистый экспорт	1,1
Нераспределенная прибыль корпораций	2,8
Амортизация	7,9
Личные потребительские расходы	77,2
Налоги на прибыль корпораций	1,4
Взносы на социальное страхование	0,2
Государственные закупки товаров и услуг	8,5

29. Если курсы валютной пары EUR/USD равны 1, 2044/1,2047 , то каковы курсы валютной пары USD/EUR?

30. Рассчитайте курс валютной корзины

Состав валютной корзины	Абсолютное количество	Курсы валют, долл. США	Сумма, долл. США
Английский фунт стерлингов	0,0885	0,5167	
ЕВРО	0,9224	1,3368	
Канадский доллар	1,2812	1,1823	
Швейцарский франк	0,8694	1,1386	
Японская иена	72,4918	0,0102	
ИТОГО			

**Общее распределение баллов текущего контроля по видам учебных работ для студентов (в соответствии с Положением)**

Рейтинг-контроль 1	Тестирование, выполнение практических заданий	до 10
Рейтинг-контроль 2	Тестирование, выполнение практических заданий	до 10
Рейтинг-контроль 3	Тестирование, выполнение практических заданий	до 10
Посещение занятий студентом	Посещение лекционных, практических занятий, качество выполнения заданий	До 25
Дополнительные баллы (бонусы)	Активность на практических занятиях	До 10
Выполнение семестрового плана самостоятельной работы	Выполнение плана самостоятельной работы студентов	До 20

**Показатели, критерии и шкала оценивания компетенций промежуточной аттестации знаний по учебной дисциплине «Основы экономической теории»**

Итоговой формой контроля полноты достижения студентами заявленных результатов по дисциплине являются дифференцированный зачет. ФОС промежуточной аттестации состоит из итогового зачетного теста.

Итоговый тест по дисциплине включает 15 вопросов, разделенных на блоки: знать (10 вопросов), уметь (5 вопроса).

Максимальное количество баллов, которое студент может получить составляет 15 баллов.

**Регламент проведения мероприятия**

№	Вид работы	Продолжительность
1.	Предел длительности тестового задания (10 заданий из блока «знать» и 5 задания из блока «уметь»)	30 мин.
	Итого (в расчете на тест)	30 мин.

**Критерии оценки тестирования студентов**

Оценка выполнения тестов	Критерии оценки
<i>1 балл за правильный ответ на 1 вопрос из блока «знать» и 1 балл за правильный ответ на 1 вопрос из блока «уметь»</i>	<i>правильно выбранный вариант ответа (в случае закрытого теста), правильно вписанный ответ (в случае открытого теста)</i>

## ОЦЕНОЧНЫЕ СРЕДСТВА ДЛЯ ПРОМЕЖУТОЧНОЙ АТТЕСТАЦИИ ПО УЧЕБНОЙ ДИСЦИПЛИНЕ «Основы экономической теории»

**ОК 1. Понимать сущность и социальную значимость своей будущей профессии, проявлять к ней устойчивый интерес**

**«Знать» общие положения экономической теории**

*Перечень вопросов для устного опроса*

1. Меркантилизм (ранний и поздний)
2. Физиократия
3. Классическая школа
4. Марксизм
5. Неоклассическая школа
6. Кейнсианство
7. Институционализм
8. Монетаризм
9. Особенности экономической мысли в России (18 в)
10. Определение экономической системы
11. Критерии сравнения экономических систем
12. Модели экономических систем (германская, американская, шведская, японская, китайская, российская модель переходной экономики (определение переходной экономики))
13. Определение собственности как экономической категории и ее 3 элемента
14. Формы собственности, плюсы и минусы частной формы собственности
15. Определение приватизации, цели приватизации и национализации
16. Методы приватизации в странах с переходной и рыночной экономикой
17. Характеристика натурального и товарного производства
18. Условия возникновения товарного производства
19. Определение рынка, его элементы
20. Функции рынка
21. Преимущества рынка
22. Недостатки рынка
23. Структура экономических отношений (социально-экономические, организационно-экономические, технико-технологические)
24. Понятие общественного производства
25. Стадии общественного производства (4)
26. Типы общественного производства (2-3)
27. Схема экономического кругооборота (домашние хозяйства и фирмы)
28. Понятие и функции домашних хозяйств, фирм, государства в экономическом кругообороте
29. Понятие и классификация потребностей
30. Понятие и классификация экономических ресурсов
31. Понятие и классификация факторов производства
32. Понятие и классификация благ

*Тестовые задания*

1. Если рыночная система не может существовать без четырех основных условий, то товарное производство может базироваться только на двух из них, каких?
  - а) общественное разделение труда;
  - б) экономическое обособление;
  - в) многообразие субъектов рынка;

- г) правомочность субъектов рынка в заключении сделок.
2. Традиционное хозяйство характеризуется наличием:
- а) крупного машинного производства в значительной части отраслей хозяйства;
  - б) значительной долей ручного труда;
  - в) значительной дифференциацией доходов населения;
  - г) значительным влиянием на производство и управление государством кровнородственных связей.
3. Характеристика административно-командной системы не включает следующие условия:
- а) наличие государственной формы собственности;
  - б) наличие государственной формы хозяйствования;
  - в) наличие крупного машинного производства;
  - г) наличие многообразных субъектов рынка.
4. В смешанной экономике роль государства:
- а) никак не проявляется;
  - б) ограничена;
  - в) значительна;
  - г) проявляется во всех секторах хозяйств.
5. Какая из характеристик не относится к рыночной экономике:
- а) конкуренция;
  - б) частная собственность;
  - в) централизованное планирование;
  - г) свобода предпринимательского выбора.
6. Когда экономические проблемы решаются частично рынком, частично правительством, то экономика:
- а) командная;
  - б) рыночная;
  - в) натуральная;
  - г) смешанная.
7. Простое товарное производство характеризуется наличием:
- а) множества продавцов;
  - б) множества покупателей;
  - в) регулированием цен со стороны государства;
  - г) конкуренцией среди субъектов рынка.
8. Особенностью простого товарного производства в отличие от рыночного хозяйства является:
- а) наличие частной собственности;
  - б) совмещение в одном лице и собственника средств производства, и непосредственного производителя;
  - в) свобода предпринимательского выбора;
  - г) невмешательство государства в деятельность отдельного субъекта.
9. Смешанная экономика характеризуется только:
- а) наличием крупного машинного производства;
  - б) натуральным хозяйством;

- в) сочетанием крупного машинного производства и натурального хозяйства;
- г) сочетанием всех известных экономических укладов.

10. Социально ориентированная рыночная экономика присуща странам:

- а) с высоким уровнем развития производства;
- б) с низким уровнем развития производства;
- в) постсоциалистического периода;
- г) Азии и Африки.

11. Какой признак характеризует традиционную экономику?

- а) централизованное ценообразование
- б) регулирование производства при помощи обычаев
- в) конкуренция свободных производителей на рынке товаров
- г) преобладание частной собственности на средства производства

12. Что характеризует командную экономику?

- а) свобода предпринимательской деятельности
- б) многообразие форм собственности
- в) преобладание сельского хозяйства
- г) централизованное ценообразование

13. Какой признак характеризует рыночную экономику?

- а) государственная собственность на средства производства
- б) уравнительное распределение производимых благ
- в) свободная конкуренция товаропроизводителей
- г) незаинтересованность производителя в результатах труда

14. В каком из вариантов правильно названы все типы экономических систем?

- а) традиционная, рыночная, тоталитарная, смешанная
- б) централизованная, капиталистическая, традиционная, развитая
- в) смешанная, рыночная, командная, традиционная
- г) демократическая, традиционная, феодальная, централизованная

15. Какую экономическую систему характеризует следующий пример:

Вопросы производства и распределение продукции жестко регламентируются государством, государство устанавливает цены на продукцию:

- а) Командную (плановую)
- б) Свободную рыночную экономику
- в) Социально ориентированное рыночное хозяйство
- г) Традиционную экономику

16. В приведенном ниже перечне отметьте типы экономических систем:

- а) продвинутая
- б) командная
- в) традиционная
- г) промышленная
- д) индустриальная
- е) рыночная
- ж) технотронная
- з) смешанная



17. Экономическими субъектами в рыночной экономике являются...
- а) фирмы, государство, домохозяйства
  - б) домохозяйства, наемные работники, предприниматели
  - в) предприятия, аудиторские фирмы, финансово-промышленные группы
  - г) государство, банки, инвестиционные фонды
18. В сферу производственного потребления не поступают
- а) орудия труда
  - б) средства производства
  - в) предметы труда
  - г) предметы потребления
19. Для германской модели смешанной экономики характерно...
- а) наличие широкой системы перераспределения доходов
  - б) формирование многослойной институциональной структуры субъектов социальной политики
  - в) наличие высокого уровня социальной дифференциации
  - г) социальное значение корпоративного начала
20. К основным чертам шведской экономической системы относят...
- а) высокую степень социализации экономики
  - б) ориентацию на достижение личного успеха
  - в) развитую систему пожизненного найма
  - г) наличие большой доли крупного предпринимательства
21. Для американской модели не характерно...
- а) сильная социальная политика
  - б) поощрение предпринимательской активности
  - в) низкий удельный вес государственного сектора
  - г) высокий уровень дифференциации доходов населения
22. Характерным для американской модели смешанной экономики является...
- а) наличие высокого уровня социальной дифференциации
  - б) формирование многослойной институциональной структуры субъектов социальной политики
  - в) наличие широкой системы перераспределения доходов
  - г) социальное значение корпоративного начала
23. Характерным для японской модели смешанной экономики является...
- а) социальное значение корпоративного начала
  - б) широкая система перераспределения доходов
  - в) активная роль государства в программировании экономического развития
  - г) наличие высокого уровня социальной дифференциации
24. Сохранение традиций и направленность на производство высокотехнологичной продукции - это особенность...
- а) японской модели
  - б) российской модели переходного типа
  - в) шведской модели
  - г) американской модели

25. Дифференциация доходов и сильная конкуренция - это особенность...

- а) японской модели
- б) российской модели переходного периода
- в) шведской модели
- г) американской модели

26. Разграничьте средства и предметы труда;

- а) инструменты, механизмы, машины, автоматы;
- б) полезные ископаемые, данные природой;
- в) трубы, сосуды, бочки, цистерны;
- г) здания, дороги, каналы;
- д) сырье, поступающее в дальнейшую обработку

27. Разграничьте материальные, духовные и социальные потребности:

- а) одежда;
- б) ремонт автомобиля;
- в) участие в городском субботнике;
- г) консультация юриста;
- д) жилье;
- е) потребность фирмы в автотранспорте;
- ж) благотворительность;
- з) удаление аппендикса;
- и) посещение филармонических концертов;
- к) посещение лекции по архитектуре города.

28. Три основных фактора производства — это труд, земля (природные ресурсы), капитал (капитальные затраты). Какая из нижеперечисленных групп включает в себя все три составляющие:

- а) воздух, ученые, автомобили;
- б) предприниматели, деньги, рента;
- в) рабочие, станки, здания;
- г) нефть, газопровод, ювелирные изделия?

29. Верны ли следующие утверждения:

- а) проблема редкости ресурсов разрешима на пути ограничения потребностей (да, нет);
- б) ограниченное благо обязательно является редким (да, нет);
- в) линия производственных возможностей показывает максимальное количество благ, которое можно произвести в данной экономической системе с данными ресурсами (да, нет);
- г) продукты питания не являются ресурсами (да, нет)?

30. Проблема редкости может быть решена, если:

- а) люди смогут отказаться от конкуренции в пользу сотрудничества;
- б) будут открыты неисчерпаемые источники энергии;
- в) все страны мира станут постиндустриальными обществами;
- г) все сказанное неверно.

**«Уметь» применять инструменты микро- и макроэкономического анализа для решения профессиональных задач**

1. На основании приведенных данных рассчитайте для каждого уровня дохода величину  $C$ ,  $MPC$  и  $MPS$ .

Доход, ден.ед.	240	260	280	300	320	340	360	380	400
Сбережения, ден.ед.	-4	0	4	8	12	16	20	24	28

2. На основе табличных данных рассчитайте:

- а) какая равновесная цена будет на радиоприемник, если между странами будет свободная взаимная торговля;  
 б) какая страна будет экспортировать радиоприемник и в каком объеме;  
 в) если страна-импортер введет импортную пошлину в размере 10 долл на каждый радиоприемник, что произойдет с объемом экспорта.

Цена, долл	Объем спроса в США	Объем предложения в США	Объем спроса в Японии	Объем предложения в Японии
5	5	2	2,5	1
10	4	3	2	3
15	3	4	1,5	5
20	2	5	1	7

3. Что должен делать Центробанк (покупать или продавать иностранную валюту) для поддержания курса национальной валюты в случае падения курса национальной валюты в результате:

- повышения спроса на иностранную валюту;
- сокращения предложения иностранной валюты?

Ответ обоснуйте с помощью графика.

4. Что происходит с курсом национальной валюты, если на покупку иностранной валюты требуется затратить больше / меньше национальной валюты, чем раньше? Ответ обоснуйте.

5. 1 доллар стоил 30 руб, 1 фунт стерлингов – 0.6 доллара. Найдите:

- а) курс фунта стерлингов по отношению к рублю;  
 б) курс рубля по отношению к фунту стерлингов.

6. По рисунку 1 напишите уравнение бюджетной линии вида  $Y = I / P_y - P_x * X / P_y$ , если цена товара  $Y$  равна  $P_y = 6$  руб.

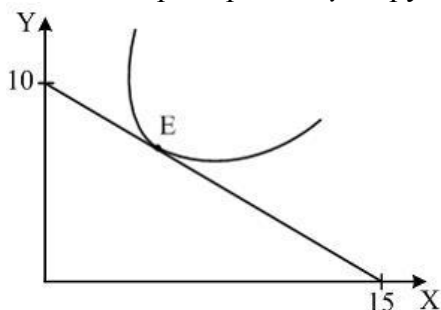


Рис. 1. Кривая безразличия потребителя и его бюджетная линия

7. По рисунку 2 напишите уравнение бюджетной линии вида  $Y = I / P_y - P_x * X / P_y$ , если цена товара  $Y$  равна  $P_y = 50$  ден.ед.

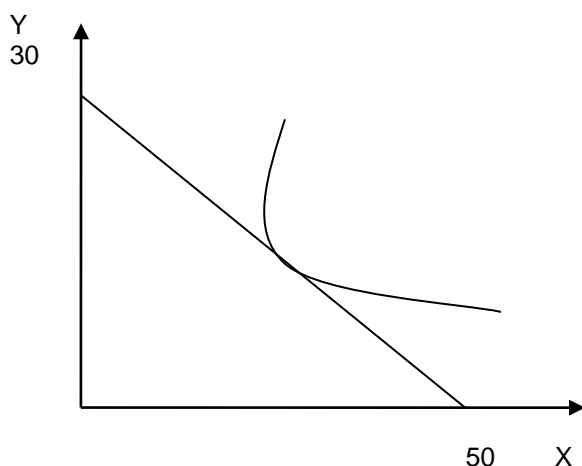


Рис. 2. Кривая безразличия потребителя и его бюджетная линия

8. По рисунку 3 напишите уравнение бюджетной линии вида  $Y = I / P_y - P_x * X / P_y$ , если цена товара Y равна  $P_y = 20$  руб.

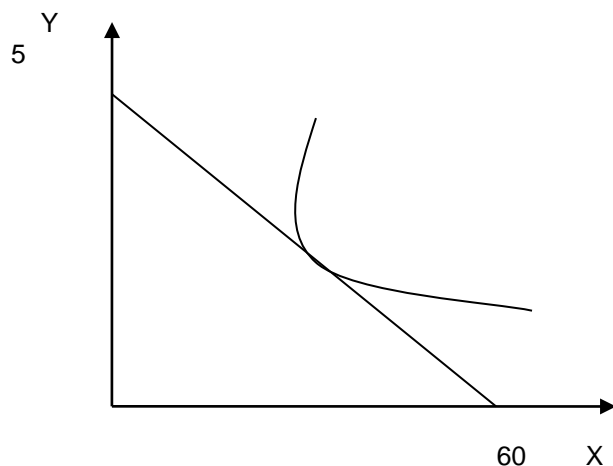


Рис. 3. Кривая безразличия потребителя и его бюджетная линия

9. Точечная эластичность некоторого товара равна (-2). По цене 300 руб/шт на рынке реализовано 250 шт. На сколько штук сократится объем реализации данного товара после повышения цены до уровня 303 руб/шт.

10. За день на рынке по цене 10 руб/кг реализуется 400 кг картофеля. При повышении цены на 40 % объем реализации сократился вдвое. Найти абсолютную величину дуговой эластичности спроса на картофель.

11. Определите коэффициент дуговой эластичности спроса по цене, если известно, что при цене 1,5 ден.ед. объем спроса на товар составляет 1000 штук, а при цене 8 ден.ед. – 900 штук. Охарактеризуйте спрос как эластичный или неэластичный.

12. Функция спроса задана как  $Q_d = 60 - 5P$ . Функция предложения задана как  $Q_s = 15P - 40$ . Найдите доход продавца при условии, что введен налог на бизнес в размере 2 руб. за каждую проданную единицу продукции

13. Функция спроса задана как  $Q_d = 60 - 5P$ . Функция предложения задана как  $Q_s = 15P - 40$ . Найдите равновесный объем продаж при условии, что введен налог на бизнес в размере 2 руб. за каждую проданную единицу продукции

14. Функция спроса задана как  $Q_d = 60 - 5P$ . Функция предложения задана как  $Q_s = 15P - 40$ . Найдите равновесную цену при условии, что введен налог на бизнес в размере 2 руб. за каждую проданную единицу продукции

15. Один человек с  $MPC = 0,8$  передает другому человеку 10 руб., у которого склонность к потреблению  $= 0,9$ . Как изменится сумма потребления и сбережений?

**ОК 4. Осуществлять поиск и использование информации, необходимой для эффективного выполнения профессиональных задач, профессионального и личностного**

**«Знать» основные микро- и макроэкономические категории и показатели**

*Перечень вопросов для устного опроса*

1. Спрос и предложение: понятие, классификация, цена, объем (величина), закон спроса и предложения, функции спроса и предложения (в общем виде и по цене).
2. Эластичность спроса и предложения.
3. Равновесие на рынке: понятие, понятие устойчивого и неустойчивого равновесия, два подхода к установлению устойчивого равновесия (по Л. Вальрасу по А. Маршаллу).
4. Кардиналистская (количественная) теория потребительского поведения.
5. Ординалистская (порядковая) теория потребительского поведения. Типы кривых безразличия.
6. Издержки производства. Равновесие фирмы.
7. Понятие «доход». Классификация доходов. Закон убывающей доходности.
8. Поведение фирмы в условиях совершенной конкуренции в краткосрочном периоде: спрос, общий и предельный доход, их взаимосвязь; кривая спроса конкурентной фирмы; выбор объема производства на краткосрочный период, кривая краткосрочного предложения.
9. Поведение фирмы в условиях монополии.
10. Механизм функционирования рынка труда.
11. Капитал: сущность и формы. Кругооборот и оборот капитала.
12. Рынок земли: спрос и предложение. Цена земли.
13. Предмет и объект макроэкономики. Основные макроэкономические проблемы
14. Система национальных счетов и показатели развития национальной экономики
15. ВВП в системе национальных счетов
16. Методы расчета ВВП
17. Понятие совокупного спроса. Основные компоненты совокупного спроса.
18. Понятие совокупного предложения. Графическое отображение совокупного предложения.
19. Бюджетно-налоговая политика: содержание, цели и инструменты.
20. Государственный бюджет: доходы и расходы.
21. Дефицит бюджета, бюджетные излишки. Проблема сбалансированности бюджета
22. Государственные расходы и налоги, их виды.
23. Виды налогов и налоговая система государства
24. Бюджетная политика государства
25. Функции Центрального банка.
26. Спрос на деньги для сделок и спрос на деньги как на активы.
27. Понятие экономического роста. Показатели экономического роста из экономической конъюнктуры.
28. Факторы и типы экономического роста.

29. Экономический цикл. Общие черты циклов.
30. Инфляция: сущность, исторический аспект появления и развития, показатели, последствия.
31. Виды инфляции. Инфляционная спираль.
32. Безработица. Определение и измерение безработицы.
33. Инфляция и безработица: их взаимосвязь.

*Тестовые задания*

1. Благодаря какой функции экономическая теория участвует в разработке экономической политики страны:
- а) познавательной
  - б) методологической
  - в) практической
  - г) прогностической.
2. Определите утверждения, относящиеся к макроэкономике:
- а) правительство осуществляет политику либерализации цен;
  - б) рентабельность производства на ОАО «Молоко» составила 19%;
  - в) среднемесячная заработная плата на предприятии А выше, чем на предприятии Б;
  - г) индивидуальный бюджет семьи Ивановых составил 10 тыс.руб.
3. Что из перечисленного изучает микроэкономика?
- а) производство в масштабе всей экономики;
  - б) численность занятых в экономике;
  - в) общий уровень цен;
  - г) производство сахара и динамика его цены.
4. Какое из этих положений не имеет отношения к определению предмета теории экономики (экономики)?
- а) эффективное использование ресурсов;
  - б) неограниченные производственные ресурсы;
  - в) максимальное удовлетворение потребностей;
  - г) материальные и духовные потребности.
5. Экономическая теория изучает:
- а) поведение людей в процессе производства благ в мире ограниченных ресурсов;
  - б) поведение фирмы в различных экономических ситуациях;
  - в) структуру экономической системы страны;
  - г) управление экономикой со стороны государства.
6. В чем суть метода научной абстракции:
- а) изучение экономических явлений как они есть;
  - б) прослеживание зависимости между экономическими категориями;
  - в) применение оценочного подхода к изучаемым явлениям;
  - г) освобождение при исследовании объекта от частного, случайного и выявление постоянных, типичных черт.
7. Что относится к микроэкономике:
- а) занятость и безработица;
  - б) национальное хозяйство;
  - в) спрос и предложение;
  - г) валовой национальный продукт.

8. Какой из названных вопросов решается на микроуровне:
- а) как добиться полной занятости;
  - б) с каким уровнем инфляции мы столкнемся;
  - в) что и в каком количестве производить;
  - г) как стимулировать экономический рост?
9. Фундаментальная проблема экономики состоит в том, чтобы:
- а) накормить население страны;
  - б) гарантировать всем участникам производства неограниченную экономическую свободу;
  - в) найти оптимальный механизм согласования ограниченных ресурсов и безграничных потребностей;
  - г) обеспечить государственное воздействие на экономику.
10. К общественным благам относятся
- а) услуги по предотвращению чрезвычайных ситуаций
  - б) жилье
  - в) образовательные услуги
  - г) общественно-политический журнал
11. Функция общих издержек монополиста:  $ТС=100+3Q$ , где  $Q$  – количество единиц продукта, производимое в месяц, функция спроса на продукцию монополиста:  $P=200-Q$ , где  $P$  – цена продукта в ден.ед. Если монополист выпускает 20 ед. продукта в месяц, то его общий доход, равен \_\_\_\_\_ ден.ед.
- а) 180
  - б) 3600
  - в) 400
  - г) 4000
12. Если цена инсулина возросла на 10%, а величина спроса на него не изменилась, то можно утверждать, что спрос на инсулин...
- а) имеет единичную эластичность
  - б) эластичен по доходу
  - в) абсолютно неэластичен по цене
  - г) абсолютно эластичен по цене
13. Если фирма производит 5 ед. продукции по цене 80 ден.ед. каждая, а  $AVC=75$  ден.ед., то экономическая прибыль (убыток) на единицу продукции составляет \_\_\_\_\_ ден.ед.
- а) 48
  - б) 60
  - в) -15
  - г) -5
14. Если ценовой коэффициент эластичности равен 1,33, то это спрос...
- а) совершенно эластичный
  - б) неэластичный
  - в) эластичный
  - г) совершенно неэластичный

15. На рынке действуют три фирмы. Удельный вес в общих продажах на рынке у фирмы А составляет 40%, у фирмы В и С – по 30%. Индекс концентрации рынка (индекс Херфиндаля-Хиршмана) на этом рынке равен...

- а) 3000
- б) 3400
- в) 4000
- г) 10000

16. К характеристикам кривой спроса монополии не относят...

- а) высокую степень несовершенства рынка монополии
- б) низкую эластичность спроса монополии
- в) совпадение кривой спроса фирмы-монополиста с кривой спроса отрасли
- г) горизонтальное расположение кривой спроса монополии

17. Если ставка банковского процента повышается, то...

- а) предложение земли увеличивается
- б) предложение земли уменьшается
- в) цена земли снижается
- г) цена земли повышается

18. Последствием накопления государственного долга НЕ является:

- а) перераспределение доходов среди населения;
- б) увеличение издержек по процентам государственного долга;
- в) переложение долгового бремени на будущие поколения;
- г) падение темпов производства.

19. К прямым налогам можно отнести:

- а) налог на добавленную стоимость;
- б) акцизы;
- в) таможенные пошлины;
- г) налог на недвижимость.

20. Дефицит государственного бюджета образуется в случае, когда:

- а) сумма долгов государству превышает размеры его долга;
- б) государственные расходы больше налоговых поступлений;
- в) при данных налоговых поступлениях расходы государства уменьшаются;
- г) снижение эффективности деятельности государственных предприятий.

21. Классический отрезок совокупного предложения характеризуется:

- а) достижением полной занятости;
- б) возможностью роста объема производства;
- в) неизменностью цен;
- г) высоким уровнем безработицы.

22. Кейнсианский отрезок совокупного предложения характеризуется:

- а) достижением полной занятости;
- б) возможностью роста объема производства;
- в) ростом цен;
- г) пределом производственных возможностей экономики.

23. Классический отрезок на кривой совокупного предложения:

- а) имеет положительный наклон;



- б) имеет отрицательный наклон;
- в) представлен вертикальной линией;
- г) представлен горизонтальной линией.

24. Увеличение совокупного спроса связано с ростом:

- а) процентной ставки;
- б) ожидаемой прибыли от инвестиций;
- в) налогов на бизнес;
- г) импорта.

25. Что НЕ влияет на расходы домашних хозяйств, как составляющую совокупного спроса:

- а) рост количества населения;
- б) рост благосостояния потребителей;
- в) повышение подоходного налога;
- г) снижение налога на прибыль.

26. Составляющими совокупного спроса являются:

- а) государственные расходы, чистый экспорт, сбережения;
- б) сбережения, инвестиции, чистый экспорт;
- в) потребление, инвестиции, государственные расходы, чистый экспорт;
- г) потребление и сбережения.

27. Объем инвестиционных расходов уменьшится, если:

- а) ставка процента возрастет;
- б) ставка процента уменьшится;
- в) ожидаемая норма прибыли увеличится;
- г) верно а) и в).

**«Уметь» выявлять проблемы экономического характера при анализе конкретных ситуаций, предлагать способы их решения с учетом действия экономических закономерностей на микро- и макроуровнях**

1. Изучается конкурентный рынок пшеницы районного масштаба, для которого значения спроса и предложения за год при различных ценах заданы в таблице:

Цена, \$ за тонну	Спрос, тыс.тонн	Предложение, тыс.тонн
60	22	14
80	20	16
100	18	18
120	16	20

Найти: 1) эластичность спроса по цене;  
 2) эластичность предложения по цене;  
 3) найти равновесную цену и объемы продаж;  
 4) определить размер дефицита или избытка, который будет, если государство зафиксирует цену в размере 80 долларов за тонну.

2. Определить коэффициент прямой эластичности спроса по цене, если известно, что функция спроса на товар  $Q_d = 15 - 2P$ , а цена равна 6 руб. за единицу.

3. Функция спроса на товар  $x$  представлена в виде:  $Q_{dx} = 10 - P_x + 0,5P_y$ . Определите коэффициент перекрестной эластичности спроса на товар  $x$ , если цена товара  $x - 12$  руб., цена товара  $y - 8$  руб.

4. Рассчитать коэффициент прямой эластичности спроса по цене, если известно, что цена товара выросла с 1,5 руб. до 2 руб. за единицу, а объем спроса сократился с 1000 до 900 единиц.

5. При цене 7 тыс. долл. Продано 100 тыс. машин. Небольшое увеличение цены до 8 тыс. долл. Вызывает падение спроса до 12 тыс. шт. Рассчитать эластичность спроса.

6. В таблице приведены данные об общих издержках предприятия на производство продукции. Определите величины всех совокупных, средних и предельных издержек. Постройте кривые средних совокупных, средних сменных, средних постоянных и предельных издержек.

Объем производства изделий за единицу времени	0	1	2	3	4	5	6	7	8	9	10	11
Общие издержки, ден.ед.	40	80	102	118	130	144	160	180	203	234	280	348

7. Имеются следующие данные по экономике США (млрд. долл.):

Трансфертные платежи	4,0
Валовые внутренние инвестиции	16,2
Косвенные налоги на бизнес	7,0
Личные подоходные налоги	2,6
Чистый экспорт	1,1
Нераспределенная прибыль корпораций	2,8
Амортизация	7,9
Личные потребительские расходы	77,2
Налоги на прибыль корпораций	1,4
Взносы на социальное страхование	0,2
Государственные закупки товаров и услуг	8,5

А) рассчитайте показатели ВВП и личного располагаемого дохода.

Б) Какова величина частных сбережений?

8. Известны следующие показатели национального хозяйства:

ВВП	1000
Потребление домашних хозяйств	600
Чистые инвестиции частного сектора	100
Валовые инвестиции частного сектора	250
Государственные расходы	100
Избыток государственного бюджета	10

Определить: ЧНП; располагаемый доход домашних хозяйств; сбережения домашних хозяйств; сальдо внешней торговли.

9. Рассчитать показатель ВВП и располагаемого дохода на основании следующих данных (в млрд. ден. Ед.):

- трансфертные платежи – 5
- валовые инвестиции – 18
- косвенные налоги – 7
- личные подоходные налоги – 3
- чистый экспорт – 1,5
- нераспределенная прибыль корпораций – 2,8
- амортизация – 7,5
- личные потребительские расходы – 77
- налоги на прибыль корпораций – 1,8
- взносы на соц. Страх. – 0,4
- государственные закупки товаров и услуг – 9

10. В отчетном году результаты социально-экономического развития страны отразились в следующих макроэкономических показателях В денежном выражении, условные единицы):

Валовый национальный продукт (ВНП) – 100;

Амортизация основного капитала – 10;

Косвенные налоги – 5;

Транспортные платежи – 2,5

Налоги с личного дохода населения – 7,5.

Определите: чистый национальный продукт (ЧНП), национальный доход (НД), личный располагаемый доход (ЛРД).

11. Экономика страны в отчетном году достигла параметров, отраженных следующей системой макроэкономических показателей (в денежном выражении, в условных единицах):

Расходы населения на потребление товаров и услуг – 490;

Амортизационные отчисления – 54;

Чистые внутренние инвестиции – 66;

Государственные закупки товаров и услуг – 144;

Косвенные налоги – 36;

Чистый экспорт – 6.

Определите величину валового национального продукта (ВНП), чистого национального продукта (ЧНП), национального дохода.

12. ВНП = 5000 млрд. денежных единиц. Потребительские расходы = 320 млрд. денежных единиц. Государственные расходы = 900 млрд. денежных единиц. Чистый экспорт = 80 млрд. денежных единиц. Экспорт = 350 млрд. денежных единиц. Сумма амортизации = 150 млрд. денежных единиц.

Определите величину валовых частных инвестиций, объем импорта, чистый национальный продукт.

### **ОК 9. Ориентироваться в условиях частой смены технологий в профессиональной деятельности**

#### **«Знать» методы расчета основных микро- и макроэкономических показателей**

##### *Тестовые задания*

1. Трансфертные платежи – это:

- а) выплаты населению, не обусловленные предоставлением с его стороны товаров и услуг
- б) выплаты правительством отдельным лицам
- в) одна из форм заработной платы и жалования
- г) нетрудовой доход

2. Располагаемый доход – это:

- а) заработная плата, жалование, рента и доход в форме процента на капитал
- б) заработная плата и жалование, рента и доход в форме процента на капитал
- в) капитал минус налог на личный доход
- г) личный доход минус индивидуальные налоги и другие обязательные платежи

3. Коэффициент Джини вырос в России с 0,22 до 0,35. Это означает, что:

- а) среднедушевые реальные доходы уменьшились
- б) среднедушевые реальные доходы уменьшились

- в) дифференциации доходов усилилась
- г) доля семей, доход которых ниже прожиточного минимума, снизился

4. Если кривая Лоренца сдвинулась за несколько лет дальше от биссектрисы, это означает:

- а) достижение большего социального равенства
- б) усиление дифференциации доходов населения
- в) повышение жизненного уровня населения
- г) снижение жизненного уровня населения

5. При введении прогрессивного налогообложения кривая Лоренца сместится:

- а) вверх и коэффициент Джини уменьшится
- б) вниз и коэффициент Джини увеличится
- в) останется без изменения
- г) вниз для малообеспеченных семей и вверх – для богатых

6. Если государство снизит подоходные налоги и увеличит налоги на продажи, то общая прогрессивность налогообложения:

- а) понизится
- б) повысится
- в) останется без изменения
- г) данное обстоятельство никак не повлияет на прогрессивность

7. Какое влияние на распределение дохода оказывает прогрессивный налог?

- а) усиливает неравенство в распределении дохода
- б) не оказывает никакого воздействия
- в) способствует более равномерному распределению дохода
- г) нельзя дать однозначный ответ

8. К числу основных целей фискальной политики государства относится:

- а) создание условий для успешного ведения бизнеса
- б) антициклическое регулирование экономики
- в) повышение благосостояния граждан
- г) перераспределение национального дохода в пользу беднейших слоев населения

9. Фискальная политика является экспансионистской в случае:

- а) уменьшения налогооблагаемого дохода граждан на сумму затрат на строительство жилья
- б) введение акцизных марок на алкогольную продукцию
- в) увеличения трансфертных платежей
- г) уменьшения государственных расходов на оборону страны

10. Фискальная политика является дискреционной, если изменяются следующие параметры:

- а) увеличиваются ставки налогообложения
- б) уменьшаются ставки налогообложения
- в) увеличивается величина собираемых налогов при применении неизменной прогрессивной шкалы налогообложения
- г) в законодательном порядке увеличивается продолжительность выплат пособий по безработице
- д) верны ответы а), б), г)

11. Фискальная политика является автоматической, если изменяются следующие параметры:

- а) увеличивается ставка подоходного налога
- б) при неизменной ставке подоходного налога повышаются размеры налоговых поступлений
- в) повышаются размеры отчислений заработной платы в пенсионный фонд
- г) увеличивается ставка по банковским вкладам для физических лиц

12. Экономика находится в равновесии, бюджет сбалансирован, уровень цен на всех национальных рынках фиксирован. Равновеликое увеличение налогов и государственных закупок приведет к:

- а) уменьшению равновесного объема реального ВВП на сумму, равную приросту государственных закупок
- б) увеличению равновесного объема реального ВВП на сумму, равную приросту государственных закупок
- в) уменьшению равновесного объема реального ВВП на большую сумму
- г) увеличению равновесного объема реального ВВП на большую сумму
- д) сохранению равновесного объема реального ВВП на прежнем уровне

13. Относительные расходы по обслуживанию государственного долга измеряются:

- а) суммой государственного долга
- б) суммой процентных выплат по долгу
- в) отношением размеров долга к объему ВВП
- г) отношением суммы процентных выплат по долгу к объему ВВП
- д) все предыдущие ответы неверны

14. Инфляция – это налог на:

- а) держателей государственного долга она сокращает размеры бюджетного дефицита
- б) держателей государственного долга она увеличивает размеры бюджетного дефицита
- в) правительство она сокращает размеры бюджетного дефицита
- г) правительство она увеличивает размеры бюджетного дефицита
- д) держателей государственного долга она не сказывается на размерах бюджетного дефицита

15. Темп инфляции возрастает в наибольшей степени, если дополнительные государственные расходы покрываются за счет:

- а) увеличение ставки подоходного налога с граждан
- б) увеличения косвенных налогов
- в) введение прогрессивной шкалы налогообложения
- г) продажи государственных ценных бумаг на открытом рынке
- д) получения кредитов у Центрального банка

16. Государственный долг – это:

- а) задолженность населения, фирм, банков и зарубежных государств перед правительством данной страны
- б) задолженность правительства перед населением
- в) задолженность правительства данной страны перед иностранными государствами
- г) задолженность правительства перед всеми хозяйствующими субъектами как данной страны, так и зарубежных стран

17. Путем консолидации государственного долга правительство:

- а) уменьшает свою задолженность перед населением страны
- б) уменьшает задолженность страны перед иностранными государствами

- в) превращает государственный долг в долгосрочные инвестиции
- г) превращает краткосрочную и среднесрочную задолженности в долгосрочную

18. В условиях «перегрева» экономики Центральный банк может использовать следующие

инструменты денежно-кредитной политики:

- а) повышение учетной ставки процента
- б) снижение учетной ставки процента
- в) повышение нормы минимальных резервов
- г) продажа казначейских векселей населению
- д) верны ответы а, в, г

19. Какое из утверждений неверно:

- а) экономический рост приводит к повышению уровня жизни
- б) легче бороться с нищетой, когда экономика успешно развивается
- в) имеется прямая связь между увеличением реального объема ВВП и оздоровлением окружающей среды
- г) экономический рост создает предпосылки к повышению уровня образования и квалификации
- д) экономический рост приводит к укреплению обороноспособности страны

20. Численное значение какого из следующих показателей падает после наступления фазы

подъема и растет после наступления фазы спада?

- а) объем товарных запасов в обрабатывающей промышленности
- б) объем ВВП
- б) объем промышленного производства
- в) средняя продолжительность рабочей недели
- г) курсы ценных бумаг

21. Когда речь идет об экономическом цикле, всегда ли справедливы следующие утверждения:

- а) высшая точка активности – это период оживления
- б) спад – это период депрессии
- в) потребительские расходы – самый нестабильный компонент совокупных расходов
- г) все предыдущие утверждения неверны
- д) все предыдущие утверждения верны

22. Какое из перечисленных явлений не соответствует периоду экономического спада в развитых странах:

- а) снижение инвестиций в оборудование с длительным сроком службы
- б) падение курса акций, более низкий спрос на труд
- в) сокращение налоговых поступлений
- г) снижение прибылей корпораций
- д) уменьшение объема пособий по безработице

23. Теория, согласно которой развитие экономического цикла вызвано действием политических факторов, исходит из того, что:

- а) антиинфляционные меры принимаются на правительственном уровне
- б) год, следующий за выборами высших органов государственной власти, часто связан с проведением жестких экономических мер
- в) в год проведения выборов нередко наблюдается высокий экономический рост

- г) периодичность выборов может влиять на периодичность экономических циклов  
 д) все предыдущие утверждения верны

24. Экономическая система, направленная на реализацию целей социальной справедливости, защищенности, высокого уровня и качества жизни относится к:

- а) рыночной;  
 б) плановой;  
 в) традиционной;  
 г) социально-рыночной.

25. Уменьшение степени неравенства в распределении доходов отразится на кривой Лоренца:

- а) перемещением кривой фактического распределения вверх;  
 б) перемещением кривой фактического распределения вниз;  
 в) приближением кривой фактического распределения к биссектрисе;  
 г) совпадением кривой фактического распределения с биссектрисой.

**«Уметь» оперировать основными категориями и понятиями экономической теории**

1. При повышении дохода с 3000 до 3400 объем спроса на товар снизился с 75 до 45 единиц. Определите коэффициент эластичности спроса по доходу.

2. При снижении дохода с 3200 до 3000 объем спроса на товар снизился с 75 до 45 единиц. Определите коэффициент эластичности спроса по доходу.

3. В результате повышения цены товара с 5 до 6 руб. объем спроса сократился с 9 до 7 единиц. Определите коэффициент эластичности спроса по цене.

4. Эластичность спроса по цене 0,4, по доходу 0,2. На сколько изменится объем спроса

(в %) на данный товар, если его цена увеличится на 8%, а доход населения увеличится на 3%?

5. Дана зависимость ТС от Q.

Q	0	1	2	3	4	5
ТС	10	14	20	30	44	60

На рынке совершенной конкуренции цена установилась на уровне 11 руб.

а) Сколько продукции должна выпустить фирма, чтобы получить максимальную прибыль?

б) Ниже какого уровня должна снизиться рыночная цена в краткосрочном и долгосрочном периодах, чтобы фирма прекратила свою деятельность?

в) Каков объем безубыточности в краткосрочном периоде?

6. Предположим, что в данном году естественный уровень безработицы составил 6%, а фактический уровень – 9%. Пользуясь законом Оукена (коэффициент  $\beta = 2,5$ ), определите величину отставания ВВП.

7. Предположим, что потенциальный уровень ВВП = 10 млрд. ден.ед. Естественный уровень безработицы = 5%. Коэффициент Оукена = 2,5. На каждых 27 занятых приходится 3 безработных.

Рассчитайте:

- а) фактический уровень безработицы;  
 б) фактический уровень ВВП.

8. Производственная функция имеет вид:  $Y = AK^{0.3}L^{0.7}$ . Совместная производительность факторов растет на 2% в год, ВВП растет на 6% в год, темп роста капитала равен 4%. Каким темпом растет численность занятых?

9. Естественный уровень безработицы в стране равен 5%, а фактический – 7%. Найти потенциальный ВВП, если фактический ВВП равен 960 млрд. долл.  $\beta = 2$ .

10. Известно, что разрыв в выпуске составляет (- 7) млрд. руб. Рассчитайте отставание ВВП, если известно, что фактический уровень реального ВВП равен 93 млрд. руб. Каков уровень фактической безработицы, если естественный уровень безработицы равен 6%, а коэффициент Оукена равен 2?

11. Предположим, что в данном году естественный уровень безработицы составил 6%, а фактический уровень – 9%. Пользуясь законом Оукена (коэффициент  $\beta = 2,5$ ), определите величину отставания ВВП.

12. Предположим, что потенциальный уровень ВВП = 10 млрд. ден.ед. Естественный уровень безработицы = 5%. Коэффициент Оукена = 2,5. На каждых 27 занятых приходится 3 безработных.

Рассчитайте:

- а) фактический уровень безработицы;
- б) фактический уровень ВВП.

13. Производственная функция имеет вид:  $Y = AK^{0.3}L^{0.7}$ . Совместная производительность факторов растет на 2% в год, ВВП растет на 6% в год, темп роста капитала равен 4%. Каким темпом растет численность занятых?

14. Естественный уровень безработицы в стране равен 5%, а фактический – 7%. Найти потенциальный ВВП, если фактический ВВП равен 960 млрд. долл.  $\beta = 2$ .

15. Известно, что разрыв в выпуске составляет (- 7) млрд. руб. Рассчитайте отставание ВВП, если известно, что фактический уровень реального ВВП равен 93 млрд. руб. Каков уровень фактической безработицы, если естественный уровень безработицы равен 6%, а коэффициент Оукена равен 2?

16. Потенциальный ВВП равен 3600, а фактический - 3240млрд. руб. Рассчитайте разрыв в выпуске и отставание ВВП. Определите фактический уровень безработицы, если известно, что естественный уровень безработицы равен 6%, коэффициент Оукена равен 2%.

17. Производственная функция имеет вид:  $Y = AK^{0.4}L^{0.6}$ . Совместная производительность факторов растет на 2% в год, темп роста капитала равен 5%, численность занятых растет на 3% в год. Рассчитайте темп роста ВВП.

18. Известно, что  $u^* = 6\%$ ,  $\pi^e = 10\%$ , снижение  $\pi$  на 2 процентных пунктов приводит к росту  $u$  на 1 процентный пункт. Фактический темп инфляции  $\pi = 5\%$ . Чему равно  $u$ ?

19. Рассчитайте темп экономического роста, если номинальный ВВП 2014 г. составил 39 трлн. дол, а в 2015 г. – 45 трлн. дол. Значения дефлятора ВВП равны соответственно 102% и 113% (базисный год – 2013).



20. Экономика страны характеризуется следующими показателями:

Показатели	Млн.чел.
Общая численность населения	400
Работники, высвобожденные в результате спада производства	8
Студенты	45
Окончившие вуз и не устроившиеся на работу	4
Инвалиды	30
Работники, ушедшие с одной работы и не устроившиеся на другую	1
Дети	50
Высвобожденные работники в угледобывающей промышленности в связи с развитием нефтедобывающей промышленности	2
Пенсионеры	70
Работники, переехавшие на новое место жительства в другой город и не устроившиеся на работу	1
Домохозяйки	25

Найти:

- величину трудоспособного населения,
- величину рабочей силы и ее удельный вес в общей численности населения
- уровень фрикционной безработицы,
- уровень структурной безработицы,
- уровень циклической безработицы,
- уровень естественной безработицы,
- уровень фактической безработицы.

21. Экономика страны характеризуется следующими показателями:

Показатели	Млн.чел.
Общая численность населения	150
Вставшие на биржу труда в связи с невозможностью найти любую работу	3
Студенты	15
Окончившие вуз и не устроившиеся на работу	1
Инвалиды	5
Уволенные с работы в связи с переездом на другое место жительства	1
Дети	30
Вставшие на биржу труда в связи с сокращением ИТР	2
Пенсионеры	35

Найти:

- величину трудоспособного населения,
- величину рабочей силы и ее удельный вес в общей численности населения
- уровень фрикционной безработицы,
- уровень структурной безработицы,
- уровень циклической безработицы,
- уровень естественной безработицы,
- уровень фактической безработицы.

### **ПК 1.1. Обработать первичные бухгалтерские документы «Знать» рыночный механизм функционирования экономики**

#### *Тестовые задания*

- Эластичность спроса по цене изменяется под влиянием такого фактора, как...
  - ... способность товара к длительному хранению.
  - ... принадлежность данного товара к предметам роскоши или товарам первой необходимости.
  - ... особенности производственного процесса.
  - ... наличие товаров-заменителей.

2. Какое из следующих утверждений не относится к характеристике неэластичного спроса на товар:

- а) данный товар является для потребителей товаром первой необходимости
- б) относительное изменение объема спроса меньше, чем относительное изменение цены
- в) период времени, в течение которого предъявляется спрос, является очень коротким
- г) имеется большое число товаров-заменителей
- д) покупатели расходуют на его покупку незначительную долю своего дохода

3. Коэффициент ценовой эластичности спроса равен:

- а) ни одному из приведенных показателей
- б) изменению общей выручки (в %), деленному на увеличение объема спроса (в %)
- в) уменьшению общей выручки (в %), деленному на увеличение цены (в %)
- г) изменению объема спроса (в %), деленному на изменение цены (в %)
- д) уменьшению цены, деленному на увеличение объема спроса

4. Фирма производит и продает два товара: А и Б. А имеет много заменителей; Б занимает значительную долю в расходах потребителей. Увеличение цены на каждый товар приведет к:

- а) увеличению выручки от продажи товара А и товара Б
- б) сокращению выручки от продажи товара А и увеличению выручки от продажи товара Б
- в) тому, что выручка от продажи товара А и товара Б останется неизменной
- г) сокращению выручки от продажи товара А и товара Б
- д) увеличению выручки от продажи товара А и сокращению выручки от продажи товара Б

5. Производитель товара Х снизил цену на свой товар на 5%, в результате чего объем продаж вырос на 4%. Спрос на товар Х является:

- а) неэластичным
- б) абсолютно эластичным
- в) спросом единичной эластичности
- г) не представляется возможным ответить на вопрос
- д) эластичным

6. Какое из указанных ниже значений коэффициента эластичности по доходу относится к товарам первой необходимости:

- а) 1
- б) больше 0, но меньше 1
- в) меньше 0
- г) ни одно из приведенных значений
- д) больше 1

7. Если любое количество товара продается по одинаковой цене, то спрос на этот товар является:

- а) спросом единичной эластичности
- б) абсолютно неэластичным
- в) абсолютно эластичным
- г) эластичным
- д) неэластичным

8. Какое из следующих утверждений не относится к характеристике эластичного спроса на товар:
- а) относительное изменение объема спроса больше, чем относительное изменение цены
  - б) коэффициент ценовой эластичности меньше единицы
  - в) общая выручка продавца растет, если цена уменьшается
  - г) покупатели относительно чутко реагируют на изменения цены
  - е) общая выручка продавца сокращается, если цена растет
9. Кривая абсолютно неэластичного спроса представляет собой:
- а) вертикальную линию
  - б) прямую линию с отрицательным наклоном
  - в) кривую линию
  - г) горизонтальную линию
  - д) кривую линию с положительным наклоном
10. Эластичность предложения зависит главным образом от:
- а) того, относится ли данный товар к предметам длительного пользования или текущего потребления
  - б) числа товаров-заменителей данного продукта
  - в) того, является ли данный товар предметом первой необходимости или роскоши
  - г) периода времени, в течение которого продавцы могут приспособиться к изменениям цен
  - д) доли дохода потребителя, направляемой на покупку данного товара
11. Неэластичный спрос означает, что:
- а) рост цены на 1% приводит к сокращению величины спроса менее чем на 1%
  - б) рост цены на 1% приводит к сокращению величины спроса более чем на 1%
  - в) ни одно из утверждений не является верным
  - г) любое изменение цены не приводит к изменению общей выручки
  - д) рост цены на 1% не влияет на величину спроса
12. Ценовая эластичность спроса будет выше:
- а) чем менее необходим товар потребителю
  - б) ни в одном из перечисленных случаев
  - в) на товары первой необходимости, чем на предметы роскоши
  - г) в тех случаях, когда потребители используют данный товар с наибольшей пользой для себя
  - д) чем больше альтернативные издержки производства товаров
13. Если цена товара неэластичного спроса выросла с 7 до 8 дол., то выручка:
- а) абсолютно эластична
  - б) осталась неизменной
  - в) абсолютно неэластична
  - г) сократилась
  - д) выросла
14. Товар можно отнести к недоброкачественным, если:
- а) ценовая эластичность его спроса равна 1,3
  - б) перекрестная эластичность его спроса равна – 0,7
  - в) перекрестная эластичность его спроса равна 0,1
  - г) эластичность его спроса по доходу равна – 0,5
  - д) эластичность его спроса по доходу равна 1,3

15. Ценовая эластичность спроса будет расти с увеличением продолжительности периода, в течение которого предъявляется спрос, так как:

- а) потребители смогут приобрести товары-заменители
- б) все ответы верны
- в) вырастет общий уровень цен
- г) доходы потребителей увеличатся
- д) произойдет сдвиг вправо кривой спроса

16. Сокращение предложения товара ведет к увеличению:

- а) спроса на этот товар
- б) общей выручки продавца, если спрос на товар является неэластичным по доходу
- в) спроса на взаимодополняемые товары
- г) спроса на взаимозаменяемые товары
- д) общей выручки продавца, если спрос на товар является эластичным по цене

17. Если уменьшение цены на 5% приводит к снижению объема предложения на 8%, то данное предложение:

- а) неэластично
- б) абсолютно неэластично
- в) единичной эластичности
- г) абсолютно эластично
- д) эластично

18. Если спрос на сельскохозяйственную продукцию неэластичен, то при хорошем урожае доходы фермеров:

- а) сократятся, так как относительное снижение цен окажется большим, чем относительное увеличение объема продаж
- б) вырастут, так как произойдет увеличение цен на продукцию, вызванное повышением спроса
- в) останутся неизменными, так как относительное увеличение объема продаж будет равно относительному снижению цен не представляется возможным ответить на вопрос.
- г) вырастут, так как увеличится объем продаваемой продукции

19. Если однопроцентное сокращение цены на товар приводит к двухпроцентному увеличению объема спроса на него, то этот спрос:

- а) абсолютно неэластичный
- б) абсолютно эластичный
- в) единичной эластичности
- г) неэластичный
- д) эластичный

20. Примером переменных факторов производства может быть:

- а) электроэнергия;
- б) сырье;
- в) верно а) и б);
- г) все перечисленные ответы неправильны.

21. Верны ли утверждения:

- а) максимизация прибыли обозначает минимизацию общих издержек на единицу выпуска продукции (да, нет);
- б) если цена равна средним переменным издержкам, то в краткосрочном периоде фирма должна прекратить свою деятельность (да, нет);
- в) равновесие отрасли в долгосрочном периоде устанавливается при условии, что происходит ликвидация экономической прибыли у всех фирм, занятых в отрасли (да, нет);
- г) если для олигополиста цена оказывается меньше средних издержек, ему следует уйти из отрасли (да, нет)?

22. Равновесие производителя (фирмы) определяется законом:

- а) равенства спроса и предложения;
- б) максимизации выпуска;
- в) равенства взвешенных предельных производительных факторов производства;
- г) минимизации расходов производственных факторов.

24. Фирма обладает властью, если она:

- а) устанавливает цену на уровне предельных издержек;
- б) следует за ценой, которую устанавливает лидер на рынке;
- в) устанавливает цену на уровне средних переменных издержек;
- г) устанавливает цену исходя из кривой спроса.

25. Верны ли утверждения:

- а) в условиях совершенной конкуренции фирмы не получают экономической прибыли в долгосрочной перспективе (да, нет);
- б) в условиях совершенной конкуренции кривая спроса на продукцию фирмы на эластична (да, нет);
- в) в условиях совершенной конкуренции спрос на продукцию отрасли представляет собой горизонтальную линию (да, нет);
- г) ценовая дискриминация невозможна, если все потребители одинаковы (да, нет);
- д) если рыночная цена выше средних издержек монополиста, он может получить больше прибыли, увеличивая выпуск (да, нет);
- е) олигополист максимизирует прибыль, когда его предельные издержки равны его предельной выручке (да, нет);
- ж) в краткосрочном периоде монополия получает экономическую прибыль (да, нет)?

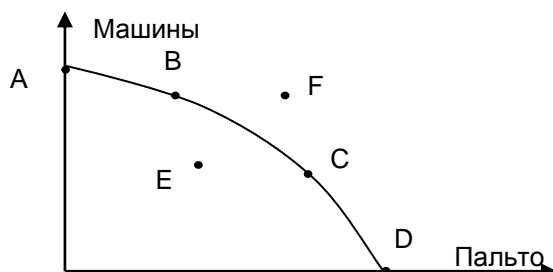
### **«Уметь» использовать источники экономической информации**

1. Найдите каждому из приведенных ниже понятий соответствующее определение:

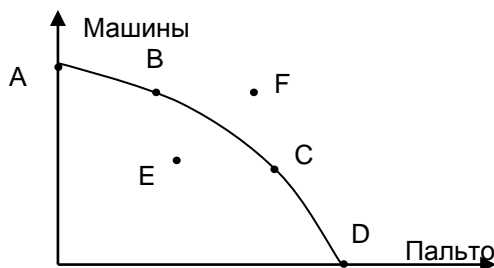
1) абстракция	а) метод умозаключений, основанный на обобщении фактов
2) анализ	б) метод исследования, при котором отвлекаются от случайных, неустойчивых черт, связей
3) синтез	в) метод умозаключений, основанный на распространении общего суждения на единичные факты
4) индукция	г) абстрактная структура, создающая упрощенную картину реальной действительности
5) дедукция	д) экономическое знание, использующее оценочные сужения относительно того, какой должна быть экономика
6) экономическая модель	е) мышление, которое направлено на выявление спе-
7) нормативная экономика	

	цифических свойств в явлениях ж) мышление, которое сориентировано на выявление того общего, что связывает, объединяет отдельные стороны явлений
--	--

2. Что означают точки на кривой производственных возможностей А, Д и переход из точки А в точку Д? Ответ обоснуйте.



3. Что означают точки на кривой производственных возможностей Е, F и возможности перехода КПВ в эти точки? Ответ обоснуйте.



4. В Большой Советской Энциклопедии приводятся следующие данные об объёме производства радиоприёмников и тканей всех видов:

Показатели	1940 г.	1960 г.	1970 г.	1975 г.
Ткани всех видов, млн м <sup>2</sup>	3320	6636	8852	9956
Радиоприёмники и радиолы, тыс. шт	178	4165	7815	8376

Предположим, что в стране могут выпускаться только эти два товара. Проиллюстрируйте происходившие в экономике изменения с помощью кривой производственных возможностей. Какими факторами можно объяснить сдвиг кривой производственных возможностей с течением времени?

5. В поликлиниках в дневное время в очереди обычно бывает много пенсионеров и неработающих людей. В то же время многие работающие люди с высокими окладами предпочитают обращаться в частные медицинские учреждения с записью на определённое время. С чем это связано? В чём будут выражаться альтернативные издержки для обеих этих групп населения?

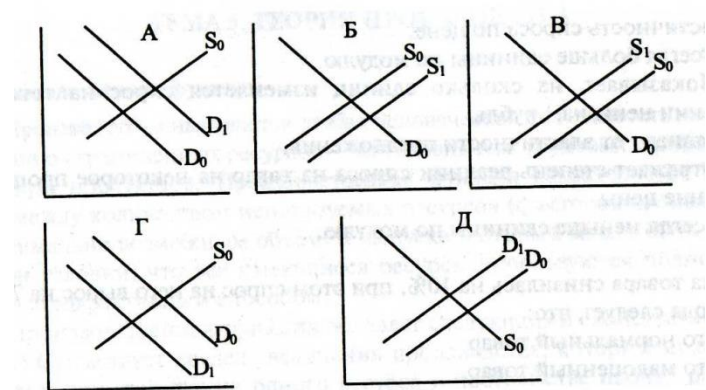
6. Предположим, правительство, пытаясь поддержать цены на сельхозпродукцию на высоком уровне, вводит премирование фермеров за сокращение посевных площадей. Как это повлияет на положение спроса и линии предложения сельскохозяйственных продуктов? Иллюстрируйте свой ответ графически.

7. На графике спроса изобразите влияние следующего фактора: рост цены данного товара

8. На графике спроса изобразите влияние следующего фактора: снижение цены данного товара
9. На графике спроса изобразите влияние следующего фактора: рост доходов населения
10. На графике предложения изобразите влияние следующего фактора: увеличение стоимости применяемых ресурсов
11. На графике предложения изобразите влияние следующего фактора: Применение более совершенной технологии производства
12. На графике предложения изобразите влияние следующего фактора: Применение менее производительной технологии производства
13.  $D_0$  и  $S_0$ ,  $D_1$  и  $S_1$  — соответственно старые и новые кривые спроса и предложения. Спрос на товар упал, а его предложение возросло. Какой рисунок верно отражает эту ситуацию?



14.  $D_0$  — старая кривая спроса на зерно, а  $D_1$  — новая кривая спроса на зерно;  $S_0$  — старая кривая предложения зерна, а  $S_1$  — новая кривая предложения зерна. Правительство увеличивает продажи зерна из своих запасов. Какой рисунок верно отражает эту ситуацию?



15. Используйте модель экономического кругооборота для того, чтобы оценить последствия следующих событий:

- из-за ненадежности банков домашние хозяйства в России предпочитают переводить свободные деньги в доллары;
- чтобы спасти сбережения от инфляции, люди вкладывают деньги в товары длительного пользования;
- государство сократило оборонные расходы.

16. Дефлятор ВВП = 1,05, индекс номинального ВВП = 1,04. Рассчитайте индекс реального ВВП. Вырос реальный ВВП или упал?

**ПК 1.3. Проводить учет денежных средств, оформлять денежные и кассовые документы**

**«Знать» - рыночный механизм функционирования экономики**

*Тестовые задания*

1. Деньги как мера стоимости:
  - а) разъединяют во времени акты обмена;
  - б) привязаны к обороту наличных денег;
  - в) обеспечивают возможность сопоставления цен;
  - г) служат для образования капитала.
  
2. Выберите вариант, в котором нижеприведённые активы представлены в порядке убывания степени их ликвидности:
  - а) золотой слиток, вклад до востребования в СБ РФ; наличные деньги, дом в Псковской области;
  - б) наличные деньги, вклад до востребования в СБ РФ; золотой слиток, дом в Псковской области;
  - в) дом в Псковской области; вклад до востребования в СБ РФ; золотой слиток, наличные деньги;
  - г) вклад до востребования в СБ РФ; наличные деньги, золотой слиток, дом в Псковской области.
  
3. Выберите вариант, в котором нижеприведённые активы представлены в порядке убывания степени их ликвидности:
  - а) стиральная машина; акции РАО ЕЭС; срочный вклад в Сбербанке России, 10-ти рублёвая банкнота;
  - б) срочный вклад в Сбербанке России, 10-ти рублёвая банкнота, стиральная машина; акции РАО ЕЭС;
  - в) 10-ти рублёвая банкнота, срочный вклад в Сбербанке России, акции РАО ЕЭС; стиральная машина;
  - г) акции РАО ЕЭС; срочный вклад в Сбербанке России, стиральная машина; 10-ти рублёвая банкнота.
  
4. Чем определяется истинная ценность современных денег:
  - а) их золотым обеспечением;
  - б) их способностью выполнять основные функции;
  - в) стоимостью затрат по их выпуску;
  - г) все перечисленное выше верно.
  
5. Денежный агрегат  $M_1$  включает:
  - а) наличные деньги плюс деньги на расчётных счетах;
  - б) всё перечисленное в п. а) плюс срочные вклады;
  - в) наличные деньги плюс срочные вклады;
  - г) все предыдущие ответы неверны.
  
6. Что из перечисленного не является кредитными деньгами:
  - а) чек;
  - б) вклад в банке до востребования;
  - в) вексель;



г) банкнота.

7. Что оказывает прямое влияние на увеличение количества денег в обращении:

- а) увеличение безналичных расчётов;
- б) увеличение скорости оборота денег;
- в) снижение количества выпускаемых товаров;
- г) рост цен выпускаемых товаров.

8. Предположим, что ЦБ РФ принял решение включить находящиеся на руках у граждан России доллары США в российские денежные агрегаты. В какой агрегат их включить:

- а) M0;
- б) M1;
- в) M2,
- г) M3.

9. Какая функция денег наиболее отчётливо иллюстрирует следующую ситуацию: для покупки автомобиля Вам нужны деньги и Вы собираетесь продать загородный дом для этого:

- а) средство обращения;
- б) средство накопления;
- в) мера стоимости;
- г) средство платежа.

10. Какая функция денег наиболее отчётливо иллюстрирует следующую ситуацию: как человек бережливый, Вы иногда откладываете деньги «на чёрный день»:

- а) средство обращения;
- б) средство накопления;
- в) мера стоимости;
- г) средство платежа.

11. Какая функция денег наиболее отчётливо иллюстрирует следующую ситуацию: в ресторане, куда Вы пришли со своей подругой, официант предлагает Вам меню с указанием цен готовящихся блюд:

- а) средство обращения;
- б) средство накопления;
- в) мера стоимости;
- г) средство платежа.

12. Реальную стоимость банкноты сегодня определяет:

- а) стоимость бумаги, на которой она напечатана;
- б) цена на золото;
- в) затраты труда на изготовление банкноты;
- г) стоимость товаров и услуг, которые на неё можно купить;

13. Какие функции денег положены в основу определения денежного агрегата M<sub>0</sub>:

- а) средство обращения;
- б) средство накопления;
- в) мера стоимости;
- г) средство платежа.

14. Что из перечисленного не является кредитными деньгами?

- а) чек;
- б) акция;
- в) вексель;
- г) 100 рублей на счёте до востребования.

15. Какая функция денег наиболее отчётливо иллюстрирует следующую ситуацию:  
в магазине, куда Вы пришли для выбора подарка, продавец даёт вам прайс-лист:

- :а) средство обращения;
- б) средство накопления;
- в) мера стоимости;
- г) средство платежа.

16. Что относится к товарным деньгам:

- а) вексель;
- б) банкнота;
- в) золото;
- г) бумажные деньги.

17. Что НЕ относится к товарным деньгам:

- а) шкура зверя;
- б) серебро;
- в) золото;
- г) банкнота.

18. Стоимость денег:

- а) может повыситься или понизиться;
- б) всегда остается одинаковой;
- в) возрастает с течением времени;
- г) поднимается с ростом цен.

19. Отличительной чертой бумажных денег является:

- а) обеспечение их золотым запасом страны;
- б) эмиссия их Центральным банком страны;
- в) неподверженность их инфляции;
- г) верно а) и б).

20. Ставка рефинансирования (учетная ставка) есть:

- а) усредненная доходность государственных облигаций;
- б) процент по срочным вкладам;
- в) процент по кредитам, выдаваемым Центральным банком;
- г) доля обязательных резервов коммерческих банков, хранящаяся в Центральном банке.

21. Увеличение учетной ставки приведет в перспективе:

- а) к увеличению резервов коммерческих банков, поскольку повысится доходность кладов;
- б) к увеличению резервов коммерческих банков, поскольку усложнится получение кредитов у Центрального банка;
- в) уменьшению резервов коммерческих банков, поскольку они вынуждены будут платить больше процентов по срочным вкладам;
- г) увеличению резервов коммерческих банков, поскольку увеличится денежный

мультипликатор.

22. Можно утверждать, что при прочих равных условиях количество денег в экономике уменьшится, если:

- а) резервную норму и учетную ставку увеличить;
- б) резервную норму увеличить, а учетную ставку уменьшить;
- в) резервную норму уменьшить, а учетную ставку увеличить;
- г) резервную норму и учетную ставку уменьшить.

23. Количество кредитных денег, создаваемых банковской системой равно:

- а) суммарным избыточным резервам коммерческих банков, деленным на банковский мультипликатор;
- б) суммарным обязательным резервам, умноженным на денежный мультипликатор;
- в) суммарным избыточным резервам, деленным на резервную норму;
- г) суммарным избыточным резервам, умноженным на резервную норму.

24. Банковский мультипликатор равен:

- а) суммарным избыточным резервам коммерческих банков;
- б) числу, обратному резервной норме;
- в) числу, обратному учетной ставке;
- г) отношению ссудного потенциала банковской системы к суммарным избыточным резервам.

25. К функциям центрального банка относятся:

- а) регулирование денежного обращения;
- б) выдача кредитов населению;
- в) оплата долгов государства;
- г) сбор временно свободных денежных средств населения.

26. Если ЦБ примет решение увеличить предложение денег, то он будет:

- а) осуществлять покупку государственных облигаций на открытом рынке;
- б) уменьшать учетную ставку;
- в) увеличивать норму обязательного резервирования;
- г) все перечисленное верно.

### **«Уметь» - ориентироваться в вопросах функционирования денежно-кредитной сферы**

1. Резервы коммерческих банков составляют 1 млрд руб. Депозиты равняются 6 млрд руб. Норма обязательного резервирования равна 25%. Если ЦБ решит снизить норму обязательного резервирования до 20%, то на какую величину ЦБ сможет увеличить предложение денег?

2. Норма обязательного резервирования равна 25%. С помощью операций на открытом рынке с государственными ценными бумагами ЦБ может увеличить предложение денег на 440 млн руб. На какую сумму в этом случае ЦБ должен купить ценных бумаг?

3. Банковский мультипликатор равен 4. Максимальное дополнительное предложение денег, которое может «создать» банковская система, равно 40 млн руб. Определить норму обязательного резервирования и сумму, которую банки использовали для выдачи ссуд.

4. Предположим, норма обязательного резервирования равна 15%. Величина депозитов КБ составляет 15000 руб. Банк может выдать ссуды не более 12150 руб. Каковы избыточные резервы банка в процентах от депозитов?

5. В банковской системе суммарные чековые вклады равны  $a$  млрд руб., суммарные резервы – 26 млрд руб. Резервная норма равна  $2b\%$ . Найти изменение ссудного потенциала банковской системы, если резервная норма уменьшилась вдвое.

Вариант	1	2	3	4	5	6	7	8
$a$	42	25	15	18	50	56	16	35
$b$	3	5	3	3	5	7	4	7

6. Суммарные резервы банковской системы равны 20, чековые вклады равны 150. Резервная норма равна 10%. При какой резервной норме ссудный потенциал системы увеличится вдвое?

7. Суммарные резервы банковской системы равны 10. Во сколько раз увеличится ссудный потенциал банковской системы, если резервную норму уменьшить с 10 до 5%, а суммарные чековые вклады составляют а) 40; б) 80?

8. Резервная норма равна 10%. Найти изменение ссудного потенциала банковской системы, если приняты вклады на сумму  $b$ .

9. Денежное предложение в США в 1991 г. составило 897 млрд долл., а избыточные резервы – 325 млрд долл. Найти банковский мультипликатор.

10. В банковской системе два коммерческих банка. Избыточные резервы первого равны 10 млн долл., второго – 20 млн долл. Резервная норма равна 15%. Найти ссудный потенциал банковской системы.

11. В банковской системе суммарные чековые вклады равны 300 млн долл., суммарные резервы – 50 млн долл. Резервная норма увеличилась с 10 до 15%. Найти процентное изменение ссудного потенциала банковской системы.

12. В таблице приведены индексы цен по годам (в процентах к 1-му году):

Год	Индекс цен	Темп инфляции (в%)
1	100,00	---
2	109,00	---
3	121,00	---

а) Рассчитайте темп (уровень) инфляции для каждого года.

б) Используя «правило величины 70», определите количество лет, необходимое для удвоения уровня цен.

13.. Если индекс цен в прошлом году был 140%, а в этом году – 154%, то каков темп инфляции в этом году, если индексы цен рассчитаны по отношению к базисному году? Через сколько лет уровень цен удвоится, если этот темп инфляции сохранится?

14.Как изменится размер реального дохода, если номинальный увеличился на 10, а уровень цен вырос 7%.

Максимальная сумма баллов, набираемая студентом по дисциплине «Основы экономической теории» равна 100.

Оценка в баллах	Оценка по шкале	Обоснование	Уровень сформированности компетенций
Более 80	«Отлично»	Содержание курса освоено полностью, без пробелов, необходимые практические навыки работы с освоенным материалом сформированы, все предусмотренные программой обучения учебные задания выполнены, качество их выполнения оценено числом баллов, близким к максимальному	<b>Высокий уровень</b>
66-80	«Хорошо»	Содержание курса освоено полностью, без пробелов, некоторые практические навыки работы с освоенным материалом сформированы недостаточно, все предусмотренные программой обучения учебные задания выполнены, качество выполнения ни одного из них не оценено минимальным числом баллов, некоторые виды заданий выполнены с ошибками	<b>Продвинутый уровень</b>
50-65	«Удовлетворительно»	Содержание курса освоено частично, но пробелы не носят существенного характера, необходимые практические навыки работы с освоенным материалом в основном сформированы, большинство предусмотренных программой обучения учебных заданий выполнено, некоторые из выполненных заданий, возможно, содержат ошибки	<b>Пороговый уровень</b>
Менее 50	«Неудовлетворительно»	Содержание курса не освоено, необходимые практические навыки работы не сформированы, выполненные учебные задания содержат грубые ошибки	Компетенции не сформированы