

Министерство образования и науки Российской Федерации
Муромский институт (филиал)
федерального государственного бюджетного образовательного учреждения
высшего образования
**«Владимирский государственный университет
имени Александра Григорьевича и Николая Григорьевича Столетовых»**
(МИ ВлГУ)

Отделение среднего профессионального образования

**ФОНД ОЦЕНОЧНЫХ СРЕДСТВ
ДЛЯ ТЕКУЩЕГО КОНТРОЛЯ И ПРОМЕЖУТОЧНОЙ АТТЕСТАЦИИ
ПРИ ИЗУЧЕНИИ УЧЕБНОЙ ДИСЦИПЛИНЫ**

Экономика
наименование дисциплины

38.02.01 Экономика и бухгалтерский учет
код и наименование специальности

Программа подготовки специалистов среднего звена

Муром, 2017 г.

ПАСПОРТ ФОНДА ОЦЕНОЧНЫХ СРЕДСТВ

Фонд оценочных средств (ФОС) для текущего контроля успеваемости и промежуточной аттестации по дисциплине «Экономика» разработан в соответствии с рабочей программой, входящей в программу подготовки специалистов среднего звена по специальности 38.02.01 «Экономика и бухгалтерский учет (по отраслям)»

№№ п/п	Контролируемые темы дисциплины	Наименование оценочного средства
1	Экономика и экономическая наука.	Устный опрос, доклад, тестирование
2	Экономические системы. Собственность и конкуренция	Устный опрос, тестирование
3	Семейная экономика	Устный опрос, тестирование
4	Товар и его стоимость	Устный опрос, доклад, тестирование
5	Рыночный механизм. Рыночное равновесие	Устный опрос, тестирование
6	Фирма	Устный опрос, тестирование
7	Роль государства в экономике	Устный опрос, тестирование
8	Показатели экономического роста. Экономические циклы	Устный опрос, тестирование
9	Рынок труда и безработица	Устный опрос, тестирование
10	Деньги, банки, инфляция	Устный опрос, доклад, тестирование
11	Международная экономика	Устный опрос, тестирование, индивидуальный проект

Фонд оценочных средств по дисциплине «Экономика» предназначен для аттестации обучающихся на соответствие их персональных достижений поэтапным требованиям образовательной программы, в том числе рабочей программы дисциплины «Экономика», для оценивания результатов обучения: знаний и умений.

Фонд оценочных средств по дисциплине «Экономика» включает:

1. Оценочные средства для проведения текущего контроля успеваемости:

Устный опрос как средство контроля усвоения учебного материала темы, организованное как учебное занятие в виде опроса студентов.

Тесты как система стандартизированных знаний, позволяющая провести процедуру измерения уровня знаний и умений обучающихся.

Доклад как продукт самостоятельной работы студента, представляющий собой публичное выступление по представлению полученных результатов решения определенной учебно-практической, учебно-исследовательской или научной темы.

Индивидуальный проект как продукт самостоятельной работы студента, позволяющий реализовать возможности демонстрации личностных достижений в самостоятельном освоении избранных областей знания, способности проектирования и осуществления результативной творческой деятельности.

2. Оценочные средства для проведения промежуточной аттестации в форме:

Итогового теста для проведения дифференцированного зачета.

Перечень результатов, формируемых в процессе изучения дисциплины «Экономика» при освоении образовательной программы подготовки специалистов среднего звена по специальности 38.02.01 «Экономика и бухгалтерский учет (по отраслям)»

• личностных:

- развитие личностных, в том числе духовных и физических, качеств, обеспечивающих защищенность обучающегося для определения жизненно важных интересов личности в условиях кризисного развития экономики, сокращения природных ресурсов;
- формирование системы знаний об экономической жизни общества, определение своих места и роли в экономическом пространстве;
- воспитание ответственного отношения к сохранению окружающей природной среды, личному здоровью как к индивидуальной и общественной ценности;

• метапредметных:

- овладение умениями формулировать представления об экономической науке как системе теоретических и прикладных наук, изучение особенности применения экономического анализа для других социальных наук, понимание сущности основных направлений современной экономической мысли;
- овладение обучающимися навыками самостоятельно определять свою жизненную позицию по реализации поставленных целей, используя правовые знания, подбирать соответствующие правовые документы и на их основе проводить экономический анализ в конкретной жизненной ситуации с целью разрешения имеющихся проблем;
- формирование умения воспринимать и перерабатывать информацию, полученную в процессе изучения общественных наук, вырабатывать в себе качества гражданина Российской Федерации, воспитанного на ценностях, закрепленных в Конституции Российской Федерации;
- генерирование знаний о многообразии взглядов различных ученых по вопросам как экономического развития Российской Федерации, так и мирового сообщества; умение применять исторический, социологический, юридический подходы для всестороннего анализа общественных явлений;

• предметных:

- сформированность системы знаний об экономической сфере в жизни общества как пространстве, в котором осуществляется экономическая деятельность индивидов, семей, отдельных предприятий и государства;
- понимание сущности экономических институтов, их роли в социально-экономическом развитии общества; понимание значения этических норм и нравственных ценностей в экономической деятельности отдельных людей и общества, сформированность уважительного отношения к чужой собственности;
- сформированность экономического мышления: умения принимать рациональные решения в условиях относительной ограниченности доступных ресурсов, оценивать и принимать ответственность за их возможные последствия для себя, своего окружения и общества в целом;
- владение навыками поиска актуальной экономической информации в различных источниках, включая Интернет; умение различать факты, аргументы и оценочные суждения; анализировать, преобразовывать и использовать экономическую информацию для решения практических задач в учебной деятельности и реальной жизни;
- сформированность навыков проектной деятельности: умение разрабатывать и реализовывать проекты экономической и междисциплинарной направленности на основе базовых экономических знаний и ценностных ориентиров;
- умение применять полученные знания и сформированные навыки для эффективного

исполнения основных социально-экономических ролей (потребителя, производителя, покупателя, продавца, заемщика, акционера, наемного работника, работодателя, налогоплательщика);

– способность к личностному самоопределению и самореализации в экономической деятельности, в том числе в области предпринимательства; знание особенностей современного рынка труда, владение этикой трудовых отношений;

– понимание места и роли России в современной мировой экономике; умение ориентироваться в текущих экономических событиях, происходящих в России и мире.

Знать	Уметь
<ul style="list-style-type: none"> - смысл основных теоретических положений экономической науки; - основные экономические принципы функционирования семьи, фирмы, рынка и государства, а также международных экономических отношений. 	<ul style="list-style-type: none"> - описывать предмет и метод экономической науки, факторы производства, цели фирмы, банковскую систему, рынок труда, экономические циклы, глобальные экономические проблемы; -объяснять экономические явления с помощью альтернативной стоимости; выгоды обмена; закон спроса, причины неравенства доходов; роль минимальной оплаты труда, последствия инфляции; -различать спрос и величину спроса, предложение и величину предложения, рыночные структуры, организационно-правовые формы предприятий; - вычислять равновесную цену и объем продаж, экономические и бухгалтерские затраты и прибыль, реальный и номинальный ВВП, темп инфляции, уровень безработицы. -вычислять на условных примерах величину рыночного спроса и предложения, изменения спроса (предложения) в зависимости от изменения формирующих его факторов, равновесную цену и объем продаж; экономические и бухгалтерские затраты и прибыль, смету(бюджет) доходов и расходов, спрос фирмы на труд; роль минимальной оплаты труда; реальный и номинальный ВВП, темп инфляции, уровень безработицы.

Показатели, критерии и шкала оценивания компетенций текущего контроля знаний по учебной дисциплине «Экономика»

Текущий контроль знаний в рамках изучения дисциплины «Экономика» предполагает устный опрос, тестирование, представление доклада по отдельным темам дисциплины.

Регламент проведения и оценивание устного опроса

В целях закрепления практического материала и углубления теоретических знаний по темам дисциплины «Экономика» предполагается выполнение устных опросов студентов, что позволяет углубить процесс познания, раскрыть понимание прикладной значимости осваиваемой дисциплины.

Регламент проведения мероприятия

№	Вид работы	Продолжительность
1.	Предел длительности устного опроса	15 мин.
	Итого (в расчете на один опрос)	15 мин.

Критерии оценки устного опроса

Оценка	Критерии оценивания
<i>1 балл</i>	<i>Ответ на вопрос раскрыт полностью или при верном ответе допущена незначительная ошибка, не влияющая на правильную последовательность рассуждений.</i>
<i>0,5 баллов</i>	<i>Ответ дан частично.</i>
<i>0 баллов</i>	<i>Ответ неверен или отсутствует.</i>

Регламент проведения и оценивание тестирования студентов

В целях закрепления практического материала и углубления теоретических знаний по разделам дисциплины «Экономика» предполагается выполнение тестирования студентов, что позволяет углубить процесс познания, раскрыть понимание прикладной значимости осваиваемой дисциплины.

Регламент проведения мероприятия

№	Вид работы	Продолжительность
1.	Предел длительности тестового задания (6 заданий из блока «знать» и 4 задания из блока «уметь»)	15 мин.
	Итого (в расчете на тест)	15 мин.

Критерии оценки тестирования студентов

Оценка выполнения тестов	Критерии оценки
0,5 балла за правильный ответ на 1 вопрос из блока «знать» и 1 балл за правильный ответ на 1 вопрос из блока «уметь»	правильно выбранный вариант ответа (в случае закрытого теста), правильно вписанный ответ (в случае открытого теста)

Регламент проведения и оценивание самостоятельной работы студентов

В целях закрепления практического материала и углубления теоретических знаний по разделам дисциплины «Экономика» предполагается выполнение самостоятельной работы студентов, что позволяет углубить процесс познания, раскрыть понимание прикладной значимости осваиваемой дисциплины.

Регламент проведения мероприятия

№	Вид работы	Продолжительность
1.	Самостоятельная работа над индивидуальным проектом	5 часов
2.	Подготовка докладов по отдельным темам	5 часа
	Работа с учебной литературой (подготовка конспекта), решение задач	28 часов
	Итого	38 часов

Индивидуальный проект представляет собой учебный, исследовательский проект с целью реализации возможности демонстрации личностных достижений в самостоятельном освоении избранных областей знания, способности проектирования и осуществления результативной творческой деятельности.

Проектная деятельность является одной из форм организации учебного процесса и внеаудиторной деятельности обучающихся и направлена на повышение качества образования.

Индивидуальный проект выполняется обучающимся самостоятельно, под руководством преподавателя, по выбранной теме.

В процессе работы над проектом обучающийся под контролем руководителя планирует свою деятельность по этапам:

- подготовительный;
- основной;
- заключительный.

Подготовительный этап включает в себя выбор темы и руководителя проекта.

Основной этап включает в себя совместную с руководителем разработку плана реализации проекта, сбор и изучение литературы, отбор и анализ информации, выбор способа представления результатов, оформление работы, предварительная проверка проекта.

Заключительный этап проходит в форме защиты индивидуального проекта в утвержденные сроки.

Законченная и полностью оформленная работа представляется руководителю для проверки и оценки.

Работа, не отвечающая установленным требованиям, возвращается для доработки с учетом сделанных замечаний и повторно предъявляется в срок, указанный руководителем.

Защита индивидуального проекта проводится в специально отведенное время и представляет собой устный публичный отчет студента, на который ему отводится 7-8 минут, ответы на вопросы руководителя проекта. Устный отчет студента включает: раскрытие целей и задач проектирования, его актуальность, описание выполненного проекта, основные выводы и предложения, разработанные студентом в процессе выполнения индивидуального проекта.

Обучающийся, не представивший в установленный срок индивидуального проекта или не защитивший его по неуважительной причине, считается имеющим академическую задолженность.

Индивидуальный проект должен быть подготовлен обучающимся в сроки, предусмотренные учебным планом.

Результаты выполнения проекта оцениваются руководителем ИП.

По итогам защиты представленного продукта руководитель проекта выставляет оценку.

Анализ результатов выполнения индивидуального проекта проводится по следующим критериям:

1. Навыки самостоятельной работы с материалами, по их обработке, анализу и структурированию.

2. Умение правильно применять методы исследования.

3. Умение грамотно интерпретировать полученные результаты.

4. Способность осуществлять необходимые расчеты, получать результаты и грамотно излагать их.

5. Умение выявить проблему, предложить способы ее разрешения, умение делать выводы.

6. Умение оформить итоговый отчет в соответствии со стандартными требованиями.

Пункты с 1 по 6 дают до 50% вклада в итоговую оценку студента.

7. Умение защищать результаты своего проекта, грамотное построение речи, использование при выступлении специальных терминов.

8. Способность кратко и наглядно изложить результаты проекта.

Пункты 7,8 дают до 35% вклада в итоговую оценку студента.

9. Уровень самостоятельности, творческой активности и оригинальности при выполнении проекта.

10. Выступления на конференциях и подготовка к публикации тезисов для печати по итогам проекта.

Пункты 9, 10 дают до 15 % вклада в итоговую оценку студента.

Оценка «отлично» ставится студенту, который в срок, в полном объеме и на высоком уровне выполнил индивидуальный проект. При защите и написании проекта студент продемонстрировал вышеперечисленные навыки и умения. Тема, заявленная в проекте, раскрыта полностью, все выводы студента подтверждены материалами исследования и расчетами. Отчет подготовлен в соответствии с предъявляемыми требованиями.

Оценка «хорошо» ставится студенту, который выполнил индивидуальный проект, но с незначительными замечаниями, был менее самостоятелен и инициативен. Тема проекта раскрыта, но выводы носят поверхностный характер, практические материалы обработаны не полностью.

Оценка «удовлетворительно» ставится студенту, который допускал просчеты и ошибки в проекте, не полностью раскрыл заявленную тему, делал поверхностные выводы, слабо продемонстрировал аналитические способности и навыки работы с теоретическими источниками.

Оценка «неудовлетворительно» ставится студенту, который не выполнил индивидуальный проект, либо выполнил с грубыми нарушениями требований, не раскрыл заявленную тему.

Примерная тематика индивидуальных проектов:

1. Экономические кризисы в истории России.
2. Россия на рынке технологий.
3. Проблема цен в современной России.
4. Государство для экономики или экономика для государства?
5. Конкурентоспособность России на мировом рынке. Может ли Россия стать брэндом?
6. Актуальные проблемы внешних экономических связей России
7. Интеграция России в систему мировых торгово-экономических отношений
8. Особенности инфляционных процессов в России в конкретных экономических ситуациях
9. Проблема занятости в современной России
10. Актуальные проблемы экономической безопасности РФ
11. Акценты и приоритеты внутренней инвестиционной политики России
12. Проблемы платежного баланса РФ и вступление в ВТО
13. Способы защиты российской банкноты

Самостоятельная работа студентов предполагает подготовку докладов по отдельным темам дисциплины.

Примерная тематика докладов:

1. Этапы становления экономической науки.
2. Лауреаты Нобелевской премии по экономике и их вклад в развитие экономической мысли.
3. Организация предпринимательской деятельности. Проблемы ее реализации на современном этапе развития.
4. Роль малого бизнеса в развитии экономики РФ (региона, муниципального образования).
5. Мнение ученых экономистов XVII – XVIII веков по вопросу определения стоимости товара.
6. Теория трудовой стоимости, теория предельной полезности, теория предельной полезности и издержек производства.
7. Фискальная (налоговая) политика и ее роль в стабилизации экономики.
8. Бюджетный дефицит и концепции его регулирования.
9. Уровень жизни: понятие и факторы, его определяющие.
10. Центральный банк РФ и его роль.
11. Функции коммерческих банков.

Критерии оценки доклада студентов

Оценка	Критерии оценивания
4-5 баллов	<i>содержание доклада соответствует заявленной в названии тематике; доклад имеет чёткую композицию и структуру; в тексте доклада отсутствуют логические нарушения в представлении материала; доклад представляет собой самостоятельное исследование, представлен качественный анализ найденного материала</i>
2-3 балла	<i>содержание доклада соответствует заявленной в названии тематике; в целом доклад имеет чёткую композицию и структуру, но в тексте доклада есть логические нарушения в представлении материала, доклад представляет собой самостоятельное исследование, представлен качественный анализ найденного материала</i>
1	<i>содержание доклада соответствует заявленной в названии тематике; в целом доклад имеет чёткую композицию и структуру, но в тексте доклада есть логические нарушения в представлении материала; доклад не представляет собой самостоятельного исследования, отсутствует анализ найденного материала, текст доклада представляет собой не переработанный текст другого автора (других авторов).</i>

Самостоятельная работа студентов предполагает работу с учебной литературой (подготовка конспекта) и решение задач по отдельным темам.

Критерий оценки самостоятельной работы

Оценка выполнения самостоятельной работы	Критерии оценки
15 баллов	<i>Самостоятельная работа выполнена студентом в полном объеме и правильно (подготовлен конспект материалов и решены все задачи для домашнего выполнения)</i>
7 баллов	<i>Самостоятельная работа выполнена не полностью или имеются незначительные ошибки (конспект материалов подготовлен не в полном объеме, имеются незначительные ошибки в решении задач)</i>
0 баллов	<i>Самостоятельная работа не выполнена</i>

ОЦЕНОЧНЫЕ СРЕДСТВА ДЛЯ ТЕКУЩЕГО КОНТРОЛЯ ЗНАНИЙ ПО УЧЕБНОЙ ДИСЦИПЛИНЕ «Экономика»

Вопросы для проведения устного опроса, тест

Тема 1. Экономика и экономическая наука

Блок 1 «Знать»

Вопросы для проведения устного опроса:

1. Какие определения экономики Вам известны?
2. Что такое экономические законы?
3. Какие экономические законы Вам известны?
4. Назовите и охарактеризуйте основные методы экономической науки.
5. Определите различия между позитивными и нормативными утверждениями.
6. Раскройте ключевые функции экономики.
7. Разъясните место экономики в системе экономических наук.
8. Охарактеризуйте уровни (разделы) экономики (микро-, мезо, макро-, мегаэкономика).
9. В чем проявляется проблема ограниченности ресурсов и какими способами ее можно разрешить?
10. Раскройте проблему альтернативного выбора в хозяйственной жизни.
11. Разъясните сущность вмененных издержек и особенности их учета в экономических исследованиях.
12. Раскройте известные Вам классификации ресурсов и факторов производства.
13. Раскройте сущность и содержание экономических отношений.

Тест:

1. Предметом экономики является:
 - а) изучение социальных отношений в обществе;
 - б) изучение политических отношений в обществе;
 - в) изучение экономических отношений в процессе производства, распределения и потребления материальных благ в целях удовлетворения потребностей при ограниченных ресурсах;
 - г) изучение экономического поведения отдельных групп потребителей, фирм и собственников ресурсов.
2. При каком из методов изучения хозяйственных явлений исследователь отвлекается от второстепенных сторон явлений, чтобы выявить то, что в них существенно и постоянно повторяется?
 - а) метод математического моделирования;
 - б) метод анализа и синтеза;
 - в) метод индукции;
 - г) метод научной абстракции.
3. Что свойственно экономическим законам?
 - а) объективность;
 - б) субъективность;
 - в) вечность;
 - г) носят естественный характер.

4. Укажите, какие существуют фундаментальные вопросы экономики:

- а) Что производить? Кто должен производить? Из чего производить?;
- б) Что добывать? Какой объем добывать? Как распределять?;
- в) Что производить? Как производить? Для кого производить?;
- г) Что покупать? По какой цене покупать? Кому продавать?.

5. Какая из экономических школ первой сделала предметом своего анализа процесс производства:

- а) кейнсианская школа;
- б) меркантилизм;
- в) маржинализм;
- г) физиократы.

6. Микроэкономика изучает:

- а) функционирование экономики как единого целого;
- б) эффективность распределения и использования ресурсов;
- в) поведение фирм и потребителей;
- г) формирование валютных курсов.

7. В качестве предмета политической экономии К.Маркс выделял:

- а) процесс накопления первоначального капитала;
- б) систему эксплуатации рабочего класса;
- в) отношения между людьми, складывающиеся в процессе производства, распределения, обмена и потребления экономических благ;
- г) процесс потребления как наиболее важное связующее звено между классами.

8. В рамках кейнсианской школы:

- а) доминирующее положение занимает идея свободного рынка;
- б) обосновывалась необходимость государственного вмешательства в экономику;
- в) богатство нации определялось через драгоценные металлы;
- г) предметом исследования являлись микроэкономические процессы в обществе.

9. Первой экономической школой является:

- а) кейнсианство;
- б) меркантилизм;
- в) маржинализм;
- г) классическая школа.

10. Что из нижеперечисленного не является экономической школой:

- а) неоклассики;
- б) посткейнсианство;
- в) институционализм;
- г) постмодернизм.

11. Физиократы считали, что:

- а) богатство создается в сельском хозяйстве;
- б) ценность блага определяется его предельной полезностью;
- в) государство должно активно вмешиваться в экономические процессы;
- г) в управлении экономикой необходимо сделать акцент на денежно-кредитной политике.

12. Что не является экономической целью общества:

- а) стабильность цен;
- б) полная занятость;
- в) экономическая свобода;
- г) равенство доходов.

13. Найдите верное утверждение: потребности

- а) безграничны;
- б) взаимообусловлены;
- в) историчны;
- г) все утверждения верны.

14. Экономические блага:

- а) всегда ограничены.
- б) имеются в наличии в неограниченном количестве.
- в) могут быть как ограниченными, так и неограниченными.

15. Экономическими благами являются:

- а) выпеченный хлеб;
- б) деревья в лесу;
- в) мебель в магазине;
- г) уголь в недрах земли.

16. К неэкономическим благам относятся:

- а) воздух;
- б) чистую питьевую воду;
- в) земельные участки;
- г) энергию ветра

17. Ресурсами не являются:

- а) продукты питания;
- б) полезные ископаемые;
- в) квалифицированная рабочая сила;
- г) заводские здания и сооружения

18. К основным факторам производства относятся:

- а) деньги;
- б) труд;
- в) капитал;
- г) земля;
- д) неэкономические ресурсы.

19. К какому типу экономических ресурсов (факторов производства) относится бухгалтер магазина, входящего в крупную розничную сеть?

- а) Предпринимательская способность
- б) Капитал
- в) Земля
- г) Труд

20. При построении кривой производственных возможностей используются следующие допущения:

- а) полная занятость ресурсов и эффективность производства;
- б) открытая экономика;
- в) выпускается только два товара;
- г) количество ресурсов не меняется;
- д) темпы технического прогресса остаются неизменными.

21. Выберите комбинацию, включающую только разные факторы производства:

- а) нефть, логист, деньги;
- б) экономист, шахта, акции;
- в) IT-специалист, токарный станок, цех;
- г) эколог, буровая установка, уголь.

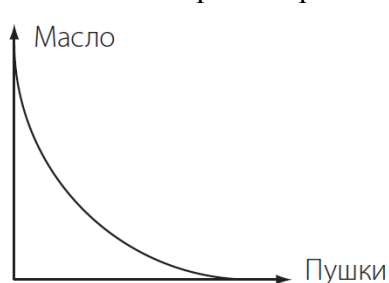
22. Что имеют в виду, утверждая, что каждая экономическая система сталкивается с фактом ограниченности ресурсов:

- а) некоторые ресурсы можно купить только по высоким ценам;
- б) с ограниченностью ресурсов сталкиваются бедные государства, богатые же смогли преодолеть эту проблему;
- в) экономические ресурсы никогда не бывают достаточными, чтобы удовлетворить все человеческие потребности;
- г) в любой экономике бывают периоды спада, когда существует ограниченность ресурсов.

23. Правостороннее смещение кривой производственных возможностей может объясняться следующими факторами:

- а) переходом от неполного использования имеющихся ресурсов к полному их использованию;
- б) появлением более эффективной технологии производства;
- в) открытием новых месторождений полезных ископаемых;
- г) переквалификацией работников с производства более дешёвого продукта на производство более дорогого продукта;
- д) повышением ресурсоёмкости производства.

24. Может ли кривая производственных возможностей принимать такой вид:



- а) да;
- б) нет;
- в) при некоторых технологиях производства.

25. Альтернативные издержки хранения денег в виде наличности:

- а) растут при увеличении процента по вкладам;
- б) определить нельзя, так как к деньгам вообще нельзя применить принцип альтернативной стоимости;
- в) снижаются при увеличении процента по вкладам;
- г) равны нулю, так как деньги не являются фактором производства.

Блок 2 «Уметь»

Тест:

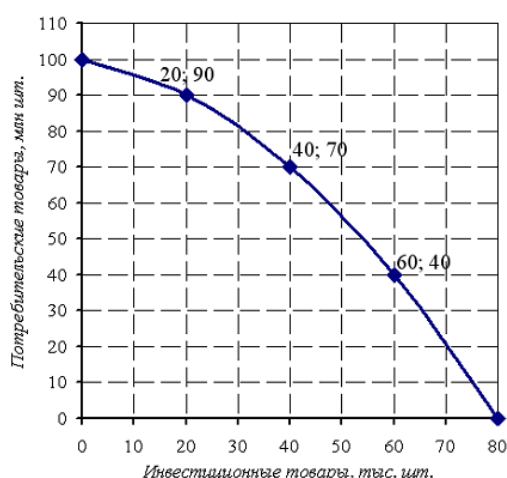
1. На основании таблицы определите альтернативные издержки производства товара В:

Варианты	Товар А	Товар В
1	4000	100
2	3000	200

2. На основании таблицы определите альтернативные издержки производства товара А:

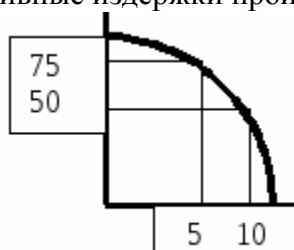
Варианты	Товар А	Товар В
1	4000	100
2	3000	200

3. Экономика некоторой страны находится на границе своих производственных возможностей, которые отражены на графике:

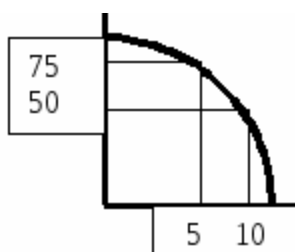


Текущая ситуация: производится 60 тыс. шт. инвестиционных товаров и 40 млн шт. потребительских товаров. Альтернативная стоимость решения об увеличении производства потребительских товаров на 50 млн.шт. равна ____ тыс. шт. инвестиционных товаров.

4. Дана графическая модель производственных возможностей экономики. Альтернативные издержки производства единицы продукции А (ордината) составят ...



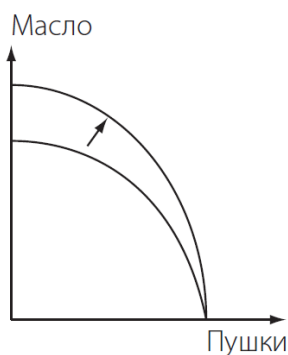
5. Дана графическая модель производственных возможностей экономики. Альтернативные издержки производства единицы продукции В (абсцисса) составят ...



6. Сокращение объёма выпуска товара А на 25 ед. вызвало увеличение производства товара В с 0 до 100 ед. Альтернативная стоимость производства 1 ед. товара В составляет ____ ед. товара А.

7. Сокращение объёма выпуска товара А на 40 ед. вызвало увеличение производства товара В с 50 до 120 ед. Альтернативная стоимость производства 1 ед. товара В составляет ____ ед. товара А.

8. Если линия производственных возможностей сдвинется так, как показано на рисунке, то это будет означать, что:



- а) новая технология сделала более эффективным только производство пушек;
- б) новая технология сделала более эффективным только производство масла;
- в) новая технология сделала более эффективным производство как пушек, так и масла;
- г) новая технология сделала производство пушек менее эффективным, а производство масла — более эффективным.

9. На основании таблицы определите альтернативные издержки производства товара В:

Варианты	Товар А	Товар В
1	400	50
2	250	100

10. На основании таблицы определите альтернативные издержки производства товара А:

Варианты	Товар А	Товар В
1	400	50
2	250	100

10. Установите соответствие между отдельными разделами экономической теории и примерами области их изучения:

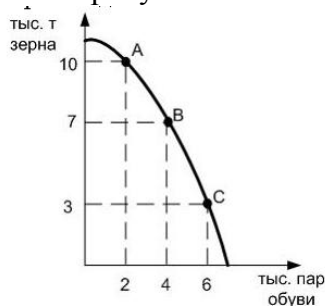
- 1. Макроэкономика
- 2. Микроэкономика

Варианты ответов:

- а) Безработица в стране

- б) Функционирование экономики США
- в) Бухгалтерский баланс ОАО РЖД
- г) Спрос и предложение молока

11. На рисунке показана кривая производственных возможностей



Если экономика движется от точки В к точке С, то альтернативные издержки увеличения производства 2 тыс. пар будут равны _____ тыс. т. зерна

- а) 3
- б) 4
- в) 5
- г) 7

12. _____ - это упрощенные представления о взаимосвязях между экономическими переменными (впишите пропущенное слово)

13. _____ - это средства, с помощью которых удовлетворяются потребности (впишите пропущенное слово)

14. В основе пирамиды потребностей Маслоу лежат _____ потребности (впишите пропущенное слово)

15. Основными факторами производства являются: _____, _____, _____ (впишите пропущенные слова)

16. Производственные возможности экономики приведены в таблице

Ракеты	5	4	3	2	1	0
Компьютеры	0	6	11	15	18	20

Экономика производит 3 ракеты и 11 компьютеров. Определите альтернативные издержки производства четвертой ракеты:

- а) три компьютера;
- б) четыре компьютера;
- в) пять компьютеров;
- г) шесть компьютеров.

Тема 2. Экономические системы. Собственность и конкуренция

Блок 1 «Знать»

Вопросы для проведения устного опроса:

1. Какие типы экономических систем вы знаете?
2. В чем особенность командно-административной экономики?
3. Особенности рыночной экономики.
4. Какие основные модели в рамках систем вы можете назвать?
5. Назовите основные особенности шведской модели.
6. Особенности американской модели.
7. Основные характеристики японской модели.
8. Основные характеристики южно-корейской модели.
9. Охарактеризуйте рыночное хозяйство ФРГ.
10. Особенности переходной экономики в России.
11. Что представляет собой собственность?
12. Какие виды собственности вы знаете?
13. Какие права собственности вы знаете?
14. Дайте понятие конкуренции?
15. Какие виды конкуренции вы знаете?
16. Какие формы конкуренции вы можете назвать?
17. Что представляет собой совершенная конкуренция.
18. Охарактеризуйте монополистическую конкуренцию.
19. Дайте понятие олигополии.
20. Дайте понятие монополии.

Тест:

1. Если рыночная система не может существовать без четырех основных условий, то товарное производство может базироваться только на двух из них, каких?
 - а) общественное разделение труда;
 - б) экономическое обособление;
 - в) многообразие субъектов рынка;
 - г) правомочность субъектов рынка в заключении сделок.
2. Традиционное хозяйство характеризуется наличием:
 - а) крупного машинного производства в значительной части отраслей хозяйства;
 - б) значительной долей ручного труда;
 - в) значительной дифференциацией доходов населения;
 - г) значительным влиянием на производство и управление государством кровнородственных связей.
3. Характеристика административно-командной системы не включает следующие условия:
 - а) наличие государственной формы собственности;
 - б) наличие государственной формы хозяйствования;
 - в) наличие крупного машинного производства;
 - г) наличие многообразных субъектов рынка.
4. В смешанной экономике роль государства:
 - а) никак не проявляется;

- б) ограничена;
- в) значительна;
- г) проявляется во всех секторах хозяйств.

5. Какая из характеристик не относится к рыночной экономике:

- а) конкуренция;
- б) частная собственность;
- в) централизованное планирование;
- г) свобода предпринимательского выбора.

6. Когда экономические проблемы решаются частично рынком, частично правительством, то экономика:

- а) командная;
- б) рыночная;
- в) натуральная;
- г) смешанная.

7. Простое товарное производство характеризуется наличием:

- а) множества продавцов;
- б) множества покупателей;
- в) регулированием цен со стороны государства;
- г) конкуренцией среди субъектов рынка.

8. Особенностью простого товарного производства в отличие от рыночного хозяйства является:

- а) наличие частной собственности;
- б) совмещение в одном лице и собственника средств производства, и непосредственного производителя;
- в) свобода предпринимательского выбора;
- г) невмешательство государства в деятельность отдельного субъекта.

9. Смешанная экономика характеризуется только:

- а) наличием крупного машинного производства;
- б) натуральным хозяйством;
- в) сочетанием крупного машинного производства и натурального хозяйства;
- г) сочетанием всех известных экономических укладов.

10. Социально ориентированная рыночная экономика присуща странам:

- а) с высоким уровнем развития производства;
- б) с низким уровнем развития производства;
- в) постсоциалистического периода;
- г) Азии и Африки.

11. Какой признак характеризует традиционную экономику?

- а) централизованное ценообразование
- б) регулирование производства при помощи обычаев
- в) конкуренция свободных производителей на рынке товаров
- г) преобладание частной собственности на средства производства

12. Что характеризует командную экономику?

- а) свобода предпринимательской деятельности
- б) многообразие форм собственности
- в) преобладание сельского хозяйства
- г) централизованное ценообразование

13. Какой признак характеризует рыночную экономику?

- а) государственная собственность на средства производства
- б) уравнительное распределение производимых благ
- в) свободная конкуренция товаропроизводителей
- г) незаинтересованность производителя в результатах труда

14. В каком из вариантов правильно названы все типы экономических систем?

- а) традиционная, рыночная, тоталитарная, смешанная
- б) централизованная, капиталистическая, традиционная, развитая
- в) смешанная, рыночная, командная, традиционная
- г) демократическая, традиционная, феодальная, централизованная

15. Какую экономическую систему характеризует следующий пример:

Вопросы производства и распределение продукции жестко регламентируются государством, государство устанавливает цены на продукцию:

- а) Командную (плановую)
- б) Свободную рыночную экономику
- в) Социально ориентированное рыночное хозяйство
- г) Традиционную экономику

16. Какая экономическая система основывается на общей собственности, где ограниченные ресурсы используются в соответствии с обычаями.

- а) рыночная
- б) традиционная
- в) командная
- г) смешанная

17. Смешанная экономика – это:

- а) экономическая система, основанная на частной собственности, свободном предпринимательстве и ценовом механизме регулирования экономики;
- б) экономическая система, в основе которой лежит государственная форма собственности, а общественное производство организуется на основе директивного планирования;
- в) экономическая система, основанная на общинной собственности, и господстве норм и обычаев, регламентирующих выбор экономических субъектов.
- г) экономическая система, основанная на частной собственности и свободном предпринимательстве, регулируемая государством.

18. Регулярное вмешательство государства в экономику характерно для:

- а) плановой экономики;
- б) смешанной экономики;
- в) традиционного общества;
- г) все ответы верны.

19. Если в какой-то отрасли несколько (3-7) фирм контролируют подавляющую часть рынка, то устанавливается конкуренция, носящая название:

- а) монополия;
- б) олигополия;
- в) совершенная конкуренция;
- г) монополия;
- д) монополистическая конкуренция.

20. Существует экономическая ситуация, при которой покупателем какой-то продукции является только одна фирма (организация). Как называется такая экономическая ситуация?

- а) монополия;
- б) олигополия;
- в) монополия;
- г) монополист;
- д) олигарх.

21. В качестве «барьера» для проникновения в отрасль новых производителей могут служить:

- а) патенты;
- б) более низкие издержки крупного производства;
- в) законодательно оформленные исключительные права;
- г) лицензии;
- д) все, что перечислено, верно.

22. К основным чертам чисто рыночной экономики относят...

- а) директивное планирование
- б) свободную конкуренцию
- в) контроль государством производства и распределения продукции
- г) государственную собственность на экономические ресурсы

23. Субъектом собственности в праве могут быть

- а) только человек, личность или семья
- б) государство в лице органов управления
- в) люди, коллективы, органы управления
- г) любые живые существа

24. Собственность в экономическом смысле – это:

- а) закрепленные законом имущественные отношения
- б) отношения человека к благам
- в) материальное и нематериальное благо
- г) отношения между людьми по поводу экономических благ

25. Приватизация – это

- а) продажа или передача собственности частным лицам
- б) обмен государственной собственностью на ваучеры
- в) переход от государственной собственности к коллективной
- г) передача собственности на средства производства рабочим

26. Частная собственность - юридически закрепленное за субъектом собственности право:

- а) владение каким-либо имуществом
- б) применение свойств какого-либо имущества
- в) владения, пользования и распоряжения каким-либо имуществом

27. Субъектом собственности является

- а) Петров И.С., фермер
- б) частное страховое общество
- в) здание МИ ВлГУ

28. Недвижимым объектом собственности признается:

- а) только земельные участки, недра и водные объекты
- б) земельные участки и все объекты, связанные с землей, а также другие специальные объекты, подлежащие государственной регистрации
- в) деньги

29. Объектом собственности является:

- а) гражданин Иванов И.И.
- б) земля под виноградником
- в) АО "Зарубежстройкомплект"

Блок «Уметь»

Тесты:

1. В приведенном ниже перечне отметьте типы экономических систем:

- а) продвинутая
- б) командная
- в) традиционная
- г) промышленная
- д) индустриальная
- е) рыночная
- ж) технотронная
- з) смешанная

Ответ _____

2. Ниже приведен ряд терминов. Все из них, за исключением одного, относятся к понятию «рыночная экономика».

Конкуренция, частная собственность, свобода потребителя, предпринимательство, директивные цены, спрос.

Найдите и укажите термин, «выпадающий» из их ряда и относящийся к другому понятию.

Ответ: _____ .

3. Установите соответствие между типами экономических систем и характеризующими их признаками: к каждой позиции, данной в первом столбце, подберите соответствующую позицию из второго столбца.

	ПРИЗНАКИ		ТИПЫ ЭКОНОМИКИ
1)	свободная конкуренция	А)	рыночная
2)	цены определяет спрос и предложение	Б)	традиционная
3)	государство директивно руководит экономикой	В)	плановая
4)	преобладает натуральное хозяйство		

4. Установите соответствие между рынками товаров и их типами:

- 1) Рынок продуктов питания
- 2) Рынок сотовых телефонов
- 3) Рынок патентов
- 4) Рынок сельскохозяйственной продукции

- а) Совершенная конкуренция
- б) Монополистическая конкуренция
- в) Олигополия
- г) Монополия

5. _____ - это право производительно или лично потреблять вещь для удовлетворения собственных потребностей и интересов (впишите пропущенное слово).

6. _____ - это физическое обладание вещью (впишите пропущенное слово).

7. Право _____ вещь – это личное использование вещь (впишите пропущенное слово).

8. Правомочие _____ – это юридически обеспеченная возможность определить судьбу вещи путем совершения юридических актов в отношении этой вещи (впишите пропущенное слово).

9. Русский промышленник и меценат А. П. Бахрушин подарил собранную им коллекцию предметов русской старины и книг историческому музею. Пример иллюстрирует право собственника

- 1) владеть
- 2) распоряжаться
- 3) пользоваться
- 4) наследовать

10. Установите соответствие между формами собственности и их примерами:

- 1) семейная ферма
- 2) оборонный завод
- 3) сельскохозяйственный кооператив
- 4) приватизированная гражданином квартира
- 5) имущество дипломатических представительств за рубежом
- а) государственная собственность
- б) частная собственность

11. Найдите в приведенном ниже списке условия, необходимые для функционирования рыночной экономики.

- 1) высокие прибыли производителей
- 2) низкий уровень безработицы
- 3) конкуренция товаропроизводителей
- 4) обилие природных ресурсов
- 5) частная собственность
- 6) свободное ценообразование

12. Верны ли следующие суждения о спросе и предложении?

А. Спрос находится в прямой зависимости от цены товара.

Б. Предложение находится в обратной зависимости от цены товара.

- 1) верно только А
- 2) верно только Б
- 3) верны оба суждения
- 4) оба суждения неверны

13. Экономические отношения производителей и потребителей, основанные на взаимовыгодном обмене, — это _____ (впишите пропущенное слово)

14. Установите соответствие между типами экономических систем и необходимыми условиями их функционирования.

А) командно-административная

Б) рыночная

- 1) преобладание (господство) государственной собственности
- 2) свободное ценообразование
- 3) контроль государства за производством и распределением
- 4) экономическая самостоятельность производителей
- 5) конкуренция
- 6) централизованное планирование производства

Тема 3. Семейная экономика

Блок 1 «Знать»

Вопросы для проведения устного опроса:

1. Дайте определение семейного бюджета.
2. Перечислите основные источники доходов семьи.
3. Назовите основные статьи расходов.
4. Дайте понятие личного располагаемого дохода.
5. Дайте понятие реальной заработной платы.
6. Дайте понятие номинальной заработной платы.
7. Чем реальные доходы отличаются от номинальных?
8. Охарактеризуйте вопрос сбережения населения.
9. Что представляет собой страхование?

Тесты:

1. К каким ресурсам семьи относится заработная плата родителей?

- а) к материальным
- б) к трудовым
- в) к финансовым
- г) информационным

2. Пенсия бабушки является для семьи:

- а) энергетическим ресурсом
- б) собственностью
- в) фиксированным доходом
- г) переменным доходом

3. Верны ли суждения о семейном бюджете:

- а) в семейном бюджете не учитываются деньги на карманные расходы;
- б) семейный бюджет всегда рассчитывается на один год?

- 1) верно только а
- 2) верно только б
- 3) верны оба суждения
- 4) оба суждения неверны

4. Верны ли суждения о доходах:

- а) доходы семьи делятся на фиксированные и переменные;
- б) доходы семьи делятся на обязательные и переменные?

- 1) верно только а
- 2) верно только б
- 3) верны оба суждения
- 4) оба суждения неверны

5. Как называется сумма денежных доходов членов семьи за определенный период?

- а) реальный доход
- б) совокупный доход
- в) номинальный доход
- г) валовой доход

6. К какой группе доходов семьи можно отнести картофель, выращенный на даче для потребления семьи?

- а) доход от собственности
- б) стоимость бесплатных услуг
- в) стоимость натуральных поступлений из ЛПХ
- г) доходы от продажи ЛПХ

7. К какому доходу относится оплата ежегодного отпуска на работе?:

- а) оплата труда
- б) смешанные доходы
- в) социальные трансферты
- г) доходы от самозанятости

8. Какие доходы освобождаются от налогообложения в РФ?

- а) премии и зарплата
- б) премии за достижения в науке
- в) доходы от совмещения работы
- г) рента за сданную квартиру
- д) нет правильного ответа

9. Укажите платежи, которые относятся к трансфертным:

- а) премия
- б) гонорар
- в) оплата труда
- г) стипендия

10. В какую группу можно отнести доходы врача, занимающегося частной практикой?

- а) доходы от самореализации
- б) предпринимательский доход
- в) смешанные доходы
- г) заработная плата

11. Какие товары не относятся к группе потребительских?

- а) алкоголь
- б) табак
- в) мебель
- г) продукты

12. Что не относится к инвестиционным товарам?

- а) телевизор
- б) красная икра
- в) компьютер
- г) шкаф

13. Что не относится к сбережениям населения?

- а) покупка золотых слитков
- б) счет в банке
- в) приобретение иностранной валюты
- г) покупка кухонной техники

14. С какой периодичностью определяется величина прожиточного минимума:

- а) раз в месяц
- б) раз в квартал
- в) раз в полгода
- г) раз в год
- д) нет правильного ответа

15. Как называют участника сделки, передающего товар в распоряжение партнера в долг?

- а) кредитор
- б) заемщик
- в) дебитор
- г) гарант

16. Что является одним из недостатков потребительского кредита?

- а) возможность немедленной покупки товара
- б) стимулирование потребительских расходов
- в) стимулирование неэкономных покупок
- г) выявление аккуратности потребителя

17. Какое из предложенных понятий не относится к основным измерениям полезности:

- а) общая полезность
- б) средняя полезность
- в) сравнительная полезность
- г) предельная полезность

18. Денежные средства, которые члены семьи получают от посторонних лиц или организаций и могут использовать для оплаты собственных расходов:

- а) Номинальный доход.
- б) Богатство семьи.
- в) Семейные доходы.
- г) Завещание.

18. Сумма денег, полученная гражданином или семьей в целом за определенный период времени:

- а) Номинальный доход.
- б) Богатство семьи.
- в) Семейные доходы.
- г) Завещание.

19. Объем товаров и услуг, который гражданин или семья может приобрести в определенный период времени на свои номинальные доходы:

- а) Номинальный доход.
- б) Богатство семьи.
- в) Семейные доходы.
- г) Завещание.
- д) Реальный доход.
- е) Прогрессивное налогообложение доходов.

20. Собственность семьи, свободная от долгов:

- а) Номинальный доход.
- б) Богатство семьи.
- в) Семейные доходы.
- г) Завещание.

21. Юридически оформленное дарение богатства, вступающее в силу после смерти его владельца:

- а) Номинальный доход.
- б) Богатство семьи.
- в) Семейные доходы.
- г) Завещание.
- д) Реальный доход.

22. Система изъятия доходов граждан в пользу государства, при которой доля изымаемых доходов прогрессивно возрастает по мере увеличения абсолютной величины личных доходов гражданина:

- а) Номинальный доход.
- б) Богатство семьи.
- в) Семейные доходы.
- г) Завещание.
- д) Реальный доход.
- е) Прогрессивное налогообложение доходов.

23. Денежная сумма, передаваемая государством беднейшим гражданам для повышения их уровня жизни и формируемая за счет средств, изъятых с помощью налогов у более состоятельных граждан:

- а) Социальный трансферт.
- б) Общественные блага.
- в) Слабости (несовершенства) рынка.
- г) Внешние (побочные) эффекты.

Блок 2 «Уметь»

Тесты:

1. Установите соответствие между приведенными понятиями и их определениями.

- 1) бюджет
- 2) процент
- 3) оптимизация

А) вознаграждение, которое банк выплачивает лицам, временно предоставляющим в его распоряжении денежные средства

Б) смета расходов и доходов

В) процесс выбора наилучшего варианта из возможных

2. Как изменился (увеличился или уменьшился) реальный доход семьи, если зарплата выросла на 30%, а рост цен составил 10%?

- а) 18%
- б) 19%
- в) 20%
- г) 10%

3. Вычислите среднедушевой доход в семье, если отец получает 45000р., мама – 30000р., пенсия бабушки – 8500р., если в семье еще два ребенка?

- а) 15000р.
- б) 16700р.
- в) 18750р.
- г) 17500р.

4. Как изменился (увеличился или уменьшился) реальный доход семьи, если зарплата выросла на 30%, а рост цен составил 10%?

5. Установите соответствие между понятиями, характеризующими экономику потребителя и их определениями:

- 1) доход
- 2) расход
- 3) налог
- 4) пособие

- а) выраженные в денежной форме затраты
- б) установленный государством обязательный сбор, уплачиваемый гражданами и предприятиями
- в) денежная помощь государства лицам находящимся в тяжелом экономическом положении
- г) денежные и иные ценности, полученные в результате деятельности

6. Семья имеет следующие доходы:

- 1. Зарплата папы-6000 рублей
 - 2. Зарплата мамы-5000рублей
 - 3. Детское пособие на 1 ребёнка- 200 рублей
 - 4. Детское пособие на 2 ребёнка- 240 рублей.
- Каков доход данной семьи?

7. Семья Петровых получает доход и от ведения личного подсобного хозяйства. Они держат корову, которая даёт условно 15 литров молока в день: 5 литров семья оставляет себе, а 10 литров продаёт по 60 рублей за литр. Каков доход семьи от продажи молока каждый день?

Тема 4. Товар и его стоимость

Блок 1 «Знать»

Вопросы для проведения устного опроса:

- 1. Дайте понятие товара.
- 2. Дайте понятие стоимости товара.
- 3. Что такое потребительная стоимость?
- 4. Что представляет собой меновая стоимость?
- 5. Дайте понятие полезности товара.

Тесты:

1. Товарное хозяйство – форма хозяйства, где продукты производятся:

- а) для обмена путем купли-продажи
- б) для удовлетворения общественных потребностей
- в) для удовлетворения потребностей самих участников процесса производства
- г) Для бартерного обмена
- д) Все ответы верны

2. Под общественным разделением труда понимается:

- а) выполнение каждым участником процесса производства определенных функциональных обязанностей
- б) специализация производителей на выработке одного какого-либо продукта
- в) обособление производителей друг от друга

- г) Выполнение каждым участником процесса производства одинаковых функций
- д) Нет верного ответа

3. В товарном хозяйстве определяющими мотивами поведения людей являются:

- а) деньги
- б) жажда наживы
- в) спрос и предложение
- г) удовлетворение потребностей общества
- д) прибыль

4. Товар - это:

- а) продукт человеческого труда, предназначенный для удовлетворения личных потребностей людей
- б) продукт человеческого труда, предназначенный для обмена путем купли-продажи
- в) продукт человеческого труда; предназначенный для удовлетворения общественных потребностей

5. Потребительная стоимость товара - это:

- а) свойство товара обмениваться на другие товары
- б) свойство товара удовлетворять личные потребности людей
- в) свойство товара удовлетворять производственные потребности
- г) затраты мускульной и нервной энергии на производство товара
- д) свойство товара удовлетворять потребности людей

6. Меновая стоимость - это:

- а) затраты мускульной и нервной энергии на производство товара
- б) свойство товара обмениваться на другие товары в определенных количественных пропорциях
- в) воплощенный в товаре общественный труд
- г) затраты на производство продукции, которые несет непосредственно производитель
- д) стоимость общественного блага

7. Величина стоимости определяется:

- а) индивидуальным рабочим временем
- б) индивидуальными затратами материальных и денежных средств
- в) общественно необходимым временем, затраченным на производство товара
- г) интенсивностью, труда
- д) Все ответы верны

8. Укажите правильное определение товарного производства:

- а) производство продуктов для непосредственного потребления производителя
- б) производство материальных благ для удовлетворения общественных потребностей
- в) производство продуктов для обмена путем купли-продажи
- г) нет верного ответа
- д) производство товаров и услуг

9. Что из ниже перечисленного является товаром?

- а) дары природы
- б) воздух

- в) продукт труда, предназначенный для обмена
- г) нет верного ответа
- д) полуфабрикаты внутризаводского оборота

10. Что такое потребительная стоимость товара?

- а) количество материала для изготовления данного товара
- б) способность товара обмениваться на другие товары
- в) способность удовлетворять какие-либо человеческие потребности
- г) предельная полезность
- д) Нет верного ответа

11. Какими затратами труда измеряется величина стоимости товара?

- а) общественно необходимыми затратами труда
- б) индивидуальными затратами труда того или иного производителя
- в) затраченным на производство товара конкретным трудом
- г) затратами овеществленного труда
- д) Все ответы верны

Блок 2 «Уметь»

Тесты:

1. Цену товара А снизили на 15%, а потом еще на 20%. Общий процент снижения цены составит_____.

2. Цена изделия составляла 1000 рублей и была снижена сначала на 10%, а затем еще на 20%. Окончательная цена товара_____руб.

3. Товар А изготавливается 3 группами производителей. Первая группа затрачивает на производство каждой единицы товара 10 часов и производит 200 единиц изделий за определенное время, вторая группа тратит 12 часов и производит 160 единиц, третья – 8 часов и 240 единиц соответственно. Величина стоимости товара равна_____.

4. Меновое соотношение товаров А и В представляется как 2:3. Как оно изменится, если производительность труда в производстве товара В вырастет в 2 раза.

5. Меновое соотношение товаров А, В и С представляется как 4:5:9. Как оно изменится, если производительность труда в производстве товара А вырастет в 2 раза, интенсивность труда в производстве товара В увеличится в 3 раза, а стоимость товара С увеличится наполовину.

6. Стоимость двух мобильных телефонов в три раза выше, чем трех утюгов. Выразите меновую стоимость мобильного телефона.

7. Стоимость двух мобильных телефонов в три раза выше, чем трех утюгов. Выразите меновую стоимость утюгов.

8. Затраты производства на единицу продукции у товаропроизводителя Х в результате совершенствования оборудования сократились с 10 до 5 часов, общественно-необходимое время осталось 10 часов. Определите, как изменится доход товаропроизводителя на единицу продукции.

9. Бригада шахтёров перешла на другой участок работы, где содержание полезного вещества в породе в два раза меньше. Чтобы выполнить план бригада увеличила интенсивность добычи угля в 1,5 раза. Сколько будет стоить одна тонна и вся партия угля, если раньше за 6 часов работы бригада добывала 10 тонн угля.

10. Определите, как будут соотноситься стоимости пары ботинок и ювелирных изделий (например, кольца), созданных за равный по продолжительности рабочий день, если труд ювелира в три раза сложнее, чем труд сапожника.

11. За 8 часов работы рабочий произвел 24 изделия. Определите, сколько будет стоить одно изделий и вся партия, если производительность труда вырастет в три раза.

12. На производство товара А затрачивается 3 часа, товара В – 4,5 часа, товара С – 5 часов. Коэффициенты сложности труда соотносятся как 2:5:1. Чему равна стоимость каждого товара, если 1 час рабочего времени, затрачиваемый на изготовление товара С, выражается в 2 ден. ед.

Тема 5. Рыночный механизм. Рыночное равновесие

Блок 1 «Знать»

Вопросы для проведения устного опроса:

1. Что такое рынок?
2. Дайте понятие предложения и величины предложения.
3. Дайте понятие спроса и величины спроса.
4. Перечислите неценовые факторы изменения спроса.
5. Перечислите основные неценовые факторы изменения предложения.
5. Что такое рыночное равновесие и как оно устанавливается?
6. Сформулируйте закон спроса.
7. Сформулируйте закон предложения.
8. Дайте понятие эластичности.
9. Назовите основные виды эластичности.
10. Перечислите основные методы расчета эластичности.

Тесты:

1. Объектами рынка могут быть:
 - а) практически любые результаты человеческой деятельности, а также природные блага
 - б) только результаты человеческой деятельности
 - в) только природные блага
 - г) сырье
 - д) материалы
2. К неценовым факторам, влияющим на спрос, не относятся:
 - а) цены на другие блага – блага-субституты и комплементарные блага
 - б) вкусы потребителей
 - в) доход потребителей
 - г) изменения технологий производства
 - д) ожидания потребителя
3. К неценовым факторам, влияющим на рыночное предложение, не относятся:

- а) издержки производства, зависящие от цен на ресурсы
- б) ожидания продавцов
- в) сезонные колебания
- г) рост числа потребителей

4. Когда говорят, что существует излишек спроса на товар на рынке, предполагается, что:

- а) потребители спрашивают больше, чем необходимо
- б) величина предложения избыточна по сравнению со спросом
- в) цена будет иметь тенденцию к падению
- г) производители будут стремиться предлагать меньше
- д) рыночная цена ниже равновесной

5. Что из перечисленного ниже может быть причиной сдвига кривой предложения вправо?

- а) рост доходов потребителей
- б) рост цен субститутов
- в) субсидии правительства
- г) акцизный налог, введенный правительством
- д) технологические изменения, увеличившие издержки производства

6. Смещение кривой предложения DVD-проигрывателей отечественного производства влево могло быть вызвано:

- а) ростом цен на комплектующие изделия
- б) увеличением дотаций отечественным производителям DVD-проигрывателей
- в) введением улучшенной технологии производства
- г) снижением таможенных пошлин на импортные DVD-проигрыватели
- д) увеличением издержек производства, связанных с ростом цен на энергоресурсы

7. Смещение кривой спроса на нормальный товар влево может быть вызвано:

- а) ростом доходов покупателей
- б) ожиданиями роста темпов инфляции
- в) ростом цены на данный товар
- г) снижением цены на товар-субститут
- д) сменой предпочтений потребителей в связи с выходом данного товара из моды

8. Сдвиг кривой спроса на нормальный товар вправо может быть вызван:

- а) ростом доходов покупателей
- б) ожиданием нового витка инфляции
- в) снижением дотаций малообеспеченным слоям населения
- г) снижением цены на данный товар
- д) увеличением цены на товар-комплемент

9. В каких из перечисленных случаев изменяется величина спроса, а не спрос? Выберите все верные ответы.

- а) Люди стали покупать больше риса после того, как подорожала гречка
- б) Люди ожидают, что цены на автомашины вырастут после нового года. В результате в декабре были скуплены почти все машины в автосалонах
- в) Магазин обуви разместил рекламный ролик на TV. В результате продажи обуви значительно возросли

г) После того, как государство директивно снизило цену бензина, на автозаправках появились очереди

д) Магазин обуви проводит акцию: покупаете одну пару обуви - вторую получаете бесплатно. В результате акции обуви продано значительно больше

10. В каких из перечисленных случаев изменяется величина предложения, а не предложение?

а) В данном году собран хороший урожай хурмы, ее продают на каждом углу.

б) Высокие цены на брюкву стимулируют фермеров выращивать на продажу больше брюквы.

в) Российские рыбаки должны платить дополнительные сборы в государственную казну при заходе в российские порты. В результате, многие из них не хотят продавать свой улов в России.

г) государственная политика в данном случае повышает издержки рыбаков и сокращает предложение рыбы.

д) Из-за низких цен на нефть некоторые нефтяные компании сокращают добычу нефти.

11. Что произойдет на рынке лекарства от гриппа в результате двух одновременных событий: начала эпидемии гриппа и введения государственных субсидий производителям лекарства? Выберите все подходящие варианты, предполагая, что рынок описывается типичной моделью спроса и предложения (кривая спроса имеет отрицательный наклон, кривая предложения имеет положительный наклон).

а) В новой точке равновесия однозначно вырастет объем продаж.

б) В новой точке равновесия однозначно снизится объем продаж.

в) В новой точке равновесия однозначно повысится цена лекарства.

г) Снизится предложение

д) Вырастет спрос

е) В новой точке равновесия однозначно снизится цена лекарства.

12. Эластичность спроса по цене изменяется под влиянием такого фактора, как...

а) ... способность товара к длительному хранению

б) ... принадлежность данного товара к предметам роскоши или товарам первой необходимости

в) ... особенности производственного процесса

г) ... наличие товаров-заменителей

13. Какое из следующих утверждений не относится к характеристике неэластичного спроса на товар:

а) данный товар является для потребителей товаром первой необходимости

б) относительное изменение объема спроса меньше, чем относительное изменение цены

в) период времени, в течение которого предъявляется спрос, является очень коротким

г) имеется большое число товаров-заменителей

д) покупатели расходуют на его покупку незначительную долю своего дохода

14. Коэффициент ценовой эластичности спроса равен:

а) ни одному из приведенных показателей

б) изменению общей выручки (в %), деленному на увеличение объема спроса (в %)

в) уменьшению общей выручки (в %), деленному на увеличение цены (в %)

- г) изменению объема спроса (в %), деленному на изменение цены (в %)
- д) уменьшению цены, деленному на увеличение объема спроса

15. Какое из указанных ниже значений коэффициента эластичности по доходу относится к товарам первой необходимости:

- а) 1
- б) больше 0, но меньше 1
- в) меньше 0
- г) ни одно из приведенных значений
- д) больше 1

16. Если любое количество товара продается по одинаковой цене, то спрос на этот товар является:

- а) спросом единичной эластичности
- б) абсолютно неэластичным
- в) абсолютно эластичным
- г) эластичным
- д) неэластичным

17. Какое из следующих утверждений не относится к характеристике эластичного спроса на товар:

- а) относительное изменение объема спроса больше, чем относительное изменение цены
- б) коэффициент ценовой эластичности меньше единицы
- в) общая выручка продавца растет, если цена уменьшается
- г) покупатели относительно чутко реагируют на изменения цены
- д) общая выручка продавца сокращается, если цена растет

18. Кривая абсолютно неэластичного спроса представляет собой:

- а) вертикальную линию
- б) прямую линию с отрицательным наклоном
- в) кривую линию
- г) горизонтальную линию
- д) кривую линию с положительным наклоном

19. Эластичность предложения зависит главным образом от:

- а) того, относится ли данный товар к предметам длительного пользования или текущего потребления
- б) числа товаров-заменителей данного продукта
- в) того, является ли данный товар предметом первой необходимости или роскоши
- г) периода времени, в течение которого продавцы могут приспособиться к изменениям цен
- д) доли дохода потребителя, направляемой на покупку данного товара

20. Неэластичный спрос означает, что:

- а) рост цены на 1% приводит к сокращению величины спроса менее чем на 1%
- б) рост цены на 1% приводит к сокращению величины спроса более чем на 1%
- в) ни одно из утверждений не является верным
- г) любое изменение цены не приводит к изменению общей выручки
- д) рост цены на 1% не влияет на величину спроса

21. Ценовая эластичность спроса будет выше:

- а) чем менее необходим товар потребителю
- б) ни в одном из перечисленных случаев
- в) на товары первой необходимости, чем на предметы роскоши
- г) в тех случаях, когда потребители используют данный товар с наибольшей пользой для себя
- д) чем больше альтернативные издержки производства товаров

22. Товар можно отнести к недоброкачественным, если:

- а) ценовая эластичность его спроса равна 1,3
- б) перекрестная эластичность его спроса равна $-0,7$
- в) перекрестная эластичность его спроса равна 0,1
- г) эластичность его спроса по доходу равна $-0,5$
- д) эластичность его спроса по доходу равна 1,3

23. Ценовая эластичность спроса будет расти с увеличением продолжительности периода, в течение которого предъявляется спрос, так как:

- а) потребители смогут приобрести товары-заменители
- б) все ответы верны
- в) вырастет общий уровень цен
- г) доходы потребителей увеличатся
- д) произойдет сдвиг вправо кривой спроса

24. Сокращение предложения товара ведет к увеличению:

- а) спроса на этот товар
- б) общей выручки продавца, если спрос на товар является неэластичным по доходу
- в) спроса на взаимодополняемые товары
- г) спроса на взаимозаменяемые товары
- д) общей выручки продавца, если спрос на товар является эластичным по цене

25. Если уменьшение цены на 5% приводит к снижению объема предложения на 8%, то данное предложение:

- а) неэластично
- б) абсолютно неэластично
- в) единичной эластичности
- г) абсолютно эластично
- д) эластично

26. Если спрос на сельскохозяйственную продукцию неэластичен, то при хорошем урожае доходы фермеров:

- а) сократятся, так как относительное снижение цен окажется большим, чем относительное увеличение объема продаж
- б) вырастут, так как произойдет увеличение цен на продукцию, вызванное повышением спроса
- в) останутся неизменными, так как относительное увеличение объема продаж будет равно относительному снижению цен не представляется возможным ответить на вопрос.
- г) вырастут, так как увеличится объем продаваемой продукции

27. Если однопроцентное сокращение цены на товар приводит к двухпроцентному увеличению объема спроса на него, то этот спрос:

- а) абсолютно неэластичный
- б) абсолютно эластичный
- в) единичной эластичности
- г) неэластичный
- д) эластичный

28. Производитель товара X снизил цену на свой товар на 5%, в результате чего объем продаж вырос на 4%. Спрос на товар X является:

- а) неэластичным
- б) абсолютно эластичным
- в) спросом единичной эластичности
- г) не представляется возможным ответить на вопрос
- д) эластичным

Блок 2 «Уметь»

Тесты:

1. При росте доходов населения за рассматриваемый период с 20 до 50 ден. ед. спрос на бытовую технику увеличился с 5 до 14 ден. ед. Определите к каким товарам относится бытовая техника на основании рассчитанного коэффициента эластичности по доходу.

2. Соотношение цены товара и величины спроса задано функцией $Q = 38 - 3P$. Определить коэффициент эластичности при цене 5 рублей и 7 рублей.

3. Соотношение цены товара и величины спроса задано функцией $Q_d = 21 - 5P$. При какой цене спрос на товар будет неэластичным ($E_p = 0,9$).

4. Соотношение цены товара и величины спроса задано функцией $Q_d = 21 - 5P$. При какой цене спрос на товар будет эластичным ($E_p = 1,1$).

5. Определите эластичность спроса на парфюмерное изделие, если **цена** снизилась на 5%, а выручка при этом увеличилась на 12%.

6. Даны уравнение функции спроса на товар x: $Q_d = 8 - 2P$ и уравнение функции предложения $Q_s = -7 + 3P$. Равновесная цена этого товара...

- а) ... 2 руб.
- б) ... 5 руб.
- в) ... 9 руб.
- г) ... 3 руб.

7. На рынке некоторого товара Y функция спроса задана как $Q_d = 300 - 3P$, а функция предложения задана как $Q_s = 2P - 50$, где P – цена товара Y, Q_d - величина спроса на него, а Q_s - величина предложения. Рассчитайте равновесную цену, которая установится на этом рынке.

8. Функция спроса выражена уравнением $Q_d = 15 - 2P$, а функция предложения $Q_s = 6 + P$. Определите размер дефицита/излишка, если P равна 2.

9. В таблице представлены данные, характеризующие различные ситуации на рынке потребительских товаров.

P	Q_D	Q_S
350	3	9
300	4	7
250	5	5
200	7	4
150	9	3
100	14	2

Если цена на рынке этих товаров равна 150 денежных единиц, что характерно для данного рынка – излишки или дефицит? Определите их объем.

10. В таблице представлены данные, характеризующие различные ситуации на рынке потребительских товаров.

P	Q_D	Q_S
350	3	9
300	4	7
250	5	5
200	7	4
150	9	3
100	14	2

Если цена на рынке этих товаров равна 350 денежных единиц, что характерно для данного рынка – излишки или дефицит? Определите их объем.

11. В таблице представлены данные, характеризующие различные ситуации на рынке потребительских товаров.

P	Q_D	Q_S
350	3	9
300	4	7
250	5	5
200	7	4
150	9	3
100	14	2

Чему равна равновесная цена и равновесный объем на этом рынке? В результате снижения потребительских расходов потребление этих товаров снизилось на 3 единицы при каждом уровне цен. Каковы будут равновесная цена и равновесный объем производства?

12. Функция спроса имеет вид $D = 30 - 5P$, а функция предложения $S = 9 + 2P$. Определите равновесный объем продаж.

13. Кривая спроса на товар описывается уравнением $Q_D = 800 - 2P$, а кривая предложения – $Q_S = 200 + 4P$. Найдите равновесный объем продукции Q_E .

14. Кривая спроса на товар описывается уравнением $Q_D = 600 - 2P$, а кривая предложения – $Q_S = 200 + 3P$. Найдите равновесную цену P_E .

Тема 6. Фирма

Блок 1 «Знать»

Вопросы для проведения устного опроса:

1. Дайте определение фирмы.
2. Перечислите основные признаки предприятия.
3. Что такое предпринимательская деятельность?
4. Каковы цели предпринимательской деятельности.
5. Назовите основные виды предпринимательской деятельности
6. Каковы цели организации, ее миссия.
7. Перечислите основные виды предприятий.
8. Назовите основные организационно-правовые формы предприятий.
9. Что такое основной капитал?
10. Что такое оборотный капитал?
11. Дайте понятие производительности труда.
12. Что такое менеджмент.
13. Дайте определение маркетинга.
14. Дайте понятие издержек.
15. Какие виды издержек вы знаете?
16. Что такое выручка? Как она определяется?
17. Дайте понятие прибыли фирмы.

Тесты:

1. Коммерческая организация, приобретающая факторы производства с целью создания и продажи благ и получения на этой основе прибыли:
 - а) Естественная норма безработицы.
 - б) Чистая прибыль.
 - в) Фирма.
 - г) Обязательства.
2. Человек, который на свои и заемные средства и под свой риск создает фирму, чтобы, соединяя производственные ресурсы, создавать блага, продажа которых принесет ему прибыль:
 - а) Предприниматель.
 - б) Чистая прибыль.
 - в) Фирма.
 - г) Обязательства.
3. Часть прибыли, остающаяся в распоряжении хозяйственной организации после уплаты налогов и других обязательных платежей:
 - а) Естественная норма безработицы.
 - б) Чистая прибыль.
 - в) Фирма.
 - г) Обязательства.
4. Действия, которые должник должен совершить в пользу кредитора, например, передать имущество, выполнить определенную работу или выплатить оговоренную сумму денег:
 - а) Естественная норма безработицы.

- б) Чистая прибыль.
- в) Фирма.
- г) Обязательства.
- д) Предприниматель.

5. Общее название нескольких форм хозяйственных организаций, предполагающих объединение собственных средств нескольких участников ради совместного ведения дел:

- а) Естественная норма безработицы.
- б) Чистая прибыль.
- в) Фирма.
- г) Обязательства.
- д) Предприниматель.
- е) Товарищество.

6. Хозяйственная организация, совладельцами которой может быть неограниченное число владельцев денежных средств. При этом каждый из них имеет право на часть имущества и доходов, а некоторые – и на участие в управлении им:

- а) Экономические затраты.
- б) Товарищество.
- в) Общие затраты.
- г) Запасы.
- д) Акционерное общество.
- е) Бухгалтерские затраты.

7. Расходы на приобретение всего объема ресурсов, который фирма использована для организации производства определенного объема продукции:

- а) Экономические затраты.
- б) Товарищество.
- в) Общие затраты.
- г) Запасы.

8. Общие затраты фирмы на производство товаров или услуг в течение некоторого периода времени, определенные с учетом внутренних затрат:

- а) Экономические затраты.
- б) Товарищество.
- в) Общие затраты.

9. Общая сумма внешних затрат фирмы на производство товаров или услуг в течение определенного периода времени:

- а) Экономические затраты.
- б) Товарищество.
- в) Общие затраты.
- г) Запасы.
- д) Акционерное общество.
- е) Бухгалтерские затраты.

10. Объем ресурсов производства, который фирма хранит на своих складах до момента, когда они потребуются для производства товаров или услуг:

- а) Экономические затраты.

- б) Товарищество.
- в) Общие затраты.
- г) Запасы.
- д) Акционерное общество.

11. Затраты, которые нельзя изменить в краткосрочном периоде, и потому они остаются одними и теми же при небольших изменениях объемов производства товаров или услуг:

- а) Переменные затраты.
- б) Маржинальные (предельные) затраты.
- в) Постоянные затраты.
- г) Средние затраты.

12. Затраты, которые можно изменить в краткосрочном периоде, и потому они растут (сокращаются) при любом увеличении (уменьшении) объемов производства:

- а) Переменные затраты.
- б) Маржинальные (предельные) затраты.
- в) Постоянные затраты.
- г) Средние затраты.

13. Затраты на изготовление единицы продукции, получаемые делением общей суммы затрат за определенный период времени на объем изготовленной за этот период времени продукции:

- а) Переменные затраты.
- б) Маржинальные (предельные) затраты.
- в) Постоянные затраты.
- г) Средние затраты.

14. Реальная сумма затрат, в которую обходится изготовление каждой дополнительной единицы продукции:

- а) Переменные затраты.
- б) Маржинальные (предельные) затраты.
- в) Постоянные затраты.
- г) Средние затраты.

15. Краткосрочный период в теории фирмы означает период времени, в течение которого:

- а) фирма не может изменить объем использования некоторых (как минимум – одного) факторов производства
- б) фирма не может изменить объем использования ни одного из ресурсов
- в) производительность всех используемых фирмой ресурсов остается постоянной
- г) фирма может изменить объем использования всех факторов производства

16. Закон убывающей предельной производительности ресурса утверждает, что:

- а) предельный продукт всегда является убывающим
- б) в долгосрочном периоде начиная с некоторого момента увеличение количества используемого ресурса приводит к снижению его производительности
- в) в краткосрочном периоде начиная с некоторого момента каждая последующая единица фактора производства приносит все меньше отдачи

г) значения среднего продукта труда всегда превышают значения предельного продукта труда

17. Какие из перечисленных затрат относятся к постоянным (выберите все варианты):

- а) затраты на сырье и материалы
- б) арендная плата за производственные помещения
- в) затраты на освещение и отопление помещений
- г) сдельная заработная плата основных работников в цехах

18. Если при производстве ряда различных изделий на одной фирме издержки на единицу продукции значительно ниже, чем в случае, когда они производятся на разных фирмах, причиной этого является:

- а) повышение предельной полезности каждого вида изделия для потребителей
- б) постоянный эффект масштаба
- в) снижение предельной полезности каждого вида изделия для потребителей
- г) отрицательный эффект масштаба
- д) экономия на разнообразии

19. Если с увеличением размера фирмы объем выпуска растет быстрее издержек и издержки на единицу продукции снижаются, то наблюдается:

- а) экономия на масштабе производства
- б) экономия на разнообразии
- в) единичный эффект масштаба
- г) отрицательный эффект масштаба
- д) постоянный эффект масштаба

20. Найдите единственное верное утверждение (если БП - бухгалтерская прибыль, ЭП - экономическая прибыль, БИ - бухгалтерские издержки, и ЭИ - экономические издержки):

- а) БП меньше, чем ЭП, а БИ меньше, чем ЭИ.
- б) БП больше, чем ЭП, а БИ больше, чем ЭИ.
- в) БП больше, чем ЭП, а БИ меньше, чем ЭИ.
- г) БП меньше, чем ЭП, а БИ больше, чем ЭИ.

Блок 1 «Уметь»

Тесты:

1. Если при выпуске 100 единиц товара валовые издержки предприятия составили 1620 ден.ед., а при выпуске 120 единиц товара – 1680 ден.ед., то предельные издержки равны _____ ден.ед.

- а) 16,2
- б) 3
- в) 14
- г) 6

2. Если фирма производит 5 ед. продукции по цене 80 ден.ед. каждая, а $AVC=75$ ден.ед., то экономическая прибыль (убыток) на единицу продукции составляет _____ ден.ед.

- а) 48
- б) 60

- в) -15
- г) -5

3. Издержки производства на всю продукцию $TC=0,1q^3-2q^2+30q+50$. Это означает, что общие переменные издержки при объеме выпуска 5 шт. составят ____ ден.ед.

- а) 125
- б) 110
- в) 132,5
- г) 112,5

4. Пять работников могут все вместе произвести 210 единиц продукции, а шесть работников могут все вместе произвести 240 единиц продукции. Предельный продукт шестого работника и средний продукт шести работников равны соответственно:

- а) 40 и 10
- б) 30 и 40
- в) 30 и 10
- г) нет верного ответа

5. Предположим, у некоторой фирмы для того, чтобы цена продукции превысила средние общие издержки (АТС), эта цена должна быть не ниже, чем 500 руб. за единицу. Для того, чтобы цена превысила средние переменные издержки производства (АVC), она должна быть не ниже, чем 450 руб. за единицу. Если фактически на рынке установилась цена 300 руб. за единицу продукции (и фирма никак не может это изменить), то... (выберите все подходящие ответы)

- а) ...при цене 300 руб. за единицу фирма получает убыток
- б) ...при цене 300 руб. за единицу фирма работает с положительной прибылью.
- в) ...фирме может быть целесообразно продолжить работу в краткосрочном периоде.
- г) ...фирме НЕцелесообразно продолжать работу в долгосрочном периоде.
- д) ...фирме целесообразно немедленно прекратить производство.

6. Известно, что в течение года бухгалтерская прибыль кофейной компании «Кофейный дом» составила 150000 рублей. Управляя фирмой, предприниматель данной компании упускает зарплату в 90000 рублей в год, которую мог бы получить, работая в другом месте. Известно также, что предприниматель располагал суммой 200000 рублей собственных средств, которые он вложил в компанию. Предполагая, что он упускает 10% годовых с этих средств, определите экономическую прибыль.

- а) 0000 рублей
- б) 70000 рублей
- в) 40000 рублей
- г) 160000 рублей
- д) 140000 рублей

7. Зависимость между объемом выпуска фирмы (Q) и ее общими издержками (ТС) представлена в таблице:

Выпуск (Q), шт.	Общие издержки (ТС), руб.
0	100
1	300
2	400
3	480
4	600
5	900

Постоянные издержки производства трех единиц продукции и предельные издержки производства третьей единицы продукции у данной фирмы равны соответственно:

- а) 300, 160
- б) 100, 80
- в) 120, 80
- г) 380, 160

8. Фирма выпускает 100 единиц продукции. При этом общие издержки фирмы составляют 800 долл., из них переменные издержки составляют 200 долл. Рассчитайте средние постоянные издержки фирмы при выпуске ста единиц продукции

9. Средний продукт девяти работников составляет по 50 единиц продукции на каждого работника (т.е. $AP(9)=50$). Средний продукт десяти работников составляет по 49 единиц продукции на каждого работника (т.е. $AP(10)=49$). Чему равен предельный продукт десятого работника?

10. Функция средних переменных затрат имеет вид: $AVC = 100 + 20Q$. Постоянные затраты равны 120. Найти алгебраическое выражение для функций общих затрат.

11. Зависимость между объемом выпуска фирмы (Q) и ее общими издержками (ТС) представлена в таблице.

Выпуск (Q), шт.	Общие издержки (ТС), руб.
0	100
1	300
2	400
3	480
4	600
5	900

При каком объеме выпуска фирма достигнет максимальной прибыли, если цена каждой единицы продукции постоянна и равна 200 руб./шт.?

12. В таблице приведены ожидаемые величины предельной выручки и предельных издержек гипотетической фирмы при различных объемах выпуска продукции.

Выпуск	0	1	2	3	4	5	6	7	8	9
MR	-	75	75	75	75	75	75	75	75	75
MC	-	90	75	30	20	30	45	71	76	90

Сколько единиц продукции Вы посоветуете выпустить и продать фирме для того, чтобы получить максимальную прибыль?

13. На конкурентном рынке действуют 500 фирм. Каждая фирма имеет предельные затраты при производстве 6 единиц продукции в месяц — 12 руб., 7 ед. — 13 руб., 8 ед. — 15 руб. Определите объем отраслевого выпуска в месяц, если известно, что рыночная цена составляет 13 руб.

14. Цена на совершенно конкурентном рынке составляет — 150 руб. Средние переменные издержки фирмы (AVC) составляют — 45 руб.; средние постоянные издержки (AFC) — 25 руб.; объем производства фирмы — 500 ед. продукции. Определить предельный доход (MR) и прибыль фирмы.

15. Можно ли считать целесообразным функционирование фирмы, если известны следующие параметры: $Q = 500$; $TR = 3000$; $TFC = 500$; $AC = 5$?

Тема 7. Роль государства в экономике

Блок 1 «Знать»

Вопросы для проведения устного опроса:

1. Дайте определение государству как рыночному субъекту.
2. Перечислите основные экономические функции государства.
3. Назовите принципы и цели государственного регулирования.
4. Как осуществляется правовое регулирование экономики.
5. Как осуществляется финансовое регулирование.
6. В чем суть социального регулирования.
7. Дайте понятие общественных благ.
8. Охарактеризуйте систему налогообложения.
9. Назовите принципы построения налоговой системы.
10. Назовите методы построения налоговой системы.
11. Дайте понятие налогов.
12. Назовите виды налогов.
13. Назовите элементы налога и способы его взимания.
14. Что относится к налоговым органам?
15. Дайте понятие государственного бюджета.
16. Что такое дефицит бюджета?
17. Что такое профицит бюджета?
18. Назовите основные статьи доходов государственного бюджета.
19. Что такое государственный долг?

Тесты:

1. Неспособность рыночных механизмов решать некоторые экономические задачи вообще или наилучшим образом:
 - а) Социальный трансферт.
 - б) Общественные блага.
 - в) Слабости (несовершенства) рынка.
 - г) Внешние (побочные) эффекты.
2. Ситуация, когда на кого-то из продавцов или покупателей приходится такая большая доля общего объема продаж или покупок на конкретном товарном рынке, что он может влиять на формирование цен и условий сделок в большей мере, чем остальные участники этого рынка:
 - а) Социальный трансферт.

- б) Общественные блага.
- в) Слабости (несовершенства) рынка.
- г) Внешние (побочные) эффекты.
- д) Монополизация рынка.
- е) Финансы.

3. Товары или услуги, которыми люди пользуются совместно и которые не могут быть закреплены в чьей-то частной собственности:

- а) Социальный трансферт.
- б) Общественные блага.
- в) Слабости (несовершенства) рынка.
- г) Внешние (побочные) эффекты.

4. Ущерб (или выгода) от производства какого-либо блага, который приходится нести (или которую можно получить) людям или фирмам, непосредственно не участвующим в купле-продаже этого блага:

- а) Социальный трансферт.
- б) Общественные блага.
- в) Слабости (несовершенства) рынка.
- г) Внешние (побочные) эффекты.
- д) Монополизация рынка.

5. Управление денежными поступлениями и платежами семьи, фирмы, населенного пункта или страны в целом:

- а) Социальный трансферт.
- б) Общественные блага.
- в) Слабости (несовершенства) рынка.
- г) Внешние (побочные) эффекты.
- д) Монополизация рынка.
- е) Финансы.

6. Определенный законодательством страны механизм изъятия части доходов граждан и фирм в пользу государства для оплаты расходов федеральных и местных органов власти:

- а) Пошлина.
- б) Налогообложение.
- в) Бюджет.
- г) Косвенный налог.
- д) Дефицит государственного бюджета.

7. Налоговый платеж, который вносится гражданином не прямо в государственную казну, а сначала накапливается у продавцов определенных товаров, которые затем и перечисляют собравшиеся у них суммы налогов государству:

- а) Пошлина.
- б) Налогообложение.
- в) Бюджет.
- г) Косвенный налог.
- д) Дефицит государственного бюджета.

8. Налог, взимаемый с покупателя при приобретении некоторых видов товаров и устанавливаемый обычно в процентах к цене этого товара:

- а) Пошлина.
- б) Налогообложение.
- в) Бюджет.
- г) Косвенный налог.
- д) Дефицит государственного бюджета.
- е) Акциз.

9. Плата, взимаемая государством с граждан и хозяйственных организаций за оказание им определенного вида услуг:

- а) Пошлина.
- б) Налогообложение.
- в) Бюджет.
- г) Косвенный налог.
- д) Дефицит государственного бюджета.

10. Свободный план сбора доходов и использования полученных средств на покрытие расходов федеральных или местных органов государственной власти:

- а) Пошлина.
- б) Налогообложение.
- в) Бюджет.
- г) Косвенный налог.

11. Финансовая ситуация, возникающая, когда государство намечает осуществить расходы на сумму большую, чем может реально получить доходов за счет всех видов налогов и платежей:

- а) Пошлина.
- б) Налогообложение.
- в) Бюджет.
- г) Косвенный налог.
- д) Дефицит государственного бюджета.
- е) Акциз.

12. Сфера деятельности, доходы от которой укрываются от налогообложения:

- а) «Теневая экономика».
- б) Налогообложение.
- в) Ценные государственные бумаги.
- г) Косвенный налог.

13. Обязательства государства вернуть одолженную сумму плюс процент за использование этих денег:

- а) «Теневая экономика».
- б) Налогообложение.
- в) Ценные государственные бумаги.
- г) Косвенный налог.

14. Сумма ссуд, взятых государственными органами и еще не возвращенных кредиторами:

- а) «Теневая экономика».

- б) Налогообложение.
- в) Ценные государственные бумаги.
- г) Косвенный налог.
- д) Государственный долг.

15. Бюджетная политика государства регулирует

- а) кредитование предприятий
- б) внешнюю торговлю
- в) объемы денежной массы в обращении
- г) государственные расходы

16. Что из перечисленного относится к мерам денежно-кредитного регулирования экономики?

- а) регулирование налогообложения
- б) перепродажа ценных бумаг
- в) оформление лицензий на частные услуги
- г) изменение ставки банковских резервов

17. Налоговая политика государства направлена на

- а) регулирование объема денежной массы в обращении
- б) увеличение числа товарных бирж
- в) снижение социальных потребностей
- г) перераспределение доходов

18. Российское правительство использует продажу крупных объектов государственной собственности в частные руки как дополнительный источник государственных доходов. Какую политику государства иллюстрирует данный факт?

- а) экономической стабилизации
- б) обеспечения занятости
- в) бюджетную
- г) денежно-кредитную.

19. Правительство, снижая налоги, ставит задачу

- а) устранить дефицит бюджета
- б) способствовать подъему производства
- в) уменьшить потребление
- г) увеличить производительность труда.

20. Верны ли следующие суждения о причинах дефицита государственного бюджета?

- а) Дефицит государственного бюджета возникает в результате превышения расходов над доходами.
 - б) Дефицит государственного бюджета всегда является следствием экономического кризиса.
- 1) верно только А
 - 2) верно только Б
 - 3) верны оба суждения
 - 4) оба суждения неверны

21. Госбюджет – это:

- а) все источники доходов государства в сумме

- б) баланс доходов и расходов государства
- в) все расходы государства за год, закрепленные законом
- г) нет однозначного ответа

22. Какую из перечисленных функций не призван выполнять госбюджет?

- а) эмиссионную
- б) регулирующую
- в) распределительную
- г) контрольную

23. Расходная часть госбюджета предназначена:

- а) для финансирования общегосударственных инвестиционных и экономических программ
- б) для развития производственной и социальной инфраструктуры
- в) для поддержания всех убыточных предприятий
- г) верно а) и б)

24. Государственный долг - это...

- а) сумма дефицитов государственного бюджета (за вычетом суммы излишков государственного бюджета), накопленная к настоящему моменту
- б) превышение расходной части годового государственного бюджета над его доходной частью
- в) сумма задолженности государства другим странам
- г) сумма задолженности государства банкам и другим финансовым институтам

25. Первичный дефицит государственного бюджета равен:

- а) разнице между доходами и расходами государственного бюджета
- б) величине государственного долга
- в) сумме государственных займов в бюджетном году
- г) сальдо государственного бюджета без учета расходов на выплату процентов

26. Государственный долг - это сумма:

- а) бюджетных дефицитов за вычетом бюджетных излишков
- б) бюджетных дефицитов
- в) расходов на оборону
- г) государственных расходов

27. Одна из реальных проблем государственного долга заключается в том, что:

- а) часть национального продукта уходит за пределы страны
- б) возрастают стимулы повышения эффективности производства
- в) сокращает неравенство в доходах
- г) возрастает доля сбережений при всех уровнях располагаемого дохода

Блок «Уметь»

Тесты:

1. Установите соответствие:

- а) косвенные налоги, которые устанавливаются на ограниченный круг товаров, как правило, характеризующихся высокой доходностью и массовостью потребления
- б) юридические и физические лица, которые в соответствии с законом обязаны уплачивать налоги
- в) обязательный, индивидуально безвозмездный платеж, взимаемый с организаций и физических лиц в форме отчуждения принадлежащих им на праве собственности, хозяйственного ведения или оперативного управления денежных средств, в целях финансового обеспечения деятельности государства и (или) муниципальных образований
- г) официальное заявление налогоплательщика о полученных им подлежащих налогообложению доходах за определенный период времени и распространяющихся на них налоговых скидках и льготах
- д) совокупность налогов, сборов, пошлин и других платежей, взимаемых в установленном порядке с плательщиков (юридических и физических лиц) на всей территории страны
- е) виды обязательных налогов (платежей), которые вносятся предприятиями и гражданами в порядке оплаты услуг, оказываемых им государственными органами
- ж) основной вид прямых налогов, взимаемых в виде процента с доходов юридических и физических лиц

- 1) налоговая декларация
- 2) сборы
- 3) акцизы
- 4) налог
- 5) налогоплательщики
- 6) налоговая система РФ

2. Если с дохода в 1000 ден. ед. выплачивается налог в 100 ден. ед., с дохода в 10000 ден. ед. налог составляет 2000 ден. ед., то налоговая система по характеру начисления налога является:

- а) прогрессивной
- б) регрессивной
- в) пропорциональной
- г) фиксированной

3. Если общие поступления в государственный бюджет за год составят 1059 трлн. р., а расходы - 1151 трлн. р., то возникнет...

- а) бюджетный дефицит, снизятся объемы экспорта
- б) бюджетный дефицит, государственный долг будет расти
- в) бюджетный избыток, государственный долг будет расти
- г) бюджетный избыток, государственный долг будет снижаться

4. Доходы государственного бюджета в текущем году составили 28 млрд. долларов, а государственные расходы составили 28 млрд. долларов. Состояние бюджета характеризуется тем, что ...

- а) профицит равен 28 млрд. долларов;
- б) бюджет является сбалансированным;

- в) дефицит равен 28 млрд. долларов;
- г) такая ситуация является недостижимой.

5. В некотором государстве бюджет состоит из следующих статей: содержания армии – 140 ден.ед., проведение экономических реформ – 200 ден.ед., налоги – 560 ден. ед., доходы от внешней торговли – 150 ден.ед., материальное обеспечение внешней политики – 50 ден.ед., инвестиции в инфраструктуру – 50 ден.ед.; расходы на образование, здравоохранение – 600 ден.ед., таможенные пошлины – 200 ден.ед., платежи по госдолгу – 80 ден.ед., доходы от госсобственности – 20 ден.ед. Определите доходы бюджета.

6. В некотором государстве бюджет состоит из следующих статей: содержания армии – 140 ден.ед., проведение экономических реформ – 200 ден.ед., налоги – 560 ден. ед., доходы от внешней торговли – 150 ден.ед., материальное обеспечение внешней политики – 50 ден.ед., инвестиции в инфраструктуру – 50 ден.ед.; расходы на образование, здравоохранение – 600 ден.ед., таможенные пошлины – 200 ден.ед., платежи по госдолгу – 80 ден.ед., доходы от госсобственности – 20 ден.ед. Определите расходы бюджета.

7. Государственные расходы на экономику составляют 5000 ден. ед., налоги поступили в размере 7000 ден. ед. Трансферты населению составляют 1100 ден. ед. Государственный долг составляет 9000 ден. ед., по нему государство выплачивает ежегодно 10 %. Определите состояние государственного бюджета.

8. В 2015 году в стране X собрали налогов в размере 35 млн у. е., таможенные сборы составили 12 млн у. е., неналоговые поступления в бюджет составили 20 млн у. е. В этом же году государственные закупки товаров и услуг составили 38,4 млн у. е., трансферты 14,7 млн у. е., проценты по государственному долгу 17,6 млн у. е. Определите состояние государственного бюджета.

9. Государственные расходы на ВВП равны 500 у. е., налоги составляют 0,4 Y, трансферты – 0,2Y. Государственный долг страны 1000 у. е., ставка процента по государственному долгу 10 % годовых. Определите сальдо бюджета, если в стране создан ВВП в размере 2000 у. е.

10. Государственные расходы на ВВП равны 7000 у. е., налоги составляют 0,6Y, трансферты – 0,25Y. Государственный долг страны 10000 у. е., ставка процента по государственному долгу 15% годовых. Определите структурный и циклический дефицит, если в стране создан ВВП в размере 20000 у. е., потенциальный ВВП составляет 25000 у. е.

11. Государственный долг страны на начало года составлял 2000 у. е., ставка уплачиваемого процента по гос. долгу составляет 8 % годовых. Расходы государства на ВВП за текущий год равнялись 1500 ден. ед., трансферты – 20 % ВВП. Доходы государственного бюджета равны 40 % ВВП. Определите бремя долга на конец года, если созданный в стране ВВП составляет 5000 у. е.

Тема 8. Показатели экономического роста. Экономические циклы

Блок 1 «Знать»

Вопросы для проведения устного опроса:

1. Дайте понятие валового внутреннего продукта (ВВП).
2. Что входит в состав ВВП?
3. Назовите методы расчета ВВП.
4. Охарактеризуйте метод потока расходов.
5. Охарактеризуйте метод потока доходов.
6. Что представляет собой метод добавленной стоимости.
7. Дайте понятие номинального ВВП.
8. Дайте понятие реального ВВП.
9. Что такое экономический цикл?
10. Назовите основные факторы экономического роста.

Тесты:

1. Какой показатель определяется как совокупная рыночная стоимость товаров и услуг, произведенных в стране во всех отраслях экономики?
 - а) валовой внутренний продукт
 - б) валовой национальный доход
 - в) валовой национальный располагаемый доход
 - г) индекс потребительских цен
2. При использовании метода расчета ВВП по расходам учитывается:
 - а) заработная плата работников
 - б) чистый экспорт
 - в) прибыль корпораций
 - г) рентные платежи
3. Совокупная рыночная стоимость всех произведенных в стране за год конечных товаров и услуг:
 - а) Международная специализация.
 - б) Приватизационный чек (ваучер).
 - в) Валовый продукт.
 - г) Приватизация.
4. Устойчивое увеличение год от года производственных возможностей страны:
 - а) Капиталовооруженность труда.
 - б) Резервные требования.
 - в) Человеческий капитал.
 - г) Депозитный мультипликатор.
 - д) Экстенсивный рост.
 - е) Экономический рост.
5. Увеличение производственных возможностей страны за счет расширения масштабов использования ресурсов:
 - а) Капиталовооруженность труда.
 - б) Резервные требования.
 - в) Человеческий капитал.

- г) Депозитный мультипликатор.
- д) Экстенсивный рост.
- е) Экономический рост.

6. Увеличение производственных возможностей страны за счет более рационального использования того же, что и прежде, объема ресурсов:

- а) Принцип абсолютного преимущества.
- б) Экономические циклы.
- в) Экспорт.
- г) Экономическое развитие.
- д) Импорт.
- е) Интенсивный рост.

7. Сочетание экономического роста и качественных изменений в условиях и организации хозяйственной жизни страны:

- а) Принцип абсолютного преимущества.
- б) Экономические циклы.
- в) Экспорт.
- г) Экономическое развитие.
- д) Импорт.

8. Период времени, в течение которого экономика страны проходит две основные фазы: подъём и спад:

- а) Принцип абсолютного преимущества.
- б) Экономические циклы.
- в) Экспорт.
- г) Экономическое развитие.

9. В модели кругооборота доходов и расходов в национальном хозяйстве:

- а) фигурирует производительный класс, бесплодный класс и класс собственников
- б) все общественное производство делится на два подразделения: производство средств производства и производство предметов потребления
- в) основным звеном является государство
- г) движение доходов и расходов опосредуется рынком ресурсов и рынком благ

10. Что такое валовой внутренний продукт (ВВП)?

- а) сумма всех произведенных товаров и услуг
- б) сумма всех реализованных товаров и услуг
- в) сумма всех готовых товаров и услуг
- г) рыночная стоимость всех конечных товаров и услуг

11. Валовой внутренний продукт измеряется:

- а) в основных ценах
- б) в ценах производителя
- в) в рыночных ценах
- г) в экспортных ценах

12. Номинальный ВВП представляет собой стоимость товаров и услуг, измеренную:

- а) в текущих ценах
- б) в реальных ценах

- в) в ценах базисного периода
- г) в ценах предшествующего периода

13. Дефлятор ВВП:

- а) равен отношению номинального ВВП к реальному ВВП
- б) равен отношению реального ВВП к номинальному ВВП
- в) уменьшается при ускорении инфляции

14. Какой из указанных ниже доходов или расходов не учитывается при подсчете ВВП данного года?

- а) арендная плата за сдачу квартиры
- б) покупка облигаций автомобильной компании
- в) рост запасов компании
- г) заработная плата прислуги

15. Располагаемый доход - это:

- а) личный доход минус индивидуальные налоги и неналоговые платежи
- б) сумма, включающая заработную плату, жалованье, ренту и доход в форме процента на капитал минус налог на личный доход
- в) зарплата и жалованье, доход в форме процента на капитал минус налог на личный доход

16. Для определения величины национального дохода надо:

- а) вычесть из величины ВВП сумму косвенных налогов
- б) уменьшить величину ВВП на сумму износа используемых основных фондов
- в) вычесть из величины ВВП сумму амортизационных отчислений за данный период, сумму косвенных налогов и объем государственных субсидий
- г) прибавить к ВВП сумму государственных социальных трансфертных платежей

17. Гражданин России временно работает в США, в американской частной фирме. Его доходы включаются:

- а) в валовой национальный продукт России и валовой внутренний продукт США
- б) в ВВП России и ВВП США
- в) в ВВП России и ВВП США
- г) в ВВП США и ВВП США

18. ВВП не включает:

- а) продукцию, произведенную внутри страны национальным капиталом
- б) поступление из-за рубежа, связанные с факторными доходами
- в) материальные и нематериальные услуги, оказанные внутри страны
- г) продукцию, произведенную внутри страны иностранным капиталом

19. Величина ВВП зависит от:

- а) количества произведенных благ
- б) количества использованных при производстве благ ресурсов
- в) количества произведенных благ и их цен
- г) динамики цен

20. Из перечисленного включается в состав ВВП:

- а) покупка новых ценных бумаг

- б) стоимость нового учебника в книжном магазине
- в) денежная сумма, полученная студентом от родителей

21. Номинальный ВВП представляет собой стоимость товаров и услуг, измеренную в:

- а) текущих ценах
- б) реальных ценах
- в) ценах базисного периода
- г) ценах предшествующего периода

22. Потенциальный ВВП измеряется:

- а) объемом производства, соответствующим уровню потенциальных потребностей населения и всех хозяйствующих субъектов страны
- б) объемом продукции, который может быть произведен в стране в условиях полной занятости населения (при уровне естественной безработицы)
- в) максимальным объемом продукции, который может быть произведен в данных экономических условиях и при данных факторах производства

23. Для расчета вклада фирмы в созданный ВВП, исчисленный производственным методом, необходимо из рыночной стоимости реализованной продукции вычесть:

- а) все косвенные налоги
- б) нераспределенную прибыль
- в) амортизацию
- г) объем покупок материалов у других фирм

24. Рост государственных расходов увеличивает реальный ВВП только в том случае, если:

- а) государственные расходы направляются на закупки товаров и услуг, а не оплату труда чиновников
- б) государственные расходы сопровождаются увеличением предложения денег
- в) государственные расходы не вытесняют равновеликого объема расходов в негосударственном секторе
- г) государственные расходы финансируются за счет выпуска государственных займов

25. ВВП, рассчитанный по потоку расходов, и ВВП, рассчитанный по потоку доходов соотносятся следующим образом:

- а) ВВП по доходам равен ВВП по расходам
- б) ВВП по доходам больше ВВП по расходам в условиях экономического роста
- в) соотношение между ВВП по доходам и ВВП по расходам зависит от темпов инфляции за рассматриваемый период
- г) все ответы верны

26. Если общий уровень цен в стране за год существенно вырастет, а производство товаров и услуг не изменится, то при прочих равных условиях...:

- а) реальный валовой внутренний продукт (ВВП) увеличится
- б) номинальный ВВП уменьшится
- в) номинальный ВВП увеличится
- г) реальный уровень жизни в стране повысится

27. Из предложенных ниже определений понятия «валовой внутренний продукт» выберите наилучшее. Валовой внутренний продукт - это:

- а) рыночная стоимость всех конечных товаров и услуг, произведенных на территории страны в течение календарного года
- б) стоимость всех конечных товаров и услуг, купленных по рыночным ценам на территории страны в течение календарного года
- в) рыночная стоимость конечных товаров и услуг, произведенных жителями страны в течение календарного года
- г) рыночная стоимость страны в течение календарного года

28. Доходы, полученные владельцами факторов производства, в сумме составляют...

- а) валовый национальный продукт
- б) валовый внутренний продукт
- в) располагаемый доход
- г) национальный доход

Блок 2 «Уметь»

Тесты:

1. Определите прирост реального ВВП при условии, что в базовом и текущем году номинальный ВВП был равен 106 и 154 ден. ед. соответственно, а дефлятор ВВП составил 1,4.

2. В республике «W» номинальный ВВП в базовом году составил 3000 млн.руб. и в следующем году увеличился на 300 млн.руб. Если дефлятор ВВП составил 1,2, то:

- а) номинальный ВВП увеличится на 10%, реальный ВВП снизится на 18,3%
- б) номинальный ВВП снизится на 10%, реальный ВВП не изменится
- в) номинальный ВВП увеличится на 10%, реальный ВВП увеличится на 2%
- г) номинальный ВВП увеличится на 20%, реальный ВВП увеличится на 12%

3. ВВП увеличился с 500 млрд. руб. до 600 млрд. руб. Дефлятор ВВП увеличился со 125 до 150%. Величина реального ВВП:

- а) не изменится;
- б) увеличится;
- в) уменьшится;
- г) не может быть рассчитана на основе этих данных.

4. ВВП=5000 млрд. руб. Потребительские расходы=3200 млрд. руб. Государственные расходы=900 млрд. руб. Объем ЧВП составит:

- а) 820 млрд. руб.
- б) 1800 млрд. руб.
- в) 900 млрд. руб.
- г) определить на основе данной информации невозможно.

5. Если объем реального ВВП снизился на 6%, а численность населения в том же году сократилась на 3%, то:

- а) реальный ВВП на душу населения снизился;
- б) реальный ВВП на душу населения увеличился, а номинальный снизился;
- в) номинальный ВВП не изменился;
- г) цены упали на 3%.

6. Если расходы на потребление равны 60, валовые инвестиции 20, государственные закупки товаров и услуг 30, импорт 20, экспорт 10, амортизация 10, то валовой национальный продукт и чистый национальный продукт равны соответственно:

- а) 110 и 100;
- б) 100 и 90;
- в) 100 и 110;
- г) 120 и 110.

7. Дефлятор вырос с 1,4 до 2,6 при неизменном номинальном ВВП. Процентное изменение реального ВВП составит _____ (впишите правильный ответ)

8. Дефлятор вырос с 1,7 до 2,8 при неизменном номинальном ВВП. Процентное изменение реального ВВП составит _____ (впишите правильный ответ)

9. Дефлятор вырос с 1,5 до 2,4 при неизменном номинальном ВВП. Процентное изменение реального ВВП составит _____ (впишите правильный ответ)

10. Дефлятор вырос с 1,7 до 3,9 при неизменном номинальном ВВП. Процентное изменение реального ВВП составит _____ (впишите правильный ответ)

11. Дефлятор вырос с 1,3 до 1,9 при неизменном номинальном ВВП. Процентное изменение реального ВВП составит _____ (впишите правильный ответ)

12. Если номинальный ВВП равен 1100 дол., а реальный ВВП - 1000 дол., дефлятор ВВП составит:

- а) 9,09
- б) 90,91
- в) 1,1
- г) 110

13. Компания продала 20 единиц продукции по цене 1 тыс. дол., а ее затраты составили: на заработную плату - 1,5 тыс. дол., на покупку сырья и материалов - 3 тыс. дол. Величина добавленной стоимости равна:

- а) 18 тыс. дол.
- б) 17 тыс. дол.
- в) 15,5 тыс. дол.
- г) 13,5 тыс. дол.

14. Реальный ВВП страны А составил 1800 ден. ед. в 2011 году и 1980 ден. ед. в 2012 году. Определите темпы роста и темпы прироста экономики.

15. Известно, что стране заработная плата наемных работников составил 1600 ден. ед., трансфертные платежи – 300 ден. ед., амортизация- 400 ден. ед., нераспределенная прибыль – 100 ден. ед., прямые налоги – 400 ден. ед. Чему в данной ситуации равен ВВП страны?

16. Известны следующие показатели национального хозяйства:

ВНП	1200
Потребление домашних хозяйств	600
Чистые инвестиции частного сектора	100
Валовые инвестиции частного сектора	250
Государственные расходы	120
Избыток государственного бюджета	20

Определите располагаемый доход домашних хозяйств.

17. В отчетном году результаты социально-экономического развития страны отразились в следующих макроэкономических показателях (в денежном выражении, условные единицы):

Валовый национальный продукт (ВНП) – 150;

Амортизация основного капитала – 15;

Косвенные налоги – 5;

Трансфертные платежи – 3,0

Налоги с личного дохода населения – 7,5.

Определите национальный доход (НД).

18. В отчетном году результаты социально-экономического развития страны отразились в следующих макроэкономических показателях (в денежном выражении, условные единицы):

Валовый национальный продукт (ВНП) – 100;

Амортизация основного капитала – 10;

Косвенные налоги – 5;

Транспортные платежи – 2,5

Налоги с личного дохода населения – 7,5.

Определите располагаемый личный доход (РЛД).

19. Экономика страны в отчетном году достигла параметров, отраженных следующей системой макроэкономических показателей (в денежном выражении, в условных единицах):

Расходы населения на потребление товаров и услуг – 500;

Амортизационные отчисления – 56;

Чистые внутренние инвестиции – 70;

Государственные закупки товаров и услуг – 150;

Косвенные налоги – 36;

Чистый экспорт – 6.

Определите чистый национальный продукт (ЧНП).

20. ВНП = 6000 млрд. денежных единиц. Потребительские расходы = 320 млрд. денежных единиц. Государственные расходы = 800 млрд. денежных единиц. Чистый экспорт = 80 млрд. денежных единиц. Экспорт = 340 млрд. денежных единиц. Сумма амортизации = 150 млрд. денежных единиц. Определите объем импорта.

Тема 9. Рынок труда и безработица

Блок 1 «Знать»

Вопросы для проведения устного опроса:

1. Охарактеризуйте фактор труд.
2. Назовите основные субъекты рынка труда.
3. Что представляет собой цена труда?
4. Дайте понятие заработной платы.
5. Дайте понятие номинальной и реальной заработной платы.
6. Назовите основные системы оплаты труда.
7. Перечислите основные формы оплаты труда.
8. Дайте определение безработицы.
9. Назовите основные виды безработицы.
10. Как определить уровень безработицы?
11. Охарактеризуйте основные направления политика государства в области занятости.

Тесты:

1. Уровень безработицы - это:
 - а) отношение численности безработных к численности рабочей силы
 - б) сумма уровней фрикционной и структурной безработицы
 - в) доля безработных, которая соответствует целесообразному уровню занятости
2. По состоянию здоровья инженер переехал в другой город и из-за переезда не работал полтора месяца. Это должно быть учтено при исчислении:
 - а) как фрикционной, так и структурной безработицы
 - б) циклической безработицы
 - в) фрикционной безработицы
 - г) структурной безработицы
3. Наталья Н., испортив отношения в коллективе, уволилась с работы машинисткой и потратила 3 недели на то, чтобы найти работу на компьютере. В период поиска Натальей работы ее следовало учесть при исчислении...
 - а) как фрикционной, так и структурной безработицы
 - б) циклической безработицы
 - в) фрикционной безработицы
 - г) структурной безработицы
4. За строительством электростанций, использующих нефть в качестве источника энергии, последовали закрытие ряда угольных шахт и массовое увольнение шахтеров. Это внесло вклад в увеличение...
 - а) как фрикционной, так и циклической безработицы
 - б) циклической безработицы
 - в) фрикционной безработицы
 - г) структурной безработицы
5. "Если человек в трудоспособном возрасте не работает, он является безработным". Это утверждение...
 - а) неверно
 - б) верно

- в) верно в том случае, если этот человек активно ищет работу
- г) верно в том случае, если этот человек не учится в общеобразовательной школе или на дневном отделении вуза

6. В период кризисного падения производства наблюдается:

- а) рост безработицы
- б) падение безработицы
- в) занятость остается неизменной

7. Уровень безработицы при полной занятости (естественный уровень безработицы):

- а) учитывает циклическую безработицу
- б) учитывает фрикционную и структурную безработицу
- в) равен нулю

8. Измеряемая безработица может быть ниже фактической безработицы, так как:

- а) измеряемая безработица не включает фрикционных безработных
- б) некоторые работники хотели бы найти работу, но отчаялись и прекратили поиски
- в) некоторые из тех лиц, которые называют себя безработными, просто не занимались поиском работы
- г) измеряемая безработица не включает в себя подростковую безработицу

9. Что из перечисленного ниже может сократить размеры структурной безработицы?

- а) увеличение пособий по безработице
- б) увеличение налогов на корпорации
- в) государственные программы по профессиональной переподготовке
- г) увеличение размеров минимальной заработной платы
- д) сокращение денежной массы

10. Если правительство преследует цель снизить естественный уровень безработицы в экономике, то все нижеперечисленные меры макроэкономической политики будут одобрены в парламенте, за исключением:

- а) повышение уровня пособий по безработице
- б) функционирование государственных служб занятости
- в) введение государственных программ профессиональной переподготовки
- г) введение бонусных программ страхования по безработице для лиц которые быстро находят новые рабочие места

11. Рынок труда - это:

- а) Статическая система, включающая в себя комплекс социально-трудовых отношений по поводу условий найма, использования и обмена рабочей силы на жизненные средства
- б) Механизм спроса и предложения, функционирующий на основе информации, поступающей в виде изменений цены труда (заработной платы)
- в) Динамическая система, включающая в себя комплекс социально-трудовых отношений по поводу условий найма, использования и обмена рабочей силы на жизненные средства

12. Структура рынка труда включает:

- а) Объекты рынка труда
- б) Рыночный механизм

- в) Конкуренцию
- г) Субъекты рынка труда

13. Рынок труда — это только те товарно-денежные отношения, которые связаны:

- а) Со временем формирования рабочей силы
- б) Со временем использования рабочей силы
- в) Со спросом на рабочую силу, определяемым спросом на товар в обществе
- г) С использованием профессиональных востребованных способностей и их вознаграждением

Блок 2 «Уметь»

Тесты:

1. Известно, что в стране население в трудоспособном возрасте составляет 76 млн. чел., служащие в армии - 4 млн. чел., домохозяйки - 3 млн. чел., пенсионеры - 5 млн. чел., 6 млн. чел. бездомных бродяг не работают и не ищут работу, 5 млн. чел. заняты в теневой экономике и не ищут работу, 1 млн. студентов ищут сезонную работу. Численность занятых в стране составляет 52 млн. чел.

Уровень безработицы составит:

- а) 24 млн. чел.
- б) 20 млн. чел.
- в) 14 млн. чел.
- г) недостаточно информации.

2. Какое из приведенных утверждений является правильным?

"Если человек в трудоспособном возрасте не работает, он является безработным".

Это утверждение

- а) безусловно, верно
- б) безусловно, неверно
- в) верно, если этот человек не учится в общеобразовательной школе или на дневном отделении вуза
- г) верно, если этот человек активно ищет работу, зарегистрировавшись в районной службе по трудоустройству

3. Какое из приведенных утверждений является правильным?

Человек, который болен и временно не работает, относится к категории:

- а) фрикционно безработных
- б) скрыто безработных
- в) не включается в общую численность рабочей силы
- г) занятых

4. Какое из приведенных утверждений является правильным?

Работник, уволившийся добровольно, ищущий, но еще не нашедший работу, попадает в категорию:

- а) фрикционно безработных;
- б) скрыто безработных;
- в) структурно безработных;
- г) вне рабочей силы.

5. Установите соответствие между понятием и его определением:

1. Фрикционная безработица
 2. Структурная безработица
 3. Технологическая безработица
 4. Естественный уровень безработицы
 5. Полная занятость
 6. Циклическая безработица
 7. Скрытая безработица
- А. Уровень безработицы, который складывается когда существует только фрикционная и структурная форма безработицы.
- Б. Безработица, которая вызвана несоответствием структуры рабочей силы структуре спроса на нее, т.е. структуре рабочих мест.
- В. Форма безработицы, связанная с теми случаями, когда люди работают неполную рабочую неделю или когда они не регистрируются на бирже труда, как безработные.
- Г. Уровень занятости, при котором существует только фрикционная и структурная безработица.
- Д. Разновидность структурной безработицы, связанная с введением в производство трудосберегающего оборудования.
- Е. Форма безработицы, связанная с переходом рабочих с одного предприятия на другое.
- Ж. Безработица, которая возникает и растёт во время циклического спада.

6. Установите соответствие между понятием и его определением:

1. Трудоспособное население
 2. Нетрудоспособное население
 3. Экономически активное население
 4. Добровольно незанятые
 5. Занятые
 6. Безработные
 7. Норма безработицы
- А. Часть трудоспособного населения, которая работает по найму, занимается частным бизнесом, находится на государственной службе или учится.
- Б. Часть населения страны, остающаяся за вычетом нетрудоспособного населения.
- В. Отношение числа безработных к сумме занятых и безработных.
- Г. Часть населения страны в возрасте до 16 лет и в пенсионном возрасте.
- Д. Часть экономически активного населения, которая не имеет работы, но которая намерена работать и ищет работу.
- Е. Часть трудоспособного населения, включающая занятых и безработных.
- Ж. Часть трудоспособного населения, которая остается за вычетом экономически активного населения.

7. Верны ли следующие суждения о безработице?

- А. Безработица является закономерным следствием рыночного регулирования экономики.
- Б. В каждой стране устанавливается свой неизменный в течение многих десятилетий уровень безработицы.
- а) верно только А
 - б) верно только Б
 - в) верны оба суждения
 - г) оба суждения неверны

8. Верны ли следующие суждения о безработице?

А. Безработным является любой неработающий человек.

Б. Безработица усиливается в период экономического кризиса.

а) верно только А

б) верно только Б

в) верны оба суждения

г) оба суждения неверны

9. В стране А. во время экономического кризиса многие граждане потеряли работу. Длительное время не могут ее найти и перебиваются временными, случайными заработками. Выберите из приведенного ниже списка характеристики безработицы в стране А. и запишите цифры, под которыми они указаны.

1. фрикционная

2. сезонная

3. открытая

4. циклическая

5. скрытая

6. структурная

10. Верны ли следующие суждения о безработице?

А. К безработным относятся все люди трудоспособного возраста, не имеющие работы.

Б. Безработица присуща всем экономическим системам.

а) верно только А

б) верно только Б

в) верно и А, и Б

г) оба суждения неверны

12. Определите размер вынужденной безработицы, если население области составляет 30 млн. человек, из них 10 млн. – нетрудоспособные и дети. Уровень безработицы составляет 7%, а уровень естественной безработицы – 5%.

13. Определите количество трудоспособного населения области, если все население составляет 10,5 млн. человек, количество фрикционной безработицы – 100 тыс., структурной безработицы – 200 тыс. и вынужденной безработицы – 300 тыс. Норма естественной безработицы составляет 5%.

Тема 10. Деньги, банки, инфляция

Блок 1 «Знать»

Вопросы для проведения устного опроса:

1. Дайте понятие денег.

2. Определите основные функции денег.

3. Охарактеризуйте деньги как средство обращения.

4. Охарактеризуйте деньги как меру стоимости.

5. Охарактеризуйте деньги как средство накопления.

6. Охарактеризуйте деньги как средство платежа.

7. В чем заключается проблема ликвидности.

8. Сформулируйте закон денежного обращения.

9. Сформулируйте уравнение обмена.

10. Дайте понятие денежного запаса.
11. Какова роль денег в экономике.
12. Дайте понятие банковской системы.
13. Сколько уровней имеет банковская система РФ.
14. Охарактеризуйте правовое положение Центрального банка (ЦБ) РФ.
15. Перечислите основные функции и задачи ЦБ РФ.
16. Назовите инструменты кредитно-денежной политики.
17. Назовите методы проведения кредитно-денежной политики.
18. Дайте понятие коммерческих банков.
19. Назовите функции коммерческих банков.
20. Перечислите основные виды банковских операций.

Тесты:

1. Финансовый посредник, осуществляющий деятельность по приему депозитов, предоставлению ссуд, организации расчетов, купле и продаже ценных бумаг:
 - а) Эмиссионный банк.
 - б) Кредитоспособность.
 - в) Банк.
 - г) Кредитный договор.
2. Банк, обладающий правами на выпуск (эмиссию) национальных денежных единиц и регулирование денежного обращения в стране:
 - а) Эмиссионный банк.
 - б) Кредитоспособность.
 - в) Банк.
 - г) Кредитный договор.
3. Все виды денежных средств, переданные их владельцами на временное хранение в банк с предоставлением ему права использовать эти деньги для кредитования:
 - а) Эмиссионный банк.
 - б) Кредитоспособность.
 - в) Банк.
 - г) Кредитный договор.
 - д) Возвратные ресурсы.
 - е) Депозит.
4. Соглашение между банком и тем, кто одалживает у него деньги (заемщиком), определяющее обязанности и права каждой из сторон, и прежде всего: срок предоставления кредита, плату за пользование им и гарантии возврата денег банку:
 - а) Эмиссионный банк.
 - б) Кредитоспособность.
 - в) Банк.
 - г) Кредитный договор.
 - д) Возвратные ресурсы.
5. Наличие у заемщика готовности и возможности вовремя выполнить свои обязательства по кредитному договору, то есть вернуть основную сумму займа и выплатить проценты по нему:
 - а) Эмиссионный банк.
 - б) Кредитоспособность.

- в) Банк.
- г) Кредитный договор.

6. Собственность заемщика, которую он передает под контроль или в распоряжении банка, разрешая ее продать, если он сам не сможет вернуть долг:

- а) Залог.
- б) Чековый счёт.
- в) Вексель.
- г) Частичные резервы.

7. Безусловное обязательство одного лица другому уплатить фиксированную сумму денег в определенные моменты времени:

- а) Залог.
- б) Чековый счёт.
- в) Вексель.
- г) Частичные резервы.

8. Предложение денег в общем виде можно определить как:

- а) сумму резервов коммерческих банков и наличности вне банковской системы
- б) сумму наличности и депозитов
- в) разность депозитов коммерческих банков и их резервов
- г) сумму депозитов и резервов коммерческих банков

9. В соответствии с портфельными теориями, спрос на деньги положительно зависит от:

- а) реальных ожидаемых доходов по акциям
- б) реального накопленного богатства
- в) реальных ожидаемых доходов по облигациям
- г) ожидаемой инфляции

10. Что из нижеперечисленного не является частью M1:

- а) наличные деньги в обращении
- б) депозиты до востребования
- в) наличные деньги в хранилищах банка
- г) чеки путешественников

11. Все нижеследующее является функцией Центрального банка за исключением:

- а) эмиссии денег
- б) поддержание стабильности денежного обращения
- в) операции на открытом рынке
- г) прием вкладов у населения
- д) кассовое обслуживание фирм
- е) регулирование ставки процента

12. Предложение денег в стране может увеличиться под влиянием следующих факторов кроме:

- а) увеличения коэффициента депонирования (отношение наличные деньги–депозиты)
- б) увеличения денежной базы
- в) увеличения денежного мультипликатора
- г) уменьшения ставки рефинансирования

13. Расположите следующие активы в соответствии со степенью их ликвидности:

- а) срочные депозиты
- б) наличные деньги
- в) государственные краткосрочные облигации
- г) акции нефтяной компании «Лукойл»

14. В соответствии с грубой количественной теорией денег изменение в предложении денег приводит к:

- а) увеличению скорости обращения денег
- б) пропорциональному росту уровня цен
- в) росту реального ВВП
- г) падению реального ВВП

15. Если скорость обращения денег фиксировать, то:

- а) предложение денег не оказывает никакого влияния на экономику
- б) изменения в предложении денег могут вызвать изменения в номинальном ВВП
- в) фискальная политика может воздействовать на экономику независимо от предложения денег
- г) экономика всегда находится в состоянии полной занятости

16. Функцией Центрального банка не являются:

- а) выдача кредитов коммерческим банкам
- б) эмиссия денег
- в) изменение налоговых ставок
- г) хранение золотовалютных резервов

17. К операциям, осуществляемым коммерческими банками, не относится:

- а) предоставление кредитов населению и другим банкам
- б) прием вкладов от населения
- в) покупка ценных бумаг
- г) эмиссия денег

18. Учетная ставка – это:

- а) ставка, по которой Центральный банк кредитует коммерческие банки
- б) ставка, по которой Центральный банк кредитует друг друга
- в) ставка, по которой банки кредитуют нефинансовые корпорации
- г) нет верного ответа

19. Инструментом кредитно-денежной политики не является:

- а) норма обязательных резервов
- б) учетная ставка процента
- в) государственные закупки товаров и услуг
- г) операции на открытом рынке

20. Укажите, какое из приведенных здесь утверждений является правильным. Инфляция – это:

- а) долговременное повышение цен на небольшую группу отдельных товаров;
- б) долговременное повышение общего уровня цен на товары и услуги;

в) кратковременное (сезонное) повышение общего уровня цен на всё или большую часть товаров и услуг.

21. К причинам, вызывающим инфляцию, относится:

- а) исполнение государственного бюджета с профицитом
- б) расширение рынка труда
- в) рост дефицита государственного бюджета
- г) увеличение выпуска товаров

22. Последствия инфляции для потребителя проявляются в том, что

- а) повышается покупательная способность
- б) увеличиваются расходы государства на социальные выплаты
- в) увеличивается потребительский бюджет;
- г) снижаются реальные доходы.

Блок 2 «Уметь»

Тесты:

1. Если реальная ставка процента упадет на 1%, а темп инфляции увеличится на 2%, то в соответствии с эффектом Фишера номинальная ставка процента:

- а) упадет на 3%;
- б) увеличится на 1%;
- в) увеличится на 2%;
- г) упадет на 1%.

2. Если годовой уровень инфляции равен 7%, а падение реального ВВП равно 4% (с точностью до 0,1%), процентное изменение номинального ВВП за год составит _____ (впишите правильный ответ).

3. Если годовой уровень инфляции равен 10%, а падение реального ВВП равно 9% (с точностью до 0,1%), процентное изменение номинального ВВП за год составит _____ (впишите правильный ответ).

4. Если годовой уровень инфляции равен 5%, а падение реального ВВП равно 2% (с точностью до 0,1%), процентное изменение номинального ВВП за год составит _____ (впишите правильный ответ).

5. Если годовой уровень инфляции равен 9%, а падение реального ВВП равно 5% (с точностью до 0,1%), процентное изменение номинального ВВП за год составит _____ (впишите правильный ответ).

6. Если годовой уровень инфляции равен 5%, а падение реального ВВП равно 4% (с точностью до 0,1%), процентное изменение номинального ВВП за год составит _____ (впишите правильный ответ).

7. Месячный уровень инфляции неизменен в течение года и составил 8%. Годовой уровень инфляции составит _____ (впишите правильный ответ).

8. В декабре цены выросли на 20%, а в январе упали на 19%. Определите уровень инфляции (дефляции) за два месяца _____ (впишите правильный ответ)

9. Если уровень инфляции в январе равен 10%, а в феврале 20%. Найти уровень инфляции за период январь – февраль _____ (впишите правильный ответ)

10. Согласно уравнению количественной теории денег, если количество денег увеличивается на 5%, а скорость оборота на 3%, то:

- а) реальный доход увеличится на 2%;
- б) уровень цен увеличится на 5%;
- в) норма номинального процента увеличится на 3%;
- г) номинальный доход увеличится примерно на 8%.

11. Если номинальный ВВП равен 5 000 ден.ед., одна денежная единица совершает в год в среднем 2,5 оборота, а спекулятивный спрос на деньги составляет 400 ден.ед., то общий спрос на деньги достигнет величины:

- а) 5400 ден.ед.;
- б) 2400 ден.ед.;
- в) 2000 ден.ед.;
- г) 400 ден.ед.

12. Реальный объем производства составляет 28 млн.ед., а скорость обращения денежной единицы равна 7. Масса реальных денег в экономике достигнет величины:

- а) 1 млн.;
- б) 2 млн.;
- в) 3 млн.;
- г) 4 млн.

13. Определите уровень инфляции за 4 года, если она составляла по годам: 2012 г. – 25%; 2013 г. – 60%; 2014 г. – 50%; 2015 г. – 100%.

14. Определите средний темп инфляции, если она составляла по годам: 1-й г. – 20%; 2-й г. – 30%; 3-й г. – 40%; 4-й г. – 50%.

Тема 11. Международная экономика

Блок 1 «Знать»

Вопросы для проведения устного опроса:

- 1. Дайте понятие международной торговли.
- 2. Дайте понятие мирового рынка.
- 3. Дайте понятие международного разделения труда.
- 4. Назовите основные элементы теории сравнительных преимуществ.
- 5. Дайте понятие международной торговой политики.
- 6. Назовите основные виды международной торговой политики.
- 7. Дайте понятие валюты.
- 8. Что такое валютный курс.
- 9. Что представляет собой конвертируемость валюты.
- 10. Назовите факторы, определяющие валютные курсы.
- 11. Перечислите основные глобальные экономические проблемы.

Тесты:

1. Покупка жителями одной страны товаров, изготовленных в других государствах:

- а) Принцип абсолютного преимущества.
- б) Экономические циклы.
- в) Экспорт.
- г) Экономическое развитие.
- д) Импорт.
- е) Интенсивный рост.

2. Продажа жителями других стран товаров, произведенных отраслями отечественной экономики:

- а) Принцип абсолютного преимущества.
- б) Экономические циклы.
- в) Экспорт.
- г) Экономическое развитие.

3. Страны выигрывают от торговли друг с другом, если каждая из них специализируется на производстве товаров, которые она может изготавливать с абсолютно меньшими затратами ресурсов, чем ее торговые партнеры:

- а) Принцип абсолютного преимущества.
- б) Экономические циклы.
- в) Экспорт.
- г) Экономическое развитие.

4. Каждой стране выгоднее экспортировать те товары, для которых цены выбора у нее относительно ниже, чем в других странах:

- а) Таможенная пошлина.
- б) «Золотой стандарт».
- в) Протекционизм.
- г) Валютный (обменный) курс.
- д) Принцип относительного преимущества.
- е) Международная зона свободной торговли.

7. Государственная экономическая политика, сутью которой является защита отечественных производителей товаров от конкуренции со стороны фирм других стран с помощью установления различного рода ограничений на импорт:

- а) Таможенная пошлина.
- б) «Золотой стандарт».
- в) Протекционизм.
- г) Валютный (обменный) курс.

8. Налог в пользу государства, взимаемый при пересечении границы с владельца товаров иностранного производства, ввозимого в страну для продажи:

- а) Таможенная пошлина.
- б) «Золотой стандарт».
- в) Протекционизм.
- г) Валютный (обменный) курс.

9. Группа стран, в пределах которых товары, люди и капиталы могут перемещаться почти или вообще без ограничений и пошлины:

- а) Таможенная пошлина.
- б) «Золотой стандарт».
- в) Протекционизм.
- г) Валютный (обменный) курс.
- д) Принцип относительного преимущества.
- е) Международная зона свободной торговли.

10. Цена одной национальной денежной единицы, выраженная в денежных единицах других стран:

- а) Таможенная пошлина.
- б) «Золотой стандарт».
- в) Протекционизм.
- г) Валютный (обменный) курс.
- д) Принцип относительного преимущества.

11. Механизм обмена национальных валют пропорционально весу золота, который объявлялся обеспечением номинала денежных знаков:

- а) Таможенная пошлина.
- б) «Золотой стандарт».
- в) Протекционизм.

12. Официальное снижение государством курса обмена своих денежных знаков на валюты других стран, то есть увеличение количества этих знаков, которое можно получить за единицу иностранной валюты:

- а) Валютный (обменный) курс.
- б) Девальвация валюты.
- в) Экономические циклы.
- г) Валютный коридор.
- д) Кредитная эмиссия.

13. Устанавливаемые государством верхняя и нижняя границы колебаний курса рубля на валютном рынке, соблюдение которых обеспечивается за счет продажи или скупки валюты на этом рынке Центральным банком:

- а) Валютный (обменный) курс.
- б) Девальвация валюты.
- в) Экономические циклы.
- г) Валютный коридор.
- д) Кредитная эмиссия.

Блок 2 «Уметь»

Тесты:

1. Определить каким будет средний курс евро к швейцарскому франку, если исходить из их средних курсовых соотношений с долларом США. При этом: X швейцарских франков = 100 евро; 5125 евро = 1 доллар США; 1 доллар США = 1,3140 швейцарских франков.

2. Определить, каким будет средний курс фунта стерлингов к швейцарскому франку исходя из средних курсов этих валют к доллару. При этом:

X швейцарских франков = 1 фунту стерлингов

1 фунт стерлингов = 1,6950 долларов США

1 доллар США = 1,3140 швейцарских франков

3. Чему равен кросс-курс швейцарского франка к шведской кроне, если:

X швейцарского франка = 100 шведским кронам

3,7946 шведских крон = 1 доллару США

доллар США = 1,9872 швейцарского франка

4. Страны X и Y имеют устойчивые торговые отношения. Предположим, что потребители стран X и Y привержены своим привычкам и покупают импортные товары в неизменном объеме при любых обстоятельствах. Валюта страны X девальвировала относительно валюты страны X на 20 %. Как это отразится на балансе счета текущих операций стран X и Y?

5. Допустим, что Россия производит 360 электровозов и 2400 вагонов, а Украина — 160 электровозов и 800 вагонов. Если бы Россия производила только электровозы, то их ежегодный выпуск составил бы 600 шт., а если бы только вагоны, то выпустила бы их 6000 шт. Соответственно, Украина могла бы производить либо 200 электровозов, либо 4000 вагонов. Определите, какая страна обладает абсолютным и сравнительным преимуществом в производстве этих видов продукции; к каким выгодам приводит специализация.

6. Имеются следующие косвенные котировки валют: в Москве 1 российский рубль = 0,0387 долл. США; в Афинах 100 греческих драхм = 325,0562 евро. Дайте прямые котировки валют.

7. Курс рубля (RUR) к USD составляет 30,00 руб. за 1 долл. Курс фунта стерлингов составляет 1,40 USD за один GBR. Рассчитайте курс RUR к фунту.

Регламент проведения и оценивание практических работ

В целях закрепления практического материала и углубления теоретических знаний по разделам дисциплины «Экономика» предполагается выполнение практических работ, что позволяет углубить процесс познания, раскрыть понимание прикладной значимости осваиваемой дисциплины.

Регламент проведения мероприятия

№	Вид работы	Продолжительность
1.	Предел длительности практической работы	80 мин.
2.	Защита отчета	10 мин.
	Итого (в расчете на одну практическую работу)	90 мин.

Критерии оценки практических работ

Оценка	Критерии оценивания
5 баллов	Задание выполнено полностью, в представленном отчете обоснованно получено правильное выполненное задание.
4 балла	Задание выполнено полностью, но нет достаточного обоснования или при верном решении допущена незначительная ошибка, не влияющая на правильную последовательность рассуждений.
2 балла	Задания выполнены частично.
0 баллов	Задание не выполнено.

Общее распределение баллов текущего контроля по видам учебных работ для студентов (в соответствии с Положением)

1 семестр

Рейтинг-контроль 1	Устный опрос, доклад, тестирование	до 15
Рейтинг-контроль 2	Устный опрос, доклад, тестирование	до 15
Рейтинг-контроль 3	Устный опрос, тестирование	до 15
Посещение занятий студентом	Посещение лекционных, практических занятий, качество выполнения заданий	До 25
Дополнительные баллы (бонусы)	Активность на практических занятиях	До 10
Выполнение семестрового плана самостоятельной работы	Выполнение плана самостоятельной работы студентов	До 20

2 семестр

Рейтинг-контроль 1	Устный опрос, тестирование	до 10
Рейтинг-контроль 2	Устный опрос, доклад, тестирование	до 10
Рейтинг-контроль 3	Устный опрос, тестирование	до 10
Посещение занятий студентом	Посещение лекционных, практических занятий, качество выполнения заданий	До 25
Дополнительные баллы (бонусы)	Активность на практических занятиях	До 10
Выполнение семестрового плана самостоятельной работы	Выполнение плана самостоятельной работы студентов	До 20

Показатели, критерии и шкала оценивания компетенций промежуточной аттестации знаний по учебной дисциплине «Экономика»

Итоговой формой контроля полноты достижения студентами заявленных результатов по дисциплине является дифференцированный зачёт. ФОС промежуточной аттестации состоит из итогового зачетного теста.

Итоговый тест по дисциплине включает 15 вопросов, разделенных на блоки: знать (10 вопросов), уметь (5 вопроса).

Максимальное количество баллов, которое студент может получить составляет 15 баллов.

Регламент проведения мероприятия

№	Вид работы	Продолжительность
1.	Предел длительности тестового задания (10 заданий из блока «знать» и 5 задания из блока «уметь»)	30 мин.
	Итого (в расчете на тест)	30 мин.

Критерии оценки тестирования студентов

Оценка выполнения тестов	Критерии оценки
1 балл за правильный ответ на 1 вопрос из блока «знать» и 1 балл за правильный ответ на 1 вопрос из блока «уметь»	правильно выбранный вариант ответа (в случае закрытого теста), правильно вписанный ответ (в случае открытого теста)

ОЦЕНОЧНЫЕ СРЕДСТВА ДЛЯ ПРОМЕЖУТОЧНОЙ АТТЕСТАЦИИ ПО КУРСУ «ЭКОНОМИКА»

Тема 1. Экономика и экономическая наука

Блок 1 «Знать»

Тест:

1. Предметом экономики является:

- а) изучение социальных отношений в обществе;
- б) изучение политических отношений в обществе;
- в) изучение экономических отношений в процессе производства, распределения и потребления материальных благ в целях удовлетворения потребностей при ограниченных ресурсах;
- г) изучение экономического поведения отдельных групп потребителей, фирм и собственников ресурсов.

2. При каком из методов изучения хозяйственных явлений исследователь отвлекается от второстепенных сторон явлений, чтобы выявить то, что в них существенно и постоянно повторяется?

- а) метод математического моделирования;
- б) метод анализа и синтеза;
- в) метод индукции;
- г) метод научной абстракции.

3. Что свойственно экономическим законам?

- а) объективность;
- б) субъективность;
- в) вечность;
- г) носят естественный характер.

4. Укажите, какие существуют фундаментальные вопросы экономики:

- а) Что производить? Кто должен производить? Из чего производить?;
- б) Что добывать? Какой объем добывать? Как распределять?;
- в) Что производить? Как производить? Для кого производить?;
- г) Что покупать? По какой цене покупать? Кому продавать?.

5. Какая из экономических школ первой сделала предметом своего анализа процесс производства:

- а) кейнсианская школа;
- б) меркантилизм;
- в) маржинализм;
- г) физиократы.

6. Микроэкономика изучает:

- а) функционирование экономики как единого целого;
- б) эффективность распределения и использования ресурсов;
- в) поведение фирм и потребителей;
- г) формирование валютных курсов.

7. В качестве предмета политической экономии К.Маркс выделял:

- а) процесс накопления первоначального капитала;
- б) систему эксплуатации рабочего класса;
- в) отношения между людьми, складывающиеся в процессе производства, распределения, обмена и потребления экономических благ;
- г) процесс потребления как наиболее важное связующее звено между классами.

8. В рамках кейнсианской школы:

- а) доминирующее положение занимает идея свободного рынка;
- б) обосновывалась необходимость государственного вмешательства в экономику;
- в) богатство нации определялось через драгоценные металлы;
- г) предметом исследования являлись микроэкономические процессы в обществе.

9. Первой экономической школой является:

- а) кейнсианство;
- б) меркантилизм;
- в) маржинализм;
- г) классическая школа.

10. Что из нижеперечисленного не является экономической школой:

- а) неоклассики;
- б) посткейнсианство;
- в) институционализм;
- г) постмодернизм.

11. Физиократы считали, что:

- а) богатство создается в сельском хозяйстве;
- б) ценность блага определяется его предельной полезностью;
- в) государство должно активно вмешиваться в экономические процессы;
- г) в управлении экономикой необходимо сделать акцент на денежно-кредитной политике.

12. Что не является экономической целью общества:

- а) стабильность цен;
- б) полная занятость;
- в) экономическая свобода;
- г) равенство доходов.

13. Найдите верное утверждение: потребности

- а) безграничны;
- б) взаимообусловлены;
- в) историчны;
- г) все утверждения верны.

14. Экономические блага:

- а) всегда ограничены.
- б) имеются в наличии в неограниченном количестве.
- в) могут быть как ограниченными, так и неограниченными.

15. Экономическими благами являются:

- а) выпеченный хлеб;
- б) деревья в лесу;
- в) мебель в магазине;
- г) уголь в недрах земли.

16. К неэкономическим благам относятся:

- а) воздух;
- б) чистую питьевую воду;
- в) земельные участки;
- г) энергию ветра

17. Ресурсами не являются:

- а) продукты питания;
- б) полезные ископаемые;
- в) квалифицированная рабочая сила;
- г) заводские здания и сооружения

18. К основным факторам производства относятся:

- а) деньги;
- б) труд;
- в) капитал;
- г) земля;
- д) неэкономические ресурсы.

19. К какому типу экономических ресурсов (факторов производства) относится бухгалтер магазина, входящего в крупную розничную сеть?

- а) Предпринимательская способность
- б) Капитал
- в) Земля
- г) Труд

20. При построении кривой производственных возможностей используются следующие допущения:

- а) полная занятость ресурсов и эффективность производства;
- б) открытая экономика;
- в) выпускается только два товара;
- г) количество ресурсов не меняется;
- д) темпы технического прогресса остаются неизменными.

21. Выберите комбинацию, включающую только разные факторы производства:

- а) нефть, логист, деньги;
- б) экономист, шахта, акции;
- в) IT-специалист, токарный станок, цех;
- г) эколог, буровая установка, уголь.

22. Что имеют в виду, утверждая, что каждая экономическая система сталкивается с фактом ограниченности ресурсов:

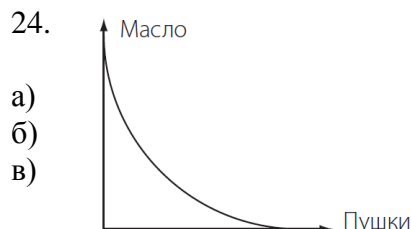
- а) некоторые ресурсы можно купить только по высоким ценам;

- б) с ограниченностью ресурсов сталкиваются бедные государства, богатые же смогли преодолеть эту проблему;
- в) экономические ресурсы никогда не бывают достаточными, чтобы удовлетворить все человеческие потребности;
- г) в любой экономике бывают периоды спада, когда существует ограниченность ресурсов.

23. Правостороннее смещение кривой производственных возможностей может объясняться следующими факторами:

- а) переходом от неполного использования имеющихся ресурсов к полному их использованию;
- б) появлением более эффективной технологии производства;
- в) открытием новых месторождений полезных ископаемых;
- г) переквалификацией работников с производства более дешёвого продукта на производство более дорогого продукта;
- д) повышением ресурсоёмкости производства.

24.



Может ли кривая производственных возможностей принимать такой вид:

- а) да;
- б) нет;
- в) при некоторых технологиях производства.

25. Альтернативные издержки хранения денег в виде наличности:

- а) растут при увеличении процента по вкладам;
- б) определить нельзя, так как к деньгам вообще нельзя применить принцип альтернативной стоимости;
- в) снижаются при увеличении процента по вкладам;
- г) равны нулю, так как деньги не являются фактором производства.

Блок 2 «Уметь»

Тест:

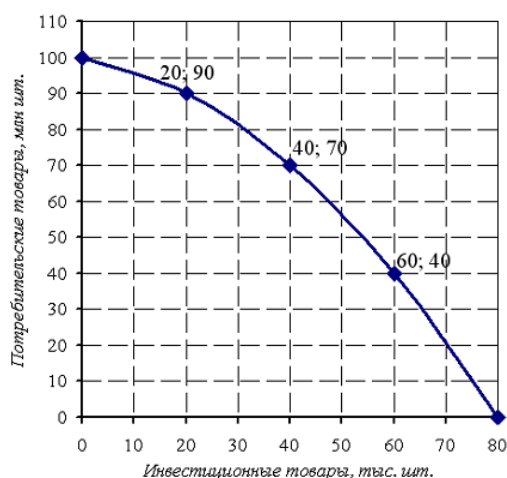
1. На основании таблицы определите альтернативные издержки производства товара В:

Варианты	Товар А	Товар В
1	4000	100
2	3000	200

2. На основании таблицы определите альтернативные издержки производства товара А:

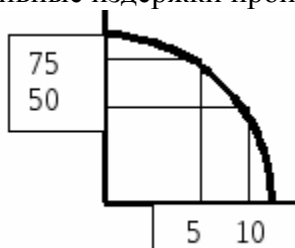
Варианты	Товар А	Товар В
1	4000	100
2	3000	200

3. Экономика некоторой страны находится на границе своих производственных возможностей, которые отражены на графике:

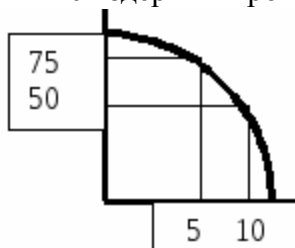


Текущая ситуация: производится 60 тыс. шт. инвестиционных товаров и 40 млн шт. потребительских товаров. Альтернативная стоимость решения об увеличении производства потребительских товаров на 50 млн.шт. равна ____ тыс. шт. инвестиционных товаров.

4. Дана графическая модель производственных возможностей экономики. Альтернативные издержки производства единицы продукции А (ордината) составят ...



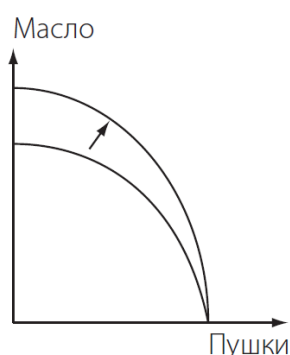
5. Дана графическая модель производственных возможностей экономики. Альтернативные издержки производства единицы продукции В (абсцисса) составят ...



6. Сокращение объема выпуска товара А на 25 ед. вызвало увеличение производства товара В с 0 до 100 ед. Альтернативная стоимость производства 1 ед. товара В составляет ____ ед. товара А.

7. Сокращение объема выпуска товара А на 40 ед. вызвало увеличение производства товара В с 50 до 120 ед. Альтернативная стоимость производства 1 ед. товара В составляет ____ ед. товара А.

8. Если линия производственных возможностей сдвинется так, как показано на рисунке, то это будет означать, что:



- а) новая технология сделала более эффективным только производство пушек;
- б) новая технология сделала более эффективным только производство масла;
- в) новая технология сделала более эффективным производство как пушек, так и масла;
- г) новая технология сделала производство пушек менее эффективным, а производство масла — более эффективным.

9. На основании таблицы определите альтернативные издержки производства товара В:

Варианты	Товар А	Товар В
1	400	50
2	250	100

10. На основании таблицы определите альтернативные издержки производства товара А:

Варианты	Товар А	Товар В
1	400	50
2	250	100

10. Установите соответствие между отдельными разделами экономической теории и примерами области их изучения:

1. Макроэкономика

2. Микроэкономика

Варианты ответов:

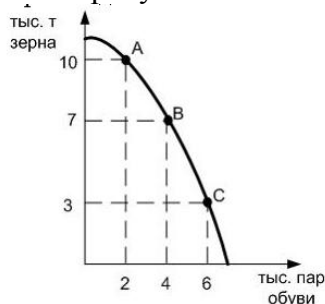
а) Безработица в стране

б) Функционирование экономики США

в) Бухгалтерский баланс ОАО РЖД

г) Спрос и предложение молока

11. На рисунке показана кривая производственных возможностей



Если экономика движется от точки В к точке С, то альтернативные издержки увеличения производства 2 тыс. пар будут равны _____ тыс. т. зерна

а) 3

- б) 4
- в) 5
- г) 7

12. _____ - это упрощенные представления о взаимосвязях между экономическими переменными (впишите пропущенное слово)

13. _____ - это средства, с помощью которых удовлетворяются потребности (впишите пропущенное слово)

14. В основе пирамиды потребностей Маслоу лежат _____ потребности (впишите пропущенное слово)

15. Основными факторами производства являются: _____, _____, _____ (впишите пропущенные слова)

16. Производственные возможности экономики приведены в таблице

Ракеты	5	4	3	2	1	0
Компьютеры	0	6	11	15	18	20

Экономика производит 3 ракеты и 11 компьютеров. Определите альтернативные издержки производства четвертой ракеты:

- а) три компьютера;
- б) четыре компьютера;
- в) пять компьютеров;
- г) шесть компьютеров.

Тема 2. Экономические системы. Собственность и конкуренция

Блок 1 «Знать»

Тест:

1. Если рыночная система не может существовать без четырех основных условий, то товарное производство может базироваться только на двух из них, каких?

- а) общественное разделение труда;
- б) экономическое обособление;
- в) многообразие субъектов рынка;
- г) правомочность субъектов рынка в заключении сделок.

2. Традиционное хозяйство характеризуется наличием:

- а) крупного машинного производства в значительной части отраслей хозяйства;
- б) значительной долей ручного труда;
- в) значительной дифференциацией доходов населения;
- г) значительным влиянием на производство и управление государством кровнородственных связей.

3. Характеристика административно-командной системы не включает следующие условия:

- а) наличие государственной формы собственности;
- б) наличие государственной формы хозяйствования;

- в) наличие крупного машинного производства;
- г) наличие многообразных субъектов рынка.

4. В смешанной экономике роль государства:

- а) никак не проявляется;
- б) ограничена;
- в) значительна;
- г) проявляется во всех секторах хозяйств.

5. Какая из характеристик не относится к рыночной экономике:

- а) конкуренция;
- б) частная собственность;
- в) централизованное планирование;
- г) свобода предпринимательского выбора.

6. Когда экономические проблемы решаются частично рынком, частично правительством, то экономика:

- а) командная;
- б) рыночная;
- в) натуральная;
- г) смешанная.

7. Простое товарное производство характеризуется наличием:

- а) множества продавцов;
- б) множества покупателей;
- в) регулированием цен со стороны государства;
- г) конкуренцией среди субъектов рынка.

8. Особенностью простого товарного производства в отличие от рыночного хозяйства является:

- а) наличие частной собственности;
- б) совмещение в одном лице и собственника средств производства, и непосредственного производителя;
- в) свобода предпринимательского выбора;
- г) невмешательство государства в деятельность отдельного субъекта.

9. Смешанная экономика характеризуется только:

- а) наличием крупного машинного производства;
- б) натуральным хозяйством;
- в) сочетанием крупного машинного производства и натурального хозяйства;
- г) сочетанием всех известных экономических укладов.

10. Социально ориентированная рыночная экономика присуща странам:

- а) с высоким уровнем развития производства;
- б) с низким уровнем развития производства;
- в) постсоциалистического периода;
- г) Азии и Африки.

11. Какой признак характеризует традиционную экономику?

- а) централизованное ценообразование

- б) регулирование производства при помощи обычаев
- в) конкуренция свободных производителей на рынке товаров
- г) преобладание частной собственности на средства производства

12. Что характеризует командную экономику?

- а) свобода предпринимательской деятельности
- б) многообразие форм собственности
- в) преобладание сельского хозяйства
- г) централизованное ценообразование

13. Какой признак характеризует рыночную экономику?

- а) государственная собственность на средства производства
- б) уравнилельное распределение производимых благ
- в) свободная конкуренция товаропроизводителей
- г) незаинтересованность производителя в результатах труда

14. В каком из вариантов правильно названы все типы экономических систем?

- а) традиционная, рыночная, тоталитарная, смешанная
- б) централизованная, капиталистическая, традиционная, развитая
- в) смешанная, рыночная, командная, традиционная
- г) демократическая, традиционная, феодальная, централизованная

15. Какую экономическую систему характеризует следующий пример:

Вопросы производства и распределение продукции жестко регламентируются государством, государство устанавливает цены на продукцию:

- а) Командную (плановую)
- б) Свободную рыночную экономику
- в) Социально ориентированное рыночное хозяйство
- г) Традиционную экономику

16. Какая экономическая система основывается на общей собственности, где ограниченные ресурсы используются в соответствии с обычаями.

- а) рыночная
- б) традиционная
- в) командная
- г) смешанная

17. Смешанная экономика – это:

- а) экономическая система, основанная на частной собственности, свободном предпринимательстве и ценовом механизме регулирования экономики;
- б) экономическая система, в основе которой лежит государственная форма собственности, а общественное производство организуется на основе директивного планирования;
- в) экономическая система, основанная на общинной собственности, и господстве норм и обычаев, регламентирующих выбор экономических субъектов.
- г) экономическая система, основанная на частной собственности и свободном предпринимательстве, регулируемая государством.

18. Регулярное вмешательство государства в экономику характерно для:

- а) плановой экономики;

- б) смешанной экономики;
- в) традиционного общества;
- г) все ответы верны.

19. Если в какой-то отрасли несколько (3-7) фирм контролируют подавляющую часть рынка, то устанавливается конкуренция, носящая название:

- а) монополия;
- б) олигополия;
- в) совершенная конкуренция;
- г) монопосония;
- д) монополистическая конкуренция.

20. Существует экономическая ситуация, при которой покупателем какой-то продукции является только одна фирма (организация). Как называется такая экономическая ситуация?

- а) монополия;
- б) олигополия;
- в) монопосония;
- г) монополист;
- д) олигарх.

21. В качестве «барьера» для проникновения в отрасль новых производителей могут служить:

- а) патенты;
- б) более низкие издержки крупного производства;
- в) законодательно оформленные исключительные права;
- г) лицензии;
- д) все, что перечислено, верно.

22. К основным чертам чисто рыночной экономики относят...

- а) директивное планирование
- б) свободную конкуренцию
- в) контроль государством производства и распределения продукции
- г) государственную собственность на экономические ресурсы

23. Субъектом собственности в праве могут быть

- а) только человек, личность или семья
- б) государство в лице органов управления
- в) люди, коллективы, органы управления
- г) любые живые существа

24. Собственность в экономическом смысле – это:

- а) закрепленные законом имущественные отношения
- б) отношения человека к благам
- в) материальное и нематериальное благо
- г) отношения между людьми по поводу экономических благ

25. Приватизация – это

- а) продажа или передача собственности частным лицам
- б) обмен государственной собственности на ваучеры

- в) переход от государственной собственности к коллективной
- г) передача собственности на средства производства рабочим

26. Частная собственность - юридически закрепленное за субъектом собственности право:

- а) владение каким-либо имуществом
- б) применение свойств какого-либо имущества
- в) владения, пользования и распоряжения каким-либо имуществом

27. Субъектом собственности является

- а) Петров И.С., фермер
- б) частное страховое общество
- в) здание МИ ВлГУ

28. Недвижимым объектом собственности признается:

- а) только земельные участки, недра и водные объекты
- б) земельные участки и все объекты, связанные с землей, а также другие специальные объекты, подлежащие государственной регистрации
- в) деньги

29. Объектом собственности является:

- а) гражданин Иванов И.И.
- б) земля под виноградником
- в) АО "Зарубежстройкомплект"

Блок «Уметь»

Тесты:

1. В приведенном ниже перечне отметьте типы экономических систем:

- а) продвинутая
- б) командная
- в) традиционная
- г) промышленная
- д) индустриальная
- е) рыночная
- ж) технотронная
- з) смешанная

Ответ: _____

2. Ниже приведен ряд терминов. Все из них, за исключением одного, относятся к понятию «рыночная экономика».

Конкуренция, частная собственность, свобода потребителя, предпринимательство, директивные цены, спрос.

Найдите и укажите термин, «выпадающий» из их ряда и относящийся к другому понятию.

Ответ: _____ .

3. Установите соответствие между типами экономических систем и характеризующими их признаками: к каждой позиции, данной в первом столбце, подберите соответствующую позицию из второго столбца.

	ПРИЗНАКИ		ТИПЫ ЭКОНОМИКИ
1)	свободная конкуренция	А)	рыночная
2)	цены определяет спрос и предложение	Б)	традиционная
3)	государство директивно руководит экономикой	В)	плановая
4)	преобладает натуральное хозяйство		

4. Установите соответствие между рынками товаров и их типами:

- 1) Рынок продуктов питания
- 2) Рынок сотовых телефонов
- 3) Рынок патентов
- 4) Рынок сельскохозяйственной продукции

- а) Совершенная конкуренция
- б) Монополистическая конкуренция
- в) Олигополия
- г) Монополия

5. _____ - это право производительно или лично потреблять вещь для удовлетворения собственных потребностей и интересов (впишите пропущенное слово).

6. _____ - это физическое обладание вещью (впишите пропущенное слово).

7. Право _____ вещью – это личное использование вещью (впишите пропущенное слово).

8. Правомочие _____ – это юридически обеспеченная возможность определить судьбу вещи путем совершения юридических актов в отношении этой вещи (впишите пропущенное слово).

9. Русский промышленник и меценат А. П. Бахрушин подарил собранную им коллекцию предметов русской старины и книг историческому музею. Пример иллюстрирует право собственника

- 1) владеть
- 2) распоряжаться
- 3) пользоваться
- 4) наследовать

10. Установите соответствие между формами собственности и их примерами:

- 1) семейная ферма
- 2) оборонный завод
- 3) сельскохозяйственный кооператив
- 4) приватизированная гражданином квартира
- 5) имущество дипломатических представительств за рубежом

- в) государственная собственность
- г) частная собственность

11. Найдите в приведенном ниже списке условия, необходимые для функционирования рыночной экономики.

- 1) высокие прибыли производителей
- 2) низкий уровень безработицы
- 3) конкуренция товаропроизводителей
- 4) обилие природных ресурсов
- 5) частная собственность
- 6) свободное ценообразование

12. Верны ли следующие суждения о спросе и предложении?

А. Спрос находится в прямой зависимости от цены товара.

Б. Предложение находится в обратной зависимости от цены товара.

- 1) верно только А
- 2) верно только Б
- 3) верны оба суждения
- 4) оба суждения неверны

13. Экономические отношения производителей и потребителей, основанные на взаимовыгодном обмене, — это _____ (впишите пропущенное слово)

14. Установите соответствие между типами экономических систем и необходимыми условиями их функционирования.

А) командно-административная

Б) рыночная

- 1) преобладание (господство) государственной собственности
- 2) свободное ценообразование
- 3) контроль государства за производством и распределением
- 4) экономическая самостоятельность производителей
- 5) конкуренция
- 6) централизованное планирование производства

Тема 3. Семейная экономика

Блок 1 «Знать»

Тесты:

1. К каким ресурсам семьи относится заработная плата родителей?

- а) к материальным
- б) к трудовым
- в) к финансовым
- г) информационным

2. Пенсия бабушки является для семьи:

- а) энергетическим ресурсом
- б) собственностью
- в) фиксированным доходом
- г) переменным доходом

3. Верны ли суждения о семейном бюджете:

- а) в семейном бюджете не учитываются деньги на карманные расходы;
- б) семейный бюджет всегда рассчитывается на один год?

- 1) верно только *а*
- 2) верно только *б*
- 3) верны оба суждения
- 4) оба суждения неверны

4. Верны ли суждения о доходах:

- а) доходы семьи делятся на фиксированные и переменные;
- б) доходы семьи делятся на обязательные и переменные?

- 1) верно только *а*
- 2) верно только *б*
- 3) верны оба суждения
- 4) оба суждения неверны

5. Как называется сумма денежных доходов членов семьи за определенный период?

- а) реальный доход
- б) совокупный доход
- в) номинальный доход
- г) валовой доход

6. К какой группе доходов семьи можно отнести картофель, выращенный на даче для потребления семьи?

- а) доход от собственности
- б) стоимость бесплатных услуг
- в) стоимость натуральных поступлений из ЛПХ
- г) доходы от продажи ЛПХ

7. К какому доходу относится оплата ежегодного отпуска на работе?:

- а) оплата труда
- б) смешанные доходы
- в) социальные трансферты
- г) доходы от самозанятости

8. Какие доходы освобождаются от налогообложения в РФ?

- а) премии и зарплата
- б) премии за достижения в науке
- в) доходы от совмещения работы
- г) рента за сданную квартиру
- д) нет правильного ответа

9. Укажите платежи, которые относятся к трансфертным:

- а) премия
- б) гонорар
- в) оплата труда
- г) стипендия

10. В какую группу можно отнести доходы врача, занимающегося частной практикой?

- а) доходы от самореализации
- б) предпринимательский доход
- в) смешанные доходы
- г) заработная плата

11. Какие товары не относятся к группе потребительских?

- а) алкоголь
- б) табак
- в) мебель
- г) продукты

12. Что не относится к инвестиционным товарам?

- а) телевизор
- б) красная икра
- в) компьютер
- г) шкаф

13. Что не относится к сбережениям населения?

- а) покупка золотых слитков
- б) счет в банке
- в) приобретение иностранной валюты
- г) покупка кухонной техники

14. С какой периодичностью определяется величина прожиточного минимума:

- а) раз в месяц
- б) раз в квартал
- в) раз в полгода
- г) раз в год
- д) нет правильного ответа

15. Как называют участника сделки, передающего товар в распоряжение партнера в долг?

- а) кредитор
- б) заемщик
- в) дебитор
- г) гарант

16. Что является одним из недостатков потребительского кредита?

- а) возможность немедленной покупки товара
- б) стимулирование потребительских расходов
- в) стимулирование неэкономных покупок
- г) выявление аккуратности потребителя

17. Какое из предложенных понятий не относится к основным измерениям полезности:

- а) общая полезность
- б) средняя полезность
- в) сравнительная полезность
- г) предельная полезность

18. Денежные средства, которые члены семьи получают от посторонних лиц или организаций и могут использовать для оплаты собственных расходов:

- а) Номинальный доход.
- б) Богатство семьи.
- в) Семейные доходы.
- г) Завещание.

18. Сумма денег, полученная гражданином или семьей в целом за определенный период времени:

- а) Номинальный доход.
- б) Богатство семьи.
- в) Семейные доходы.
- г) Завещание.

19. Объем товаров и услуг, который гражданин или семья может приобрести в определенный период времени на свои номинальные доходы:

- а) Номинальный доход.
- б) Богатство семьи.
- в) Семейные доходы.
- г) Завещание.
- д) Реальный доход.
- е) Прогрессивное налогообложение доходов.

20. Собственность семьи, свободная от долгов:

- а) Номинальный доход.
- б) Богатство семьи.
- в) Семейные доходы.
- г) Завещание.

21. Юридически оформленное дарение богатства, вступающее в силу после смерти его владельца:

- а) Номинальный доход.
- б) Богатство семьи.
- в) Семейные доходы.
- г) Завещание.
- д) Реальный доход.

22. Система изъятия доходов граждан в пользу государства, при которой доля изымаемых доходов прогрессивно возрастает по мере увеличения абсолютной величины личных доходов гражданина:

- а) Номинальный доход.
- б) Богатство семьи.
- в) Семейные доходы.
- г) Завещание.
- д) Реальный доход.
- е) Прогрессивное налогообложение доходов.

23. Денежная сумма, передаваемая государством беднейшим гражданам для повышения их уровня жизни и формируемая за счет средств, изъятых с помощью налогов у более состоятельных граждан:

- а) Социальный трансферт.
- б) Общественные блага.
- в) Слабости (несовершенства) рынка.
- г) Внешние (побочные) эффекты.

Блок 2 «Уметь»

Тесты:

1. Установите соответствие между приведенными понятиями и их определениями.

- 1) бюджет
- 2) процент
- 3) оптимизация

А) вознаграждение, которое банк выплачивает лицам, временно предоставляющим в его распоряжении денежные средства

Б) смета расходов и доходов

В) процесс выбора наилучшего варианта из возможных

2. Как изменился (увеличился или уменьшился) реальный доход семьи, если зарплата выросла на 30%, а рост цен составил 10%?

- а) 18%
- б) 19%
- в) 20%
- г) 10%

3. Вычислите среднедушевой доход в семье, если отец получает 45000р., мама – 30000р., пенсия бабушки – 8500р., если в семье еще два ребенка?

- а) 15000р.
- б) 16700р.
- в) 18750р.
- г) 17500р.

4. Как изменился (увеличился или уменьшился) реальный доход семьи, если зарплата выросла на 30%, а рост цен составил 10%?

5. Установите соответствие между понятиями, характеризующими экономику потребителя и их определениями:

- 1) доход
- 2) расход
- 3) налог
- 4) пособие

а) выраженные в денежной форме затраты

б) установленный государством обязательный сбор, уплачиваемый гражданами и предприятиями

в) денежная помощь государства лицам находящимся в тяжелом экономическом положении

г) денежные и иные ценности, полученные в результате деятельности

6. Семья имеет следующие доходы:

1. Зарплата папы-6000 рублей
2. Зарплата мамы-5000рублей
3. Детское пособие на 1 ребёнка- 200 рублей
4. Детское пособие на 2 ребёнка- 240 рублей.

Каков доход данной семьи?

7. Семья Петровых получает доход и от ведения личного подсобного хозяйства. Они держит корову, которая даёт условно 15 литров молока в день: 5 литров семья оставляет себе, а 10 литров продаёт по 60 рублей за литр. Каков доход семьи от продажи молока каждый день?

Тема 4. Товар и его стоимость

Блок 1 «Знать»

Тесты:

1.Товарное хозяйство – форма хозяйства, где продукты производятся:

- а) для обмена путем купли-продажи
- б) для удовлетворения общественных потребностей
- в) для удовлетворения потребностей самих участников процесса производства
- г) Для бартерного обмена
- д) Все ответы верны

2.Под общественным разделением труда понимается:

- а) выполнение каждым участником процесса производства определенных функциональных обязанностей
- б) специализация производителей на выработке одного какого-либо продукта
- в) обособление производителей друг от друга
- г) Выполнение каждым участником процесса производства одинаковых функций
- д) Нет верного ответа

3. В товарном хозяйстве определяющими мотивами поведения людей являются:

- а) деньги
- б) жажда наживы
- в) спрос и предложение
- г) удовлетворение потребностей общества
- д) прибыль

4.Товар - это:

- а) продукт человеческого труда, предназначенный для удовлетворения личных потребностей людей
- б) продукт человеческого труда, предназначенный для обмена путем купли-продажи
- в) продукт человеческого труда; предназначенный для удовлетворения общественных потребностей

5.Потребительная стоимость товара - это:

- а) свойство товара обмениваться на другие товары
- б) свойство товара удовлетворять личные потребности людей
- в) свойство товара удовлетворять производственные потребности

- г) затраты мускульной и нервной энергии на производство товара
- д) свойство товара удовлетворять потребности людей

6. Меновая стоимость - это:

- а) затраты мускульной и нервной энергии на производство товара
- б) свойство товара обмениваться на другие товары в определенных количественных пропорциях
- в) воплощенный в товаре общественный труд
- г) затраты на производство продукции, которые несет непосредственно производитель
- д) стоимость общественного блага

7. Величина стоимости определяется:

- а) индивидуальным рабочим временем
- б) индивидуальными затратами материальных и денежных средств
- в) общественно необходимым временем, затраченным на производство товара
- г) интенсивностью, труда
- д) Все ответы верны

8. Укажите правильное определение товарного производства:

- а) производство продуктов для непосредственного потребления производителя
- б) производство материальных благ для удовлетворения общественных потребностей
- в) производство продуктов для обмена путем купли-продажи
- г) нет верного ответа
- д) производство товаров и услуг

9. Что из ниже перечисленного является товаром?

- а) дары природы
- б) воздух
- в) продукт труда, предназначенный для обмена
- г) нет верного ответа
- д) полуфабрикаты внутризаводского оборота

10. Что такое потребительная стоимость товара?

- а) количество материала для изготовления данного товара
- б) способность товара обмениваться на другие товары
- в) способность удовлетворять какие-либо человеческие потребности
- г) предельная полезность
- д) Нет верного ответа

11. Какими затратами труда измеряется величина стоимости товара?

- а) общественно необходимыми затратами труда
- б) индивидуальными затратами труда того или иного производителя
- в) затраченным на производство товара конкретным трудом
- г) затратами овеществленного труда
- д) Все ответы верны

Блок 2 «Уметь»

Тесты:

1. Цену товара А снизили на 15%, а потом еще на 20%. Общий процент снижения цены составит _____.
2. Цена изделия составляла 1000 рублей и была снижена сначала на 10%, а затем еще на 20%. Окончательная цена товара _____ руб.
3. Товар А изготавливается 3 группами производителей. Первая группа затрачивает на производство каждой единицы товара 10 часов и производит 200 единиц изделий за определенное время, вторая группа тратит 12 часов и производит 160 единиц, третья – 8 часов и 240 единиц соответственно. Величина стоимости товара равна _____.
4. Меновое соотношение товаров А и В представляется как 2:3. Как оно изменится, если производительность труда в производстве товара В вырастет в 2 раза.
5. Меновое соотношение товаров А, В и С представляется как 4:5:9. Как оно изменится, если производительность труда в производстве товара А вырастет в 2 раза, интенсивность труда в производстве товара В увеличится в 3 раза, а стоимость товара С увеличится наполовину.
6. Стоимость двух мобильных телефонов в три раза выше, чем трех утюгов. Выразите меновую стоимость мобильного телефона.
7. Стоимость двух мобильных телефонов в три раза выше, чем трех утюгов. Выразите меновую стоимость утюгов.
8. Затраты производства на единицу продукции у товаропроизводителя Х в результате совершенствования оборудования сократились с 10 до 5 часов, общественно-необходимое время осталось 10 часов. Определите, как изменится доход товаропроизводителя на единицу продукции.
9. Бригада шахтёров перешла на другой участок работы, где содержание полезного вещества в породе в два раза меньше. Чтобы выполнить план бригада увеличила интенсивность добычи угля в 1,5 раза. Сколько будет стоить одна тонна и вся партия угля, если раньше за 6 часов работы бригада добывала 10 тонн угля.
10. Определите, как будут соотноситься стоимости пары ботинок и ювелирных изделий (например, кольца), созданных за равный по продолжительности рабочий день, если труд ювелира в три раза сложнее, чем труд сапожника.
11. За 8 часов работы рабочий произвел 24 изделия. Определите, сколько будет стоить одно изделий и вся партия, если производительность труда вырастет в три раза.
12. На производство товара А затрачивается 3 часа, товара В – 4,5 часа, товара С – 5 часов. Коэффициенты сложности труда соотносятся как 2:5:1. Чему равна стоимость каждого товара, если 1 час рабочего времени, затрачиваемый на изготовление товара С, выражается в 2 ден. ед.

Тема 5. Рыночный механизм. Рыночное равновесие

Блок 1 «Знать»

Тесты:

1. Объектами рынка могут быть:

- а) практически любые результаты человеческой деятельности, а также природные блага
- б) только результаты человеческой деятельности
- в) только природные блага
- г) сырье
- д) материалы

2. К неценовым факторам, влияющим на спрос, не относятся:

- а) цены на другие блага – блага-субституты и комплементарные блага
- б) вкусы потребителей
- в) доход потребителей
- г) изменения технологий производства
- д) ожидания потребителя

3. К неценовым фактором, влияющим на рыночное предложение, не относится:

- а) издержки производства, зависящие от цен на ресурсы
- б) ожидания продавцов
- в) сезонные колебания
- г) рост числа потребителей

4. Когда говорят, что существует излишек спроса на товар на рынке, предполагается, что:

- а) потребители спрашивают больше, чем необходимо
- б) величина предложения избыточна по сравнению со спросом
- в) цена будет иметь тенденцию к падению
- г) производители будут стремиться предлагать меньше
- д) рыночная цена ниже равновесной

5. Что из перечисленного ниже может быть причиной сдвига кривой предложения вправо?

- а) рост доходов потребителей
- б) рост цен субститутов
- в) субсидии правительства
- г) акцизный налог, введенный правительством
- д) технологические изменения, увеличившие издержки производства

6. Смещение кривой предложения DVD-проигрывателей отечественного производства влево могло быть вызвано:

- а) ростом цен на комплектующие изделия
- б) увеличением дотаций отечественным производителям DVD-проигрывателей
- в) введением улучшенной технологии производства
- г) снижением таможенных пошлин на импортные DVD-проигрыватели
- д) увеличением издержек производства, связанных с ростом цен на энергоресурсы

7. Смещение кривой спроса на нормальный товар влево может быть вызвано:

- а) ростом доходов покупателей
- б) ожиданиями роста темпов инфляции
- в) ростом цены на данный товар
- г) снижением цены на товар-субститут
- д) сменой предпочтений потребителей в связи с выходом данного товара из моды

8. Сдвиг кривой спроса на нормальный товар вправо может быть вызван:

- а) ростом доходов покупателей
- б) ожиданием нового витка инфляции
- в) снижением дотаций малообеспеченным слоям населения
- г) снижением цены на данный товар
- д) увеличением цены на товар-комплемент

9. В каких из перечисленных случаев изменяется величина спроса, а не спрос? Выберите все верные ответы.

- а) Люди стали покупать больше риса после того, как подорожала гречка
- б) Люди ожидают, что цены на автомашины вырастут после нового года. В результате в декабре были скуплены почти все машины в автосалонах
- в) Магазин обуви разместил рекламный ролик на TV. В результате продажи обуви значительно возросли
- г) После того, как государство директивно снизило цену бензина, на автозаправках появились очереди
- д) Магазин обуви проводит акцию: покупаете одну пару обуви - вторую получаете бесплатно. В результате акции обуви продано значительно больше

10. В каких из перечисленных случаев изменяется величина предложения, а не предложение?

- а) В данном году собран хороший урожай хурмы, ее продают на каждом углу.
- б) Высокие цены на брюкву стимулируют фермеров выращивать на продажу больше брюквы.
- в) Российские рыбаки должны платить дополнительные сборы в государственную казну при заходе в российские порты. В результате, многие из них не хотят продавать свой улов в России.
- г) государственная политика в данном случае повышает издержки рыбаков и сокращает предложение рыбы.
- д) Из-за низких цен на нефть некоторые нефтяные компании сокращают добычу нефти.

11. Что произойдет на рынке лекарства от гриппа в результате двух одновременных событий: начала эпидемии гриппа и введения государственных субсидий производителям лекарства? Выберите все подходящие варианты, предполагая, что рынок описывается типичной моделью спроса и предложения (кривая спроса имеет отрицательный наклон, кривая предложения имеет положительный наклон).

- а) В новой точке равновесия однозначно вырастет объем продаж.
- б) В новой точке равновесия однозначно снизится объем продаж.
- в) В новой точке равновесия однозначно повысится цена лекарства.
- г) Снизится предложение
- д) Вырастет спрос
- е) В новой точке равновесия однозначно снизится цена лекарства.

12. Эластичность спроса по цене изменяется под влиянием такого фактора, как...

- а) ... способность товара к длительному хранению
- б) ... принадлежность данного товара к предметам роскоши или товарам первой необходимости
- в) ... особенности производственного процесса
- г) ... наличие товаров-заменителей

13. Какое из следующих утверждений не относится к характеристике неэластичного спроса на товар:

- а) данный товар является для потребителей товаром первой необходимости
- б) относительное изменение объема спроса меньше, чем относительное изменение цены
- в) период времени, в течение которого предъявляется спрос, является очень коротким
- г) имеется большое число товаров-заменителей
- д) покупатели расходуют на его покупку незначительную долю своего дохода

14. Коэффициент ценовой эластичности спроса равен:

- а) ни одному из приведенных показателей
- б) изменению общей выручки (в %), деленному на увеличение объема спроса (в %)
- в) уменьшению общей выручки (в %), деленному на увеличение цены (в %)
- г) изменению объема спроса (в %), деленному на изменение цены (в %)
- д) уменьшению цены, деленному на увеличение объема спроса

15. Какое из указанных ниже значений коэффициента эластичности по доходу относится к товарам первой необходимости:

- а) 1
- б) больше 0, но меньше 1
- в) меньше 0
- г) ни одно из приведенных значений
- д) больше 1

16. Если любое количество товара продается по одинаковой цене, то спрос на этот товар является:

- а) спросом единичной эластичности
- б) абсолютно неэластичным
- в) абсолютно эластичным
- г) эластичным
- д) неэластичным

17. Какое из следующих утверждений не относится к характеристике эластичного спроса на товар:

- а) относительное изменение объема спроса больше, чем относительное изменение цены
- б) коэффициент ценовой эластичности меньше единицы
- в) общая выручка продавца растет, если цена уменьшается
- г) покупатели относительно чутко реагируют на изменения цены
- д) общая выручка продавца сокращается, если цена растет

18. Кривая абсолютно неэластичного спроса представляет собой:

- а) вертикальную линию
- б) прямую линию с отрицательным наклоном
- в) кривую линию
- г) горизонтальную линию
- д) кривую линию с положительным наклоном

19. Эластичность предложения зависит главным образом от:

- а) того, относится ли данный товар к предметам длительного пользования или текущего потребления
- б) числа товаров-заменителей данного продукта
- в) того, является ли данный товар предметом первой необходимости или роскоши
- г) периода времени, в течение которого продавцы могут приспособиться к изменениям цен
- д) доли дохода потребителя, направляемой на покупку данного товара

20. Неэластичный спрос означает, что:

- а) рост цены на 1% приводит к сокращению величины спроса менее чем на 1%
- б) рост цены на 1% приводит к сокращению величины спроса более чем на 1%
- в) ни одно из утверждений не является верным
- г) любое изменение цены не приводит к изменению общей выручки
- д) рост цены на 1% не влияет на величину спроса

21. Ценовая эластичность спроса будет выше:

- а) чем менее необходим товар потребителю
- б) ни в одном из перечисленных случаев
- в) на товары первой необходимости, чем на предметы роскоши
- г) в тех случаях, когда потребители используют данный товар с наибольшей пользой для себя
- д) чем больше альтернативные издержки производства товаров

22. Товар можно отнести к недоброкачественным, если:

- а) ценовая эластичность его спроса равна 1,3
- б) перекрестная эластичность его спроса равна $-0,7$
- в) перекрестная эластичность его спроса равна 0,1
- г) эластичность его спроса по доходу равна $-0,5$
- д) эластичность его спроса по доходу равна 1,3

23. Ценовая эластичность спроса будет расти с увеличением продолжительности периода, в течение которого предъявляется спрос, так как:

- а) потребители смогут приобрести товары-заменители
- б) все ответы верны
- в) вырастет общий уровень цен
- г) доходы потребителей увеличатся
- д) произойдет сдвиг вправо кривой спроса

24. Сокращение предложения товара ведет к увеличению:

- а) спроса на этот товар
- б) общей выручки продавца, если спрос на товар является неэластичным по доходу
- в) спроса на взаимодополняемые товары

- г) спроса на взаимозаменяемые товары
- д) общей выручки продавца, если спрос на товар является эластичным по цене

25. Если уменьшение цены на 5% приводит к снижению объема предложения на 8%, то данное предложение:

- а) неэластично
- б) абсолютно неэластично
- в) единичной эластичности
- г) абсолютно эластично
- д) эластично

26. Если спрос на сельскохозяйственную продукцию неэластичен, то при хорошем урожае доходы фермеров:

- а) сократятся, так как относительное снижение цен окажется большим, чем относительное увеличение объема продаж
- б) вырастут, так как произойдет увеличение цен на продукцию, вызванное повышением спроса
- в) останутся неизменными, так как относительное увеличение объема продаж будет равно относительному снижению цен не представляется возможным ответить на вопрос.
- г) вырастут, так как увеличится объем продаваемой продукции

27. Если однопроцентное сокращение цены на товар приводит к двухпроцентному увеличению объема спроса на него, то этот спрос:

- а) абсолютно неэластичный
- б) абсолютно эластичный
- в) единичной эластичности
- г) неэластичный
- д) эластичный

28. Производитель товара X снизил цену на свой товар на 5%, в результате чего объем продаж вырос на 4%. Спрос на товар X является:

- а) неэластичным
- б) абсолютно эластичным
- в) спросом единичной эластичности
- г) не представляется возможным ответить на вопрос
- д) эластичным

Блок 2 «Уметь»

Тесты:

1. При росте доходов населения за рассматриваемый период с 20 до 50 ден. ед. спрос на бытовую технику увеличился с 5 до 14 ден. ед. Определите к каким товарам относится бытовая техника на основании рассчитанного коэффициента эластичности по доходу.

2. Соотношение цены товара и величины спроса задано функцией $Q = 38 - 3p$. Определить коэффициент эластичности при цене 5 рублей и 7 рублей.

3. Соотношение цены товара и величины спроса задано функцией $Q_d = 21 - 5P$. При какой цене спрос на товар будет неэластичным ($E_p = 0,9$).

4. Соотношение цены товара и величины спроса задано функцией $Q_d = 21 - 5P$. При какой цене спрос на товар будет эластичным ($E_p = 1,1$).

5. Определите эластичность спроса на парфюмерное изделие, если **цена** снизилась на 5%, а выручка при этом увеличилась на 12%.

6. Даны уравнение функции спроса на товар x : $Q_d = 8 - 2P$ и уравнение функции предложения $Q_s = -7 + 3P$. Равновесная цена этого товара...

а) ... 2 руб.

б) ... 5 руб.

в) ... 9 руб.

г) ... 3 руб.

7. На рынке некоторого товара Y функция спроса задана как $Q_d = 300 - 3P$, а функция предложения задана как $Q_s = 2P - 50$, где P – цена товара Y , Q_d – величина спроса на него, а Q_s – величина предложения. Рассчитайте равновесную цену, которая установится на этом рынке.

8. Функция спроса выражена уравнением $Q_d = 15 - 2P$, а функция предложения $Q_s = 6 + P$. Определите размер дефицита/излишка, если P равна 2.

9. В таблице представлены данные, характеризующие различные ситуации на рынке потребительских товаров.

P	Q_d	Q_s
350	3	9
300	4	7
250	5	5
200	7	4
150	9	3
100	14	2

Если цена на рынке этих товаров равна 150 денежных единиц, что характерно для данного рынка – излишки или дефицит? Определите их объем.

10. В таблице представлены данные, характеризующие различные ситуации на рынке потребительских товаров.

P	Q_d	Q_s
350	3	9
300	4	7
250	5	5
200	7	4
150	9	3
100	14	2

Если цена на рынке этих товаров равна 350 денежных единиц, что характерно для данного рынка – излишки или дефицит? Определите их объем.

11. В таблице представлены данные, характеризующие различные ситуации на рынке потребительских товаров.

P	Q_D	Q_S
350	3	9
300	4	7
250	5	5
200	7	4
150	9	3
100	14	2

Чему равна равновесная цена и равновесный объем на этом рынке? В результате снижения потребительских расходов потребление этих товаров снизилось на 3 единицы при каждом уровне цен. Каковы будут равновесная цена и равновесный объем производства?

12. Функция спроса имеет вид $D = 30 - 5P$, а функция предложения $S = 9 + 2P$. Определите равновесный объем продаж.

13. Кривая спроса на товар описывается уравнением $Q_D = 800 - 2P$, а кривая предложения – $Q_S = 200 + 4P$. Найдите равновесный объем продукции Q_E .

14. Кривая спроса на товар описывается уравнением $Q_D = 600 - 2P$, а кривая предложения – $Q_S = 200 + 3P$. Найдите равновесную цену P_E .

Тема 6. Фирма

Блок 1 «Знать»

Тесты:

1. Коммерческая организация, приобретающая факторы производства с целью создания и продажи благ и получения на этой основе прибыли:

- а) Естественная норма безработицы.
- б) Чистая прибыль.
- в) Фирма.
- г) Обязательства.

2. Человек, который на свои и заемные средства и под свой риск создает фирму, чтобы, соединяя производственные ресурсы, создавать блага, продажа которых принесет ему прибыль:

- а) Предприниматель.
- б) Чистая прибыль.
- в) Фирма.
- г) Обязательства.

3. Часть прибыли, остающаяся в распоряжении хозяйственной организации после уплаты налогов и других обязательных платежей:

- а) Естественная норма безработицы.
- б) Чистая прибыль.
- в) Фирма.
- г) Обязательства.

4. Действия, которые должник должен совершить в пользу кредитора, например, передать имущество, выполнить определенную работу или выплатить оговоренную сумму денег:

- а) Естественная норма безработицы.
- б) Чистая прибыль.
- в) Фирма.
- г) Обязательства.
- д) Предприниматель.

5. Общее название нескольких форм хозяйственных организаций, предполагающих объединение собственных средств нескольких участников ради совместного ведения дел:

- а) Естественная норма безработицы.
- б) Чистая прибыль.
- в) Фирма.
- г) Обязательства.
- д) Предприниматель.
- е) Товарищество.

6. Хозяйственная организация, совладельцами которой может быть неограниченное число владельцев денежных средств. При этом каждый из них имеет право на часть имущества и доходов, а некоторые – и на участие в управлении им:

- а) Экономические затраты.
- б) Товарищество.
- в) Общие затраты.
- г) Запасы.
- д) Акционерное общество.
- е) Бухгалтерские затраты.

7. Расходы на приобретение всего объема ресурсов, который фирма использована для организации производства определенного объема продукции:

- а) Экономические затраты.
- б) Товарищество.
- в) Общие затраты.
- г) Запасы.

8. Общие затраты фирмы на производство товаров или услуг в течение некоторого периода времени, определенные с учетом внутренних затрат:

- а) Экономические затраты.
- б) Товарищество.
- в) Общие затраты.

9. Общая сумма внешних затрат фирмы на производство товаров или услуг в течение определенного периода времени:

- а) Экономические затраты.
- б) Товарищество.
- в) Общие затраты.
- г) Запасы.
- д) Акционерное общество.
- е) Бухгалтерские затраты.

10. Объем ресурсов производства, который фирма хранит на своих складах до момента, когда они потребуются для производства товаров или услуг:

- а) Экономические затраты.
- б) Товарищество.
- в) Общие затраты.
- г) Запасы.
- д) Акционерное общество.

11. Затраты, которые нельзя изменить в краткосрочном периоде, и потому они остаются одними и теми же при небольших изменениях объемов производства товаров или услуг:

- а) Переменные затраты.
- б) Маржинальные (предельные) затраты.
- в) Постоянные затраты.
- г) Средние затраты.

12. Затраты, которые можно изменить в краткосрочном периоде, и потому они растут (сокращаются) при любом увеличении (уменьшении) объемов производства:

- а) Переменные затраты.
- б) Маржинальные (предельные) затраты.
- в) Постоянные затраты.
- г) Средние затраты.

13. Затраты на изготовление единицы продукции, получаемые делением общей суммы затрат за определенный период времени на объем изготовленной за этот период времени продукции:

- а) Переменные затраты.
- б) Маржинальные (предельные) затраты.
- в) Постоянные затраты.
- г) Средние затраты.

14. Реальная сумма затрат, в которую обходится изготовление каждой дополнительной единицы продукции:

- а) Переменные затраты.
- б) Маржинальные (предельные) затраты.
- в) Постоянные затраты.
- г) Средние затраты.

15. Краткосрочный период в теории фирмы означает период времени, в течение которого:

- а) фирма не может изменить объем использования некоторых (как минимум – одного) факторов производства
- б) фирма не может изменить объем использования ни одного из ресурсов
- в) производительность всех используемых фирмой ресурсов остается постоянной
- г) фирма может изменить объем использования всех факторов производства

16. Закон убывающей предельной производительности ресурса утверждает, что:

- а) предельный продукт всегда является убывающим

- б) в долгосрочном периоде начиная с некоторого момента увеличение количества используемого ресурса приводит к снижению его производительности
- в) в краткосрочном периоде начиная с некоторого момента каждая последующая единица фактора производства приносит все меньше отдачи
- г) значения среднего продукта труда всегда превышают значения предельного продукта труда

17. Какие из перечисленных затрат относятся к постоянным (выберите все варианты):

- а) затраты на сырье и материалы
- б) арендная плата за производственные помещения
- в) затраты на освещение и отопление помещений
- г) сдельная заработная плата основных работников в цехах

18. Если при производстве ряда различных изделий на одной фирме издержки на единицу продукции значительно ниже, чем в случае, когда они производятся на разных фирмах, причиной этого является:

- а) повышение предельной полезности каждого вида изделия для потребителей
- б) постоянный эффект масштаба
- в) снижение предельной полезности каждого вида изделия для потребителей
- г) отрицательный эффект масштаба
- д) экономия на разнообразии

19. Если с увеличением размера фирмы объем выпуска растет быстрее издержек и издержки на единицу продукции снижаются, то наблюдается:

- а) экономия на масштабе производства
- б) экономия на разнообразии
- в) единичный эффект масштаба
- г) отрицательный эффект масштаба
- д) постоянный эффект масштаба

20. Найдите единственное верное утверждение (если БП - бухгалтерская прибыль, ЭП - экономическая прибыль, БИ - бухгалтерские издержки, и ЭИ - экономические издержки):

- а) БП меньше, чем ЭП, а БИ меньше, чем ЭИ.
- б) БП больше, чем ЭП, а БИ больше, чем ЭИ.
- в) БП больше, чем ЭП, а БИ меньше, чем ЭИ.
- г) БП меньше, чем ЭП, а БИ больше, чем ЭИ.

Блок 1 «Уметь»

Тесты:

1. Если при выпуске 100 единиц товара валовые издержки предприятия составили 1620 ден.ед., а при выпуске 120 единиц товара – 1680 ден.ед., то предельные издержки равны _____ ден.ед.

- а) 16,2
- б) 3
- в) 14
- г) 6

2. Если фирма производит 5 ед. продукции по цене 80 ден.ед. каждая, а $AVC=75$ ден.ед., то экономическая прибыль (убыток) на единицу продукции составляет _____ ден.ед.

- а) 48
- б) 60
- в) -15
- г) -5

3. Издержки производства на всю продукцию $TC=0,1q^3-2q^2+30q+50$. Это означает, что общие переменные издержки при объеме выпуска 5 шт. составят _____ ден.ед.

- а) 125
- б) 110
- в) 132,5
- г) 112,5

4. Пять работников могут все вместе произвести 210 единиц продукции, а шесть работников могут все вместе произвести 240 единиц продукции. Предельный продукт шестого работника и средний продукт шести работников равны соответственно:

- а) 40 и 10
- б) 30 и 40
- в) 30 и 10
- г) нет верного ответа

5. Предположим, у некоторой фирмы для того, чтобы цена продукции превысила средние общие издержки (ATC), эта цена должна быть не ниже, чем 500 руб. за единицу. Для того, чтобы цена превысила средние переменные издержки производства (AVC), она должна быть не ниже, чем 450 руб. за единицу. Если фактически а рынке установилась цена 300 руб. за единицу продукции (и фирма никак не может это изменить), то... (выберите все подходящие ответы)

- а) ...при цене 300 руб. за единицу фирма получает убыток
- б) ...при цене 300 руб. за единицу фирма работает с положительной прибылью.
- в) ...фирме может быть целесообразно продолжить работу в краткосрочном периоде.
- г) ...фирме НЕцелесообразно продолжать работу в долгосрочном периоде.
- д) ...фирме целесообразно немедленно прекратить производство.

6. Известно, что в течение года бухгалтерская прибыль кофейной компании «Кофейный дом» составила 150000 рублей. Управляя фирмой, предприниматель данной компании упускает зарплату в 90000 рублей в год, которую мог бы получить, работая в другом месте. Известно также, что предприниматель располагал суммой 200000 рублей собственных средств, которые он вложил в компанию. Предполагая, что он упускает 10% годовых с этих средств, определите экономическую прибыль.

- а) 0000 рублей
- б) 70000 рублей
- в) 40000 рублей
- г) 160000 рублей
- д) 140000 рублей

7. Зависимость между объемом выпуска фирмы (Q) и ее общими издержками (TC) представлена в таблице:

Выпуск (Q), шт.	Общие издержки (ТС), руб.
0	100
1	300
2	400
3	480
4	600
5	900

Постоянные издержки производства трех единиц продукции и предельные издержки производства третьей единицы продукции у данной фирмы равны соответственно:

- а) 300, 160
- б) 100, 80
- в) 120, 80
- г) 380, 160

8. Фирма выпускает 100 единиц продукции. При этом общие издержки фирмы составляют 800 долл., из них переменные издержки составляют 200 долл. Рассчитайте средние постоянные издержки фирмы при выпуске ста единиц продукции

9. Средний продукт девяти работников составляет по 50 единиц продукции на каждого работника (т.е. $AP(9)=50$). Средний продукт десяти работников составляет по 49 единиц продукции на каждого работника (т.е. $AP(10)=49$). Чему равен предельный продукт десятого работника?

10. Функция средних переменных затрат имеет вид: $AVC = 100 + 20Q$. Постоянные затраты равны 120. Найти алгебраическое выражение для функций общих затрат.

11. Зависимость между объемом выпуска фирмы (Q) и ее общими издержками (ТС) представлена в таблице.

Выпуск (Q), шт.	Общие издержки (ТС), руб.
0	100
1	300
2	400
3	480
4	600
5	900

При каком объеме выпуска фирма достигнет максимальной прибыли, если цена каждой единицы продукции постоянна и равна 200 руб./шт.?

12. В таблице приведены ожидаемые величины предельной выручки и предельных издержек гипотетической фирмы при различных объемах выпуска продукции.

Выпуск	0	1	2	3	4	5	6	7	8	9
MR	-	75	75	75	75	75	75	75	75	75
MC	-	90	75	30	20	30	45	71	76	90

Сколько единиц продукции Вы посоветуете выпустить и продать фирме для того, чтобы получить максимальную прибыль?

13. На конкурентном рынке действуют 500 фирм. Каждая фирма имеет предельные затраты при производстве 6 единиц продукции в месяц — 12 руб., 7 ед. — 13 руб., 8 ед. — 15 руб. Определите объем отраслевого выпуска в месяц, если известно, что рыночная цена составляет 13 руб.

14. Цена на совершенно конкурентном рынке составляет — 150 руб. Средние переменные издержки фирмы (AVC) составляют — 45 руб.; средние постоянные издержки (AFC) — 25 руб.; объем производства фирмы — 500 ед. продукции. Определить предельный доход (MR) и прибыль фирмы.

15. Можно ли считать целесообразным функционирование фирмы, если известны следующие параметры: $Q = 500$; $TR = 3000$; $TFC = 500$; $AC = 5$?

Тема 7. Роль государства в экономике

Блок 1 «Знать»

Тесты:

1. Неспособность рыночных механизмов решать некоторые экономические задачи вообще или наилучшим образом:

- а) Социальный трансферт.
- б) Общественные блага.
- в) Слабости (несовершенства) рынка.
- г) Внешние (побочные) эффекты.

2. Ситуация, когда на кого-то из продавцов или покупателей приходится такая большая доля общего объема продаж или покупок на конкретном товарном рынке, что он может влиять на формирование цен и условий сделок в большей мере, чем остальные участники этого рынка:

- а) Социальный трансферт.
- б) Общественные блага.
- в) Слабости (несовершенства) рынка.
- г) Внешние (побочные) эффекты.
- д) Монополизация рынка.
- е) Финансы.

3. Товары или услуги, которыми люди пользуются совместно и которые не могут быть закреплены в чьей-то частной собственности:

- а) Социальный трансферт.
- б) Общественные блага.
- в) Слабости (несовершенства) рынка.
- г) Внешние (побочные) эффекты.

4. Ущерб (или выгода) от производства какого-либо блага, который приходится нести (или которую можно получить) людям или фирмам, непосредственно не участвующим в купле-продаже этого блага:

- а) Социальный трансферт.
- б) Общественные блага.
- в) Слабости (несовершенства) рынка.
- г) Внешние (побочные) эффекты.
- д) Монополизация рынка.

5. Управление денежными поступлениями и платежами семьи, фирмы, населенного пункта или страны в целом:

- а) Социальный трансферт.
- б) Общественные блага.
- в) Слабости (несовершенства) рынка.
- г) Внешние (побочные) эффекты.
- д) Монополизация рынка.
- е) Финансы.

6. Определенный законодательством страны механизм изъятия части доходов граждан и фирм в пользу государства для оплаты расходов федеральных и местных органов власти:

- а) Пошлина.
- б) Налогообложение.
- в) Бюджет.
- г) Косвенный налог.
- д) Дефицит государственного бюджета.

7. Налоговый платеж, который вносится гражданином не прямо в государственную казну, а сначала накапливается у продавцов определенных товаров, которые затем и перечисляют собравшиеся у них суммы налогов государству:

- а) Пошлина.
- б) Налогообложение.
- в) Бюджет.
- г) Косвенный налог.
- д) Дефицит государственного бюджета.

8. Налог, взимаемый с покупателя при приобретении некоторых видов товаров и устанавливаемый обычно в процентах к цене этого товара:

- а) Пошлина.
- б) Налогообложение.
- в) Бюджет.
- г) Косвенный налог.
- д) Дефицит государственного бюджета.
- е) Акциз.

9. Плата, взимаемая государством с граждан и хозяйственных организаций за оказание им определенного вида услуг:

- а) Пошлина.
- б) Налогообложение.
- в) Бюджет.
- г) Косвенный налог.
- д) Дефицит государственного бюджета.

10. Свободный план сбора доходов и использования полученных средств на покрытие расходов федеральных или местных органов государственной власти:

- а) Пошлина.
- б) Налогообложение.
- в) Бюджет.
- г) Косвенный налог.

11. Финансовая ситуация, возникающая, когда государство намечает осуществить расходы на сумму большую, чем может реально получить доходов за счет всех видов налогов и платежей:

- а) Пошлина.
- б) Налогообложение.
- в) Бюджет.
- г) Косвенный налог.
- д) Дефицит государственного бюджета.
- е) Акциз.

12. Сфера деятельности, доходы от которой укрываются от налогообложения:

- а) «Теневая экономика».
- б) Налогообложение.
- в) Ценные государственные бумаги.
- г) Косвенный налог.

13. Обязательства государства вернуть одолженную сумму плюс процент за использование этих денег:

- а) «Теневая экономика».
- б) Налогообложение.
- в) Ценные государственные бумаги.
- г) Косвенный налог.

14. Сумма ссуд, взятых государственными органами и еще не возвращенных кредиторами:

- а) «Теневая экономика».
- б) Налогообложение.
- в) Ценные государственные бумаги.
- г) Косвенный налог.
- д) Государственный долг.

15. Бюджетная политика государства регулирует

- а) кредитование предприятий
- б) внешнюю торговлю
- в) объемы денежной массы в обращении
- г) государственные расходы

16. Что из перечисленного относится к мерам денежно-кредитного регулирования экономики?

- а) регулирование налогообложения
- б) перепродажа ценных бумаг
- в) оформление лицензий на частные услуги
- г) изменение ставки банковских резервов

17. Налоговая политика государства направлена на

- а) регулирование объема денежной массы в обращении
- б) увеличение числа товарных бирж
- в) снижение социальных потребностей
- г) перераспределение доходов

18. Российское правительство использует продажу крупных объектов государственной собственности в частные руки как дополнительный источник государственных доходов. Какую политику государства иллюстрирует данный факт?

- а) экономической стабилизации
- б) обеспечения занятости
- в) бюджетную
- г) денежно-кредитную.

19. Правительство, снижая налоги, ставит задачу

- а) устранить дефицит бюджета
- б) способствовать подъему производства
- в) уменьшить потребление
- г) увеличить производительность труда.

20. Верны ли следующие суждения о причинах дефицита государственного бюджета?
А) Дефицит государственного бюджета возникает в результате превышения расходов над доходами.

Б) Дефицит государственного бюджета всегда является следствием экономического кризиса.

- 1) верно только А
- 2) верно только Б
- 3) верны оба суждения
- 4) оба суждения неверны

21. Госбюджет – это:

- а) все источники доходов государства в сумме
- б) баланс доходов и расходов государства
- в) все расходы государства за год, закрепленные законом
- г) нет однозначного ответа

22. Какую из перечисленных функций не призван выполнять госбюджет?

- а) эмиссионную
- б) регулирующую
- в) распределительную
- г) контрольную

23. Расходная часть госбюджета предназначена:

- а) для финансирования общегосударственных инвестиционных и экономических программ
- б) для развития производственной и социальной инфраструктуры
- в) для поддержания всех убыточных предприятий
- г) верно а) и б)

24. Государственный долг - это...

- а) сумма дефицитов государственного бюджета (за вычетом суммы излишков государственного бюджета), накопленная к настоящему моменту
- б) превышение расходной части годового государственного бюджета над его доходной частью
- в) сумма задолженности государства другим странам
- г) сумма задолженности государства банкам и другим финансовым институтам

25. Первичный дефицит государственного бюджета равен:
- а) разнице между доходами и расходами государственного бюджета
 - б) величине государственного долга
 - в) сумме государственных займов в бюджетном году
 - г) сальдо государственного бюджета без учета расходов на выплату процентов
26. Государственный долг - это сумма:
- а) бюджетных дефицитов за вычетом бюджетных излишков
 - б) бюджетных дефицитов
 - в) расходов на оборону
 - г) государственных расходов
27. Одна из реальных проблем государственного долга заключается в том, что:
- а) часть национального продукта уходит за пределы страны
 - б) возрастают стимулы повышения эффективности производства
 - в) сокращает неравенство в доходах
 - г) возрастает доля сбережений при всех уровнях располагаемого дохода

Блок «Уметь»

Тесты:

1. Установите соответствие:

- а) косвенные налоги, которые устанавливаются на ограниченный круг товаров, как правило, характеризующихся высокой доходностью и массовостью потребления
- б) юридические и физические лица, которые в соответствии с законом обязаны уплачивать налоги
- в) обязательный, индивидуально безвозмездный платеж, взимаемый с организаций и физических лиц в форме отчуждения принадлежащих им на праве собственности, хозяйственного ведения или оперативного управления денежных средств, в целях финансового обеспечения деятельности государства и (или) муниципальных образований
- г) официальное заявление налогоплательщика о полученных им подлежащих налогообложению доходах за определенный период времени и распространяющихся на них налоговых скидках и льготах
- д) совокупность налогов, сборов, пошлин и других платежей, взимаемых в установленном порядке с плательщиков (юридических и физических лиц) на всей территории страны
- е) виды обязательных налогов (платежей), которые вносятся предприятиями и гражданами в порядке оплаты услуг, оказываемых им государственными органами
- ж) основной вид прямых налогов, взимаемых в виде процента с доходов юридических и физических лиц

- 1) налоговая декларация
- 2) сборы
- 3) акцизы
- 4) налог
- 5) налогоплательщики
- 6) налоговая система РФ

2. Если с дохода в 1000 ден. ед. выплачивается налог в 100 ден. ед., с дохода в 10000 ден. ед. налог составляет 2000 ден. ед., то налоговая система по характеру начисления налога является:

- а) прогрессивной
- б) регрессивной
- в) пропорциональной
- г) фиксированной

3. Если общие поступления в государственный бюджет за год составят 1059 трлн. р., а расходы - 1151 трлн. р., то возникнет...

- а) бюджетный дефицит, снизятся объемы экспорта
- б) бюджетный дефицит, государственный долг будет расти
- в) бюджетный избыток, государственный долг будет расти
- г) бюджетный избыток, государственный долг будет снижаться

4. Доходы государственного бюджета в текущем году составили 28 млрд.долларов, а государственные расходы составили 28 млрд. долларов. Состояние бюджета характеризуется тем, что ...

- а) профицит равен 28 млрд. долларов;
- б) бюджет является сбалансированным;
- в) дефицит равен 28 млрд. долларов;
- г) такая ситуация является недостижимой.

5. В некотором государстве бюджет состоит из следующих статей: содержания армии – 140 ден.ед., проведение экономических реформ – 200 ден.ед., налоги – 560 ден. ед., доходы от внешней торговли – 150 ден.ед., материальное обеспечение внешней политики – 50 ден.ед., инвестиции в инфраструктуру – 50 ден.ед.; расходы на образование, здравоохранение – 600 ден.ед., таможенные пошлины – 200 ден.ед., платежи по госдолгу – 80 ден.ед., доходы от госсобственности – 20 ден.ед. Определите доходы бюджета.

6. В некотором государстве бюджет состоит из следующих статей: содержания армии – 140 ден.ед., проведение экономических реформ – 200 ден.ед., налоги – 560 ден. ед., доходы от внешней торговли – 150 ден.ед., материальное обеспечение внешней политики – 50 ден.ед., инвестиции в инфраструктуру – 50 ден.ед.; расходы на образование, здравоохранение – 600 ден.ед., таможенные пошлины – 200 ден.ед., платежи по госдолгу – 80 ден.ед., доходы от госсобственности – 20 ден.ед. Определите расходы бюджета.

7. Государственные расходы на экономику составляют 5000 ден. ед., налоги поступили в размере 7000 ден. ед. Трансферты населению составляют 1100 ден. ед. Государственный долг составляет 9000 ден. ед., по нему государство выплачивает ежегодно 10 %. Определите состояние государственного бюджета.

8. В 2015 году в стране X собрали налогов в размере 35 млн у. е., таможенные сборы составили 12 млн у. е., неналоговые поступления в бюджет составили 20 млн у. е. В этом же году государственные закупки товаров и услуг составили 38,4 млн у. е., трансферты 14,7 млн у. е., проценты по государственному долгу 17,6 млн у. е. Определите состояние государственного бюджета.

9. Государственные расходы на ВВП равны 500 у. е., налоги составляют 0,4 Y, трансферты – 0,2Y. Государственный долг страны 1000 у. е., ставка процента по государственному долгу 10 % годовых. Определите сальдо бюджета, если в стране создан ВВП в размере 2000 у. е.

10. Государственные расходы на ВВП равны 7000 у. е., налоги составляют 0,6Y, трансферты – 0,25Y. Государственный долг страны 10000 у. е., ставка процента по государственному долгу 15% годовых. Определите структурный и циклический дефицит, если в стране создан ВВП в размере 20000 у. е., потенциальный ВВП составляет 25000 у. е.

11. Государственный долг страны на начало года составлял 2000 у. е., ставка уплачиваемого процента по гос. долгу составляет 8 % годовых. Расходы государства на ВВП за текущий год равнялись 1500 ден. ед., трансферты – 20 % ВВП. Доходы государственного бюджета равны 40 % ВВП. Определите бремя долга на конец года, если созданный в стране ВВП составляет 5000 у. е.

Тема 8. Показатели экономического роста. Экономические циклы

Блок 1 «Знать»

Тесты:

1. Какой показатель определяется как совокупная рыночная стоимость товаров и услуг, произведенных в стране во всех отраслях экономики?

- а) валовой внутренний продукт
- б) валовой национальный доход
- в) валовой национальный располагаемый доход
- г) индекс потребительских цен материалоемкость

2. При использовании метода расчета ВВП по расходам учитывается:

- а) заработная плата работников
- б) чистый экспорт
- в) прибыль корпораций
- г) рентные платежи

3. Совокупная рыночная стоимость всех произведенных в стране за год конечных товаров и услуг:

- а) Международная специализация.
- б) Приватизационный чек (ваучер).
- в) Валовый продукт.
- г) Приватизация.

4. Устойчивое увеличение год от года производственных возможностей страны:

- а) Капиталовооруженность труда.
- б) Резервные требования.
- в) Человеческий капитал.
- г) Депозитный мультипликатор.
- д) Экстенсивный рост.
- е) Экономический рост.

5. Увеличение производственных возможностей страны за счет расширения масштабов использования ресурсов:

- а) Капиталовооруженность труда.
- б) Резервные требования.
- в) Человеческий капитал.
- г) Депозитный мультипликатор.
- д) Экстенсивный рост.
- е) Экономический рост.

6. Увеличение производственных возможностей страны за счет более рационального использования того же, что и прежде, объема ресурсов:

- а) Принцип абсолютного преимущества.
- б) Экономические циклы.
- в) Экспорт.
- г) Экономическое развитие.
- д) Импорт.
- е) Интенсивный рост.

7. Сочетание экономического роста и качественных изменений в условиях и организации хозяйственной жизни страны:

- а) Принцип абсолютного преимущества.
- б) Экономические циклы.
- в) Экспорт.
- г) Экономическое развитие.
- д) Импорт.

8. Период времени, в течение которого экономика страны проходит две основные фазы: подъём и спад:

- а) Принцип абсолютного преимущества.
- б) Экономические циклы.
- в) Экспорт.
- г) Экономическое развитие.

9. В модели кругооборота доходов и расходов в национальном хозяйстве:

- а) фигурирует производительный класс, бесплодный класс и класс собственников
- б) все общественное производство делится на два подразделения: производство средств производства и производство предметов потребления
- в) основным звеном является государство
- г) движение доходов и расходов опосредуется рынком ресурсов и рынком благ

10. Что такое валовой внутренний продукт (ВВП)?

- а) сумма всех произведенных товаров и услуг
- б) сумма всех реализованных товаров и услуг
- в) сумма всех готовых товаров и услуг
- г) рыночная стоимость всех конечных товаров и услуг

11. Валовой внутренний продукт измеряется:

- а) в основных ценах
- б) в ценах производителя
- в) в рыночных ценах

г) в экспортных ценах

12. Номинальный ВВП представляет собой стоимость товаров и услуг, измеренную:

- а) в текущих ценах
- б) в реальных ценах
- в) в ценах базисного периода
- г) в ценах предшествующего периода

13. Дефлятор ВВП:

- а) равен отношению номинального ВВП к реальному ВВП
- б) равен отношению реального ВВП к номинальному ВВП
- в) уменьшается при ускорении инфляции

14. Какой из указанных ниже доходов или расходов не учитывается при подсчете ВВП данного года?

- а) арендная плата за сдачу квартиры
- б) покупка облигаций автомобильной компании
- в) рост запасов компании
- г) заработная плата прислуги

15. Располагаемый доход - это:

- а) личный доход минус индивидуальные налоги и неналоговые платежи
- б) сумма, включающая заработную плату, жалованье, ренту и доход в форме процента на капитал минус налог на личный доход
- в) зарплата и жалованье, доход в форме процента на капитал минус налог на личный доход

16. Для определения величины национального дохода надо:

- а) вычесть из величины ВВП сумму косвенных налогов
- б) уменьшить величину ВВП на сумму износа используемых основных фондов
- в) вычесть из величины ВВП сумму амортизационных отчислений за данный период, сумму косвенных налогов и объем государственных субсидий
- г) прибавить к ВВП сумму государственных социальных трансфертных платежей

17. Гражданин России временно работает в США, в американской частной фирме. Его доходы включаются:

- а) в валовой национальный продукт России и валовой внутренний продукт США
- б) в ВВП России и ВВП США
- в) в ВВП России и ВВП США
- г) в ВВП США и ВВП США

18. ВВП не включает:

- а) продукцию, произведенную внутри страны национальным капиталом
- б) поступление из-за рубежа, связанные с факторными доходами
- в) материальные и нематериальные услуги, оказанные внутри страны
- г) продукцию, произведенную внутри страны иностранным капиталом

19. Величина ВВП зависит от:

- а) количества произведенных благ
- б) количества использованных при производстве благ ресурсов

- в) количества произведенных благ и их цен
- г) динамики цен

20. Из перечисленного включается в состав ВВП:

- а) покупка новых ценных бумаг
- б) стоимость нового учебника в книжном магазине
- в) денежная сумма, полученная студентом от родителей

21. Номинальный ВВП представляет собой стоимость товаров и услуг, измеренную в:

- а) текущих ценах
- б) реальных ценах
- в) ценах базисного периода
- г) ценах предшествующего периода

22. Потенциальный ВВП измеряется:

- а) объемом производства, соответствующим уровню потенциальных потребностей населения и всех хозяйствующих субъектов страны
- б) объемом продукции, который может быть произведен в стране в условиях полной занятости населения (при уровне естественной безработицы)
- в) максимальным объемом продукции, который может быть произведен в данных экономических условиях и при данных факторах производства

23. Для расчета вклада фирмы в созданный ВВП, исчисленный производственным методом, необходимо из рыночной стоимости реализованной продукции вычесть:

- а) все косвенные налоги
- б) нераспределенную прибыль
- в) амортизацию
- г) объем покупок материалов у других фирм

24. Рост государственных расходов увеличивает реальный ВВП только в том случае, если:

- а) государственные расходы направляются на закупки товаров и услуг, а не оплату труда чиновников
- б) государственные расходы сопровождаются увеличением предложения денег
- в) государственные расходы не вытесняют равновеликого объема расходов в негосударственном секторе
- г) государственные расходы финансируются за счет выпуска государственных займов

25. ВВП, рассчитанный по потоку расходов, и ВВП, рассчитанный по потоку доходов соотносятся следующим образом:

- а) ВВП по доходам равен ВВП по расходам
- б) ВВП по доходам больше ВВП по расходам в условиях экономического роста
- в) соотношение между ВВП по доходам и ВВП по расходам зависит от темпов инфляции за рассматриваемый период
- г) все ответы верны

26. Если общий уровень цен в стране за год существенно вырастет, а производство товаров и услуг не изменится, то при прочих равных условиях....:

- а) реальный валовой внутренний продукт (ВВП) увеличится
- б) номинальный ВВП уменьшится

- в) номинальный ВВП увеличится
- г) реальный уровень жизни в стране повысится

27. Из предложенных ниже определений понятия «валовой внутренний продукт» выберите наилучшее. Валовой внутренний продукт - это:

- а) рыночная стоимость всех конечных товаров и услуг, произведенных на территории страны в течение календарного года
- б) стоимость всех конечных товаров и услуг, купленных по рыночным ценам на территории страны в течение календарного года
- в) рыночная стоимость конечных товаров и услуг, произведенных жителями страны в течение календарного года
- г) рыночная стоимость страны в течение календарного года

28. Доходы, полученные владельцами факторов производства, в сумме составляют...

- а) валовый национальный продукт
- б) валовой внутренний продукт
- в) располагаемый доход
- г) национальный доход

Блок 2 «Уметь»

Тесты:

1. Определите прирост реального ВВП при условии, что в базовом и текущем году номинальный ВВП был равен 106 и 154 ден. ед. соответственно, а дефлятор ВВП составил 1,4.

2. В республике «W» номинальный ВВП в базовом году составил 3000 млн.руб. и в следующем году увеличился на 300 млн.руб. Если дефлятор ВВП составил 1,2, то:

- а) номинальный ВВП увеличится на 10%, реальный ВВП снизится на 18,3%
- б) номинальный ВВП снизится на 10%, реальный ВВП не изменится
- в) номинальный ВВП увеличится на 10%, реальный ВВП увеличится на 2%
- г) номинальный ВВП увеличится на 20%, реальный ВВП увеличится на 12%

3. ВВП увеличился с 500 млрд. руб. до 600 млрд. руб. Дефлятор ВВП увеличился со 125 до 150%. Величина реального ВВП:

- а) не изменится;
- б) увеличится;
- в) уменьшится;
- г) не может быть рассчитана на основе этих данных.

4. ВВП=5000 млрд. руб. Потребительские расходы=3200 млрд. руб. Государственные расходы=900 млрд. руб. Объем ЧВП составит:

- а) 820 млрд. руб.
- б) 1800 млрд. руб.
- в) 900 млрд. руб.
- г) определить на основе данной информации невозможно.

5. Если объем реального ВВП снизился на 6%, а численность населения в том же году сократилась на 3%, то:

- а) реальный ВВП на душу населения снизился;

- б) реальный ВВП на душу населения увеличился, а номинальный снизился;
- в) номинальный ВВП не изменился;
- г) цены упали на 3%.

6. Если расходы на потребление равны 60, валовые инвестиции 20, государственные закупки товаров и услуг 30, импорт 20, экспорт 10, амортизация 10, то валовой национальный продукт и чистый национальный продукт равны соответственно:

- а) 110 и 100;
- б) 100 и 90;
- в) 100 и 110;
- г) 120 и 110.

7. Дефлятор вырос с 1,4 до 2,6 при неизменном номинальном ВВП. Процентное изменение реального ВВП составит _____ (впишите правильный ответ)

8. Дефлятор вырос с 1,7 до 2,8 при неизменном номинальном ВВП. Процентное изменение реального ВВП составит _____ (впишите правильный ответ)

9. Дефлятор вырос с 1,5 до 2,4 при неизменном номинальном ВВП. Процентное изменение реального ВВП составит _____ (впишите правильный ответ)

10. Дефлятор вырос с 1,7 до 3,9 при неизменном номинальном ВВП. Процентное изменение реального ВВП составит _____ (впишите правильный ответ)

11. Дефлятор вырос с 1,3 до 1,9 при неизменном номинальном ВВП. Процентное изменение реального ВВП составит _____ (впишите правильный ответ)

12. Если номинальный ВВП равен 1100 дол., а реальный ВВП - 1000 дол., дефлятор ВВП составит:

- а) 9,09
- б) 90,91
- в) 1,1
- г) 110

13. Компания продала 20 единиц продукции по цене 1 тыс. дол., а ее затраты составили: на заработную плату - 1,5 тыс. дол., на покупку сырья и материалов - 3 тыс. дол. Величина добавленной стоимости равна:

- а) 18 тыс. дол.
- б) 17 тыс. дол.
- в) 15,5 тыс. дол.
- г) 13,5 тыс. дол.

14. Реальный ВВП страны А составил 1800 ден. ед. в 2011 году и 1980 ден. ед. в 2012 году. Определите темпы роста и темпы прироста экономики.

15. Известно, что стране заработная плата наемных работников составил 1600 ден. ед, трансфертные платежи – 300 ден. ед., амортизация- 400 ден. ед., нераспределенная прибыль – 100 ден. ед., прямые налоги – 400 ден. ед. Чему в данной ситуации равен ВВП страны?

16. Известны следующие показатели национального хозяйства:

ВНП	1200
Потребление домашних хозяйств	600
Чистые инвестиции частного сектора	100
Валовые инвестиции частного сектора	250
Государственные расходы	120
Избыток государственного бюджета	20

Определите располагаемый доход домашних хозяйств.

17. В отчетном году результаты социально-экономического развития страны отразились в следующих макроэкономических показателях (в денежном выражении, условные единицы):

Валовый национальный продукт (ВНП) – 150;

Амортизация основного капитала – 15;

Косвенные налоги – 5;

Трансфертные платежи – 3,0

Налоги с личного дохода населения – 7,5.

Определите национальный доход (НД).

18. В отчетном году результаты социально-экономического развития страны отразились в следующих макроэкономических показателях (в денежном выражении, условные единицы):

Валовый национальный продукт (ВНП) – 100;

Амортизация основного капитала – 10;

Косвенные налоги – 5;

Транспортные платежи – 2,5

Налоги с личного дохода населения – 7,5.

Определите располагаемый личный доход (РЛД).

19. Экономика страны в отчетном году достигла параметров, отраженных следующей системой макроэкономических показателей (в денежном выражении, в условных единицах):

Расходы населения на потребление товаров и услуг – 500;

Амортизационные отчисления – 56;

Чистые внутренние инвестиции – 70;

Государственные закупки товаров и услуг – 150;

Косвенные налоги – 36;

Чистый экспорт – 6.

Определите чистый национальный продукт (ЧНП).

20. ВНП = 6000 млрд. денежных единиц. Потребительские расходы = 320 млрд. денежных единиц. Государственные расходы = 800 млрд. денежных единиц. Чистый экспорт = 80 млрд. денежных единиц. Экспорт = 340 млрд. денежных единиц. Сумма амортизации = 150 млрд. денежных единиц. Определите объем импорта.

Тема 9. Рынок труда и безработица

Блок 1 «Знать»

Тесты:

1. Уровень безработицы - это:

- а) отношение численности безработных к численности рабочей силы
- б) сумма уровней фрикционной и структурной безработицы
- в) доля безработных, которая соответствует целесообразному уровню занятости

2. По состоянию здоровья инженер переехал в другой город и из-за переезда не работал полтора месяца. Это должно быть учтено при исчислении:

- а) как фрикционной, так и структурной безработицы
- б) циклической безработицы
- в) фрикционной безработицы
- г) структурной безработицы

3. Наталья Н., испортив отношения в коллективе, уволилась с работы машинисткой и потратила 3 недели на то, чтобы найти работу на компьютере. В период поиска Натальей работы ее следовало учесть при исчислении...

- а) как фрикционной, так и структурной безработицы
- б) циклической безработицы
- в) фрикционной безработицы
- г) структурной безработицы

4. За строительством электростанций, использующих нефть в качестве источника энергии, последовали закрытие ряда угольных шахт и массовое увольнение шахтеров. Это внесло вклад в увеличение...

- а) как фрикционной, так и циклической безработицы
- б) циклической безработицы
- в) фрикционной безработицы
- г) структурной безработицы

5. "Если человек в трудоспособном возрасте не работает, он является безработным". Это утверждение...

- а) неверно
- б) верно
- в) верно в том случае, если этот человек активно ищет работу
- г) верно в том случае, если этот человек не учится в общеобразовательной школе или на дневном отделении вуза

6. В период кризисного падения производства наблюдается:

- а) рост безработицы
- б) падение безработицы
- в) занятость остается неизменной

7. Уровень безработицы при полной занятости (естественный уровень безработицы):

- а) учитывает циклическую безработицу
- б) учитывает фрикционную и структурную безработицу
- в) равен нулю

8. Измеряемая безработица может быть ниже фактической безработицы, так как:

- а) измеряемая безработица не включает фрикционных безработных
- б) некоторые работники хотели бы найти работу, но отчаялись и прекратили поиски
- в) некоторые из тех лиц, которые называют себя безработными, просто не занимались поиском работы
- г) измеряемая безработица не включает в себя подростковую безработицу

9. Что из перечисленного ниже может сократить размеры структурной безработицы?

- а) увеличение пособий по безработице
- б) увеличение налогов на корпорации
- в) государственные программы по профессиональной переподготовке
- г) увеличение размеров минимальной заработной платы
- д) сокращение денежной массы

10. Если правительство преследует цель снизить естественный уровень безработицы в экономике, то все нижеперечисленные меры макроэкономической политики будут одобрены в парламенте, за исключением:

- а) повышение уровня пособий по безработице
- б) функционирование государственных служб занятости
- в) введение государственных программ профессиональной переподготовки
- г) введение бонусных программ страхования по безработице для лиц которые быстро находят новые рабочие места

11. Рынок труда - это:

- а) Статическая система, включающая в себя комплекс социально-трудовых отношений по поводу условий найма, использования и обмена рабочей силы на жизненные средства
- б) Механизм спроса и предложения, функционирующий на основе информации, поступающей в виде изменений цены труда (заработной платы)
- в) Динамическая система, включающая в себя комплекс социально-трудовых отношений по поводу условий найма, использования и обмена рабочей силы на жизненные средства

12. Структура рынка труда включает:

- а) Объекты рынка труда
- б) Рыночный механизм
- в) Конкуренцию
- г) Субъекты рынка труда

13. Рынок труда — это только те товарно-денежные отношения, которые связаны:

- а) Со временем формирования рабочей силы
- б) Со временем использования рабочей силы
- в) Со спросом на рабочую силу, определяемым спросом на товар в обществе
- г) С использованием профессиональных востребованных способностей и их вознаграждением

Блок 2 «Уметь»

Тесты:

1. Известно, что в стране население в трудоспособном возрасте составляет 76 млн. чел., служащие в армии - 4 млн. чел., домохозяйки - 3 млн. чел., пенсионеры - 5 млн. чел., 6 млн. чел. бездомных бродяг не работают и не ищут работу, 5 млн. чел. заняты в теневой экономике и не ищут работу, 1 млн. студентов ищут сезонную работу. Численность занятых в стране составляет 52 млн. чел.

Уровень безработицы составит:

- а) 24 млн. чел.
- б) 20 млн. чел.
- в) 14 млн. чел.
- г) недостаточно информации.

2. Какое из приведенных утверждений является правильным?

"Если человек в трудоспособном возрасте не работает, он является безработным".

Это утверждение

- а) безусловно, верно
- б) безусловно, неверно
- в) верно, если этот человек не учится в общеобразовательной школе или на дневном отделении вуза
- г) верно, если этот человек активно ищет работу, зарегистрировавшись в районной службе по трудоустройству

3. Какое из приведенных утверждений является правильным?

Человек, который болен и временно не работает, относится к категории:

- а) фрикционно безработных
- б) скрыто безработных
- в) не включается в общую численность рабочей силы
- г) занятых

4. Какое из приведенных утверждений является правильным?

Работник, уволившийся добровольно, ищущий, но еще не нашедший работу, попадает в категорию:

- а) фрикционно безработных;
- б) скрыто безработных;
- в) структурно безработных;
- г) вне рабочей силы.

5. Установите соответствие между понятием и его определением:

- 1. Фрикционная безработица
- 2. Структурная безработица
- 3. Технологическая безработица
- 4. Естественный уровень безработицы
- 5. Полная занятость
- 6. Циклическая безработица
- 7. Скрытая безработица

А. Уровень безработицы, который складывается когда существует только фрикционная и структурная форма безработицы.

Б. Безработица, которая вызвана несоответствием структуры рабочей силы структуре спроса на нее, т.е. структуре рабочих мест.

- В. Форма безработицы, связанная с теми случаями, когда люди работают неполную рабочую неделю или когда они не регистрируются на бирже труда, как безработные.
- Г. Уровень занятости, при котором существует только фрикционная и структурная безработица.
- Д. Разновидность структурной безработицы, связанная с введением в производство трудосберегающего оборудования.
- Е. Форма безработицы, связанная с переходом рабочих с одного предприятия на другое.
- Ж. Безработица, которая возникает и растёт во время циклического спада.

6. Установите соответствие между понятием и его определением:

1. Трудоспособное население
2. Нетрудоспособное население
3. Экономически активное население
4. Добровольно незанятые
5. Занятые
6. Безработные
7. Норма безработицы

- А. Часть трудоспособного населения, которая работает по найму, занимается частным бизнесом, находится на государственной службе или учится.
- Б. Часть населения страны, остающаяся за вычетом нетрудоспособного населения.
- В. Отношение числа безработных к сумме занятых и безработных.
- Г. Часть населения страны в возрасте до 16 лет и в пенсионном возрасте.
- Д. Часть экономически активного населения, которая не имеет работы, но которая намерена работать и ищет работу.
- Е. Часть трудоспособного населения, включающая занятых и безработных.
- Ж. Часть трудоспособного населения, которая остается за вычетом экономически активного населения.

7. Верны ли следующие суждения о безработице?

- А. Безработица является закономерным следствием рыночного регулирования экономики.
- Б. В каждой стране устанавливается свой неизменный в течение многих десятилетий уровень безработицы.
- а) верно только А
- б) верно только Б
- в) верны оба суждения
- г) оба суждения неверны

8. Верны ли следующие суждения о безработице?

- А. Безработным является любой неработающий человек.
- Б. Безработица усиливается в период экономического кризиса.
- а) верно только А
- б) верно только Б
- в) верны оба суждения
- г) оба суждения неверны

9. В стране А. во время экономического кризиса многие граждане потеряли работу. Длительное время не могут ее найти и перебиваются временными, случайными зара-

ботками. Выберите из приведенного ниже списка характеристики безработицы в стране А. и запишите цифры, под которыми они указаны.

- а) фрикционная
- б) сезонная
- в) открытая
- г) циклическая
- д) скрытая
- е) структурная

10. Верны ли следующие суждения о безработице?

А. К безработным относятся все люди трудоспособного возраста, не имеющие работы.

Б. Безработица присуща всем экономическим системам.

- а) верно только А
- б) верно только Б
- в) верно и А, и Б
- г) оба суждения неверны

11. Определите размер вынужденной безработицы, если население области составляет 30 млн. человек, из них 10 млн. – нетрудоспособные и дети. Уровень безработицы составляет 7%, а уровень естественной безработицы – 5%.

12. Определите количество трудоспособного населения области, если все население составляет 10,5 млн. человек, количество фрикционной безработицы – 100 тыс., структурной безработицы – 200 тыс. и вынужденной безработицы – 300 тыс. Норма естественной безработицы составляет 5%.

Тема 10. Деньги, банки, инфляция

Блок 1 «Знать»

Тесты:

1. Финансовый посредник, осуществляющий деятельность по приему депозитов, предоставлению ссуд, организации расчетов, купле и продаже ценных бумаг:

- а) Эмиссионный банк.
- б) Кредитоспособность.
- в) Банк.
- г) Кредитный договор.

2. Банк, обладающий правами на выпуск (эмиссию) национальных денежных единиц и регулирование денежного обращения в стране:

- а) Эмиссионный банк.
- б) Кредитоспособность.
- в) Банк.
- г) Кредитный договор.

3. Все виды денежных средств, переданные их владельцами на временное хранение в банк с предоставлением ему права использовать эти деньги для кредитования:

- а) Эмиссионный банк.
- б) Кредитоспособность.
- в) Банк.

- г) Кредитный договор.
- д) Возвратные ресурсы.
- е) Депозит.

4. Соглашение между банком и тем, кто одалживает у него деньги (заемщиком), определяющее обязанности и права каждой из сторон, и прежде всего: срок предоставления кредита, плату за пользование им и гарантии возврата денег банку:

- а) Эмиссионный банк.
- б) Кредитоспособность.
- в) Банк.
- г) Кредитный договор.
- д) Возвратные ресурсы.

5. Наличие у заемщика готовности и возможности вовремя выполнить свои обязательства по кредитному договору, то есть вернуть основную сумму займа и выплатить проценты по нему:

- а) Эмиссионный банк.
- б) Кредитоспособность.
- в) Банк.
- г) Кредитный договор.

6. Собственность заемщика, которую он передает под контроль или в распоряжении банка, разрешая ее продать, если он сам не сможет вернуть долг:

- а) Залог.
- б) Чековый счёт.
- в) Вексель.
- г) Частичные резервы.

7. Безусловное обязательство одного лица другому уплатить фиксированную сумму денег в определенные моменты времени:

- а) Залог.
- б) Чековый счёт.
- в) Вексель.
- г) Частичные резервы.

8. Предложение денег в общем виде можно определить как:

- а) сумму резервов коммерческих банков и наличности вне банковской системы
- б) сумму наличности и депозитов
- в) разность депозитов коммерческих банков и их резервов
- г) сумму депозитов и резервов коммерческих банков

9. В соответствии с портфельными теориями, спрос на деньги положительно зависит от:

- а) реальных ожидаемых доходов по акциям
- б) реального накопленного богатства
- в) реальных ожидаемых доходов по облигациям
- г) ожидаемой инфляции

10. Что из нижеперечисленного не является частью M1:

- а) наличные деньги в обращении

- б) депозиты до востребования
- в) наличные деньги в хранилищах банка
- г) чеки путешественников

11. Все нижеследующее является функцией Центрального банка за исключением:

- а) эмиссии денег
- б) поддержание стабильности денежного обращения
- в) операции на открытом рынке
- г) прием вкладов у населения
- д) кассовое обслуживание фирм
- е) регулирование ставки процента

12. Предложение денег в стране может увеличиться под влиянием следующих факторов кроме:

- а) увеличения коэффициента депонирования (отношение наличные деньги–депозиты)
- б) увеличения денежной базы
- в) увеличения денежного мультипликатора
- г) уменьшения ставки рефинансирования

13. Расположите следующие активы в соответствии со степенью их ликвидности:

- а) срочные депозиты
- б) наличные деньги
- в) государственные краткосрочные облигации
- г) акции нефтяной компании «Лукойл»

14. В соответствии с грубой количественной теорией денег изменение в предложении денег приводит к:

- а) увеличению скорости обращения денег
- б) пропорциональному росту уровня цен
- в) росту реального ВВП
- г) падению реального ВВП

15. Если скорость обращения денег фиксировать, то:

- а) предложение денег не оказывает никакого влияния на экономику
- б) изменения в предложении денег могут вызвать изменения в номинальном ВВП
- в) фискальная политика может воздействовать на экономику независимо от предложения денег
- г) экономика всегда находится в состоянии полной занятости

16. Функцией Центрального банка не являются:

- а) выдача кредитов коммерческим банкам
- б) эмиссия денег
- в) изменение налоговых ставок
- г) хранение золотовалютных резервов

17. К операциям, осуществляемым коммерческими банками, не относится:

- а) предоставление кредитов населению и другим банкам
- б) прием вкладов от населения
- в) покупка ценных бумаг
- г) эмиссия денег

18. Учетная ставка – это:

- а) ставка, по которой Центральный банк кредитует коммерческие банки
- б) ставка, по которой Центральный банк кредитует друг друга
- в) ставка, по которой банки кредитуют нефинансовые корпорации
- г) нет верного ответа

19. Инструментом кредитно-денежной политики не является:

- а) норма обязательных резервов
- б) учетная ставка процента
- в) государственные закупки товаров и услуг
- г) операции на открытом рынке

20. Укажите, какое из приведенных здесь утверждений является правильным. Инфляция – это:

- а) долговременное повышение цен на небольшую группу отдельных товаров;
- б) долговременное повышение общего уровня цен на товары и услуги;
- в) кратковременное (сезонное) повышение общего уровня цен на всё или большую часть товаров и услуг.

21. К причинам, вызывающим инфляцию, относится:

- а) исполнение государственного бюджета с профицитом
- б) расширение рынка труда
- в) рост дефицита государственного бюджета
- г) увеличение выпуска товаров

22. Последствия инфляции для потребителя проявляются в том, что

- а) повышается покупательная способность
- б) увеличиваются расходы государства на социальные выплаты
- в) увеличивается потребительский бюджет;
- г) снижаются реальные доходы.

Блок 2 «Уметь»

Тесты:

1. Если реальная ставка процента упадет на 1%, а темп инфляции увеличится на 2%, то в соответствии с эффектом Фишера номинальная ставка процента:

- а) упадет на 3%;
- б) увеличится на 1%;
- в) увеличится на 2%;
- г) упадет на 1%.

2. Если годовой уровень инфляции равен 7%, а падение реального ВВП равно 4% (с точностью до 0,1%), процентное изменение номинального ВВП за год составит _____ (впишите правильный ответ).

3. Если годовой уровень инфляции равен 10%, а падение реального ВВП равно 9% (с точностью до 0,1%), процентное изменение номинального ВВП за год составит _____ (впишите правильный ответ).

4. Если годовой уровень инфляции равен 5%, а падение реального ВВП равно 2% (с точностью до 0,1%), процентное изменение номинального ВВП за год составит _____ (впишите правильный ответ).

5. Если годовой уровень инфляции равен 9%, а падение реального ВВП равно 5% (с точностью до 0,1%), процентное изменение номинального ВВП за год составит _____ (впишите правильный ответ).

6. Если годовой уровень инфляции равен 5%, а падение реального ВВП равно 4% (с точностью до 0,1%), процентное изменение номинального ВВП за год составит _____ (впишите правильный ответ).

7. Месячный уровень инфляции неизменен в течение года и составил 8%. Годовой уровень инфляции составит _____ (впишите правильный ответ).

8. В декабре цены выросли на 20%, а в январе упали на 19%. Определите уровень инфляции (дефляции) за два месяца _____ (впишите правильный ответ)

9. Если уровень инфляции в январе равен 10%, а в феврале 20%. Найти уровень инфляции за период январь – февраль _____ (впишите правильный ответ)

10. Согласно уравнению количественной теории денег, если количество денег увеличивается на 5%, а скорость оборота на 3%, то:

- а) реальный доход увеличится на 2%;
- б) уровень цен увеличится на 5%;
- в) норма номинального процента увеличится на 3%;
- г) номинальный доход увеличится примерно на 8%.

11. Если номинальный ВВП равен 5 000 ден.ед., одна денежная единица совершает в год в среднем 2,5 оборота, а спекулятивный спрос на деньги составляет 400 ден.ед., то общий спрос на деньги достигнет величины:

- а) 5400 ден.ед.;
- б) 2400 ден.ед.;
- в) 2000 ден.ед.;
- г) 400 ден.ед.

12. Реальный объем производства составляет 28 млн.ед., а скорость обращения денежной единицы равна 7. Масса реальных денег в экономике достигнет величины:

- а) 1 млн.;
- б) 2 млн.;
- в) 3 млн.;
- г) 4 млн.

13. Определите уровень инфляции за 4 года, если она составляла по годам: 2012 г. – 25%; 2013 г. – 60%; 2014 г. – 50%; 2015 г. – 100%.

14. Определите средний темп инфляции, если она составляла по годам: 1-й г. – 20%; 2-й г. – 30%; 3-й г. – 40%; 4-й г. – 50%.

Тема 11. Международная экономика

Блок 1 «Знать»

Тесты:

1. Покупка жителями одной страны товаров, изготовленных в других государствах:

- а) Принцип абсолютного преимущества.
- б) Экономические циклы.
- в) Экспорт.
- г) Экономическое развитие.
- д) Импорт.
- е) Интенсивный рост.

2. Продажа жителями других стран товаров, произведенных отраслями отечественной экономики:

- а) Принцип абсолютного преимущества.
- б) Экономические циклы.
- в) Экспорт.
- г) Экономическое развитие.

3. Страны выигрывают от торговли друг с другом, если каждая из них специализируется на производстве товаров, которые она может изготавливать с абсолютно меньшими затратами ресурсов, чем ее торговые партнеры:

- а) Принцип абсолютного преимущества.
- б) Экономические циклы.
- в) Экспорт.
- г) Экономическое развитие.

4. Каждой стране выгоднее экспортировать те товары, для которых цены выбора у нее относительно ниже, чем в других странах:

- а) Таможенная пошлина.
- б) «Золотой стандарт».
- в) Протекционизм.
- г) Валютный (обменный) курс.
- д) Принцип относительного преимущества.
- е) Международная зона свободной торговли.

7. Государственная экономическая политика, сутью которой является защита отечественных производителей товаров от конкуренции со стороны фирм других стран с помощью установления различного рода ограничений на импорт:

- а) Таможенная пошлина.
- б) «Золотой стандарт».
- в) Протекционизм.
- г) Валютный (обменный) курс.

8. Налог в пользу государства, взимаемый при пересечении границы с владельца товаров иностранного производства, ввозимого в страну для продажи:

- а) Таможенная пошлина.
- б) «Золотой стандарт».
- в) Протекционизм.
- г) Валютный (обменный) курс.

9. Группа стран, в пределах которых товары, люди и капиталы могут перемещаться почти или вообще без ограничений и пошлины:

- а) Таможенная пошлина.
- б) «Золотой стандарт».
- в) Протекционизм.
- г) Валютный (обменный) курс.
- д) Принцип относительного преимущества.
- е) Международная зона свободной торговли.

10. Цена одной национальной денежной единицы, выраженная в денежных единицах других стран:

- а) Таможенная пошлина.
- б) «Золотой стандарт».
- в) Протекционизм.
- г) Валютный (обменный) курс.
- д) Принцип относительного преимущества.

11. Механизм обмена национальных валют пропорционально весу золота, который объявлялся обеспечением номинала денежных знаков:

- а) Таможенная пошлина.
- б) «Золотой стандарт».
- в) Протекционизм.

12. Официальное снижение государством курса обмена своих денежных знаков на валюты других стран, то есть увеличение количества этих знаков, которое можно получить за единицу иностранной валюты:

- а) Валютный (обменный) курс.
- б) Девальвация валюты.
- в) Экономические циклы.
- г) Валютный коридор.
- д) Кредитная эмиссия.

13. Устанавливаемые государством верхняя и нижняя границы колебаний курса рубля на валютном рынке, соблюдение которых обеспечивается за счет продажи или скупки валюты на этом рынке Центральным банком:

- а) Валютный (обменный) курс.
- б) Девальвация валюты.
- в) Экономические циклы.
- г) Валютный коридор.
- д) Кредитная эмиссия.

Блок 2 «Уметь»

Тесты:

1. Определить каким будет средний курс евро к швейцарскому франку, если исходить из их средних курсовых соотношений с долларом США. При этом: X швейцарских франков = 100 евро; 5125 евро = 1 доллар США; 1 доллар США = 1,3140 швейцарских франков.

2. Определить, каким будет средний курс фунта стерлингов к швейцарскому франку исходя из средних курсов этих валют к доллару. При этом:

X швейцарских франков = 1 фунту стерлингов

1 фунт стерлингов = 1,6950 долларов США

1 доллар США = 1,3140 швейцарских франков

3. Чему равен кросс-курс швейцарского франка к шведской кроне, если:

X швейцарского франка = 100 шведским кронам

3,7946 шведских крон = 1 доллару США

доллар США = 1,9872 швейцарского франка

4. Страны X и Y имеют устойчивые торговые отношения. Предположим, что потребители стран X и Y привержены своим привычкам и покупают импортные товары в неизменном объеме при любых обстоятельствах. Валюта страны X девальвировала относительно валюты страны X на 20 %. Как это отразится на балансе счета текущих операций стран X и Y?

5. Допустим, что Россия производит 360 электровозов и 2400 вагонов, а Украина — 160 электровозов и 800 вагонов. Если бы Россия производила только электровозы, то их ежегодный выпуск составил бы 600 шт., а если бы только вагоны, то выпустила бы их 6000 шт. Соответственно, Украина могла бы производить либо 200 электровозов, либо 4000 вагонов. Определите, какая страна обладает абсолютным и сравнительным преимуществом в производстве этих видов продукции; к каким выгодам приводит специализация.

6. Имеются следующие косвенные котировки валют: в Москве 1 российский рубль = 0,0387 долл. США; в Афинах 100 греческих драхм = 325,0562 евро. Дайте прямые котировки валют.

7. Курс рубля (RUR) к USD составляет 30,00 руб. за 1 долл. Курс фунта стерлингов составляет 1,40 USD за один GBR. Рассчитайте курс RUR к фунту.

Максимальная сумма баллов, набираемая студентом по дисциплине «Экономика» равна 100.

Оценка в баллах	Оценка по шкале	Обоснование	Уровень сформированности умений и навыков
Более 80	«Отлично»	Содержание курса освоено полностью, без пробелов, необходимые практические навыки работы с освоенным материалом сформированы, все предусмотренные программой обучения учебные задания выполнены, качество их выполнения оценено числом баллов, близким к максимальному	Высокий уровень
66-80	«Хорошо»	Содержание курса освоено полностью, без пробелов, некоторые практические навыки работы с освоенным материалом сформированы недостаточно, все предусмотренные программой обучения учебные задания выполнены, качество выполнения ни одного из них не оценено минимальным числом баллов, некоторые виды заданий выполнены с ошибками	Продвинутый уровень
50-65	«Удовлетворительно»	Содержание курса освоено частично, но пробелы не носят существенного характера, необходимые практические навыки работы с освоенным материалом в основном сформированы, большинство предусмотренных программой обучения учебных заданий выполнено, некоторые из выполненных заданий, возможно, содержат ошибки	Пороговый уровень
Менее 50	«Неудовлетворительно»	Содержание курса не освоено, необходимые практические навыки работы не сформированы, выполненные учебные задания содержат грубые ошибки	Умения и навыки не сформированы